



ПОДорожуємо Україною. Природа України

1. Познач правильну відповідь.

- Лінії на карті, що вказують напрямок «північ — південь», називають ...
А меридіанами
Б паралелями
В полюсами
- Якщо опівдні стати спиною до Сонця, то ліворуч буде ...
А схід **Б** захід **В** північ
- Зменшене узагальнене зображення невеликої ділянки земної поверхні — це ...
А глобус
Б географічна карта
В план місцевості

2. З'єднай лініями.



фруктовий сад

річка

шосе


будівлі

міст

3. Підкресли назви місцевості, де добре видно лінію горизонту.

Поле, місто, гори, степ, море, ліс, лука, село.

4. За поданим планом і масштабом визнач реальні розміри саду.



Масштаб: *в 1 см 20 м*

Довжина _____

Ширина _____

5. Запиши відповідь на запитання.




Як орієнтуватися на місцевості без компаса?

ПОДОРОЖУЄМО УКРАЇНОЮ. ПРИРОДА УКРАЇНИ

1. Познач правильну відповідь.

- Лінії на карті, які вказують напрямок «захід — схід», називають ...
А паралелями
Б полюсами
В меридіанами
- Якщо опівдні стати спиною до Сонця, то позаду буде ...
А південь **Б** схід **В** північ
- Зменшене зображення земної поверхні на площині, на якому географічні об'єкти позначено умовними знаками, — це ...
А глобус
Б малюнок
В географічна карта

2. З'єднай лініями.



мішаний ліс

будівлі

шосе


стежка

луки

3. Підкресли назви місцевості, де погано видно лінію горизонту.

Степ, поле, місто, море, ліс, лука, село, гори.

4. За поданим планом і масштабом визнач розміри городу.



Масштаб: в 1 см 10 м

Довжина _____

Ширина _____

5. Запиши відповідь на запитання.

Як визначити сторони горизонту за місцевими ознаками?

КУЛЬТУРНА СПАДЩИНА УКРАЇНИ. БАГАТСТВА УКРАЇНИ

1. Познач правильну відповідь.

- Скам'янілі рештки рослин і тварин, залишки житла, знаряддя праці людей — це ...
 - писемні джерела історії
 - речові джерела історії
 - усні джерела історії
- Родовища торфу в Україні є на території ...
 - Луганської та Донецької областей
 - Волинської та Рівненської областей
 - Сумської та Полтавської областей
- Архітектурні споруди, храми, монастирі це ...
 - об'єкт культурної спадщини України
 - історичні джерела
 - пам'ятки природи України

2. Познач знаком «+» правила користування електроприладами.

- Не користуватися електроприладами без нагляду дорослих.
- Вмикати електричні прилади сухими руками.
- Залишати ввімкнені електроприлади без нагляду.
- Одночасно вмикати багато електроприладів.
- Не вставляти в розетку цвяхи чи інші металеві предмети.

3. З'єднай лініями.

Чорноземні ґрунти

- Малородючі, бідні на перегній
- Мають чорний колір
- Мають світло-сірий колір
- Утворюються там, де росте багато трав'янистих рослин
- Утворюються там, де ростуть мішані ліси
- Дуже родючі, багаті на перегній

Підзолисті ґрунти

4. Допиши речення.

Відновлюваними джерелами енергії називають ті, які _____

До відновлюваних джерел енергії належать: _____

5. Запиши відповідь на запитання.

Які рудні корисні копалини видобувають в Україні? _____

Для чого їх використовують? _____

КУЛЬТУРНА СПАДЩИНА УКРАЇНИ. БАГАТСТВА УКРАЇНИ

1. Познач правильну відповідь.

1. Написи на скелях, рукописи, документи, літописи, листи — це ...
А писемні джерела історії
Б усні джерела історії
В речові джерела історії
2. Родовища нафти та природного газу в Україні є на території ...
А Луганської та Донецької областей
Б Волинської та Рівненської областей
В Сумської та Полтавської областей
3. Об'єктами культурної спадщини України є ...
А заводи і фабрики
Б картини, пам'ятники, книги
В родовища корисних копалин

2. Познач знаком «+» правила користування електроприладами.

- Не залишати без нагляду ввімкнені електричні прилади.
- Користуватися електроприладами в присутності батьків.
- Вмикати в одну розетку кілька електроприладів.
- Не тягнути за електричний шнур.
- Користуватися несправними електричними приладами.

3. З'єднай лініями.

Сірі лісові ґрунти

- Дуже родючі, багаті на перегній
- Малородючі, вміст перегною незначний
- Мають чорний колір
- Утворюються там, де росте багато трав'янистих рослин
- Утворюються там, де ростуть широколисті ліси
- Мають сірий колір

Чорноземні ґрунти

4. Допиши речення.

Невідновлюваними джерелами енергії називають ті, які _____

До невідновлюваних джерел енергії належать: _____

5. Запиши відповіді на запитання.

Які паливні корисні копалини видобувають в Україні? _____

Для чого їх використовують? _____

ПРИРОДНІ ЗОНИ УКРАЇНИ

1. Познач правильну відповідь.

1. Поблизу Північного полюса Землі розміщений ...

- А** помірний тепловий пояс
- Б** холодний тепловий пояс
- В** тропічний тепловий пояс

2. Зона степу розташована на ...

- А** півночі України
- Б** заході України
- В** півдні України

3. За висотою Українські Карпати — це ...

- А** високі гори
- Б** середні гори
- В** низькі гори

2. Познач знаком «+» правильні твердження.

- Найвища вершина Кримських гір — Роман-Кош.
- Високогірні луки Карпат називають полонинами.
- Біля підніжжя Кримських гір ростуть хвойні ліси.
- У Карпатах водяться ведмідь бурий, беркут, глухар.
- У Кримських горах ростуть фісташка, ялівець, тис.
- Що вище підніматися в гори, то ставатиме тепліше.

3. З'єднай лініями назви природних зон із назвами рослин, які там вирощують.

Степ

цукровий буряк, ячмінь, просо,
озима пшениця

Лісостеп

льон, картопля, озиме жито,
буряк

Мішані ліси

кукурудза, виноград, соняшник,
персик, кавун

4. Заповни таблицю.

<i>Рослини зони степу</i>	<i>Тварини зони степу</i>

5. Охарактеризуй природну зону мішаних лісів за поданим планом.

У якій частині України розташована? _____

Які форми земної поверхні переважають? _____

Яке літо? _____

Яка зима? _____

Яка кількість опадів? _____

ПРИРОДНІ ЗОНИ УКРАЇНИ

1. Познач правильну відповідь.

- По обидва боки від екватора Землі розміщений ...
А тропічний тепловий пояс
Б помірний тепловий пояс
В холодний тепловий пояс
- Зона мішаних лісів розташована на ...
А заході України
Б півдні України
В півночі України
- За висотою Кримські гори — це ...
А високі гори
Б низькі гори
В середні гори

2. Познач знаком «+» правильні твердження.

- Найбільшим гірським озером Карпат є Синевир.
- Що вище підніматися в гори, то ставатиме холодніше.
- У Карпатах ростуть суничник, фісташка, мигдаль.
- Гірські луки в Кримських горах називають полонинами.
- Найвища гора українських Карпат — Говерла.
- У Кримських горах живуть муфлони, олені плямисті.

3. З'єднай лініями назви природних зон із назвами заповідників, які там розташовані.

Лісостеп •

Поліський заповідник

Мішані ліси •

Асканія-Нова

Степ •

Канівський заповідник

4. Заповни таблицю.

<i>Рослини зони мішаних лісів</i>	<i>Тварини зони мішаних лісів</i>

5. Охарактеризуй природну зону степу за планом.

У якій частині України розташована? _____

Які форми земної поверхні переважають? _____

Яке літо? _____

Яка зима? _____

Яка кількість опадів? _____

ПРИРОДА ГОЛУБОЇ ПЛАНЕТИ

1. Познач правильну відповідь.

1. Безперервний водний простір земної кулі, обмежений материками та островами, називають ...

А морем

Б Світовим океаном

В океаном

2. Найбільшим і найглибшим океаном на Землі є ...

А Тихий

Б Північний Льодовитий

В Атлантичний

3. Найтепліший океан на Землі є ...

А Індійський

Б Північний Льодовитий

В Тихий

2. Запиши назви тварин, які живуть у Тихому океані.

3. З'єднай лініями назви океанів з їхніми характеристиками.

Північний
Льодовитий
океан

Індійський
океан

Тихий
океан

У теплих водах цього океану водяться слонови черепахи, корали, морські змії

У цьому океані живе найбільша тварина на Землі — синій кит

На узбережжі цього океану можна зустріти білих ведмедів

4. Користуючись фізичною картою півкуль, запиши, які океани омивають береги Євразії.

5. Запиши відповідь на запитання.

У якому океані на Землі найбільш багатий рослинний і тваринний світ? Чому?

ПРИРОДА ГОЛУБОЇ ПЛАНЕТИ

1. Познач правильну відповідь.

1. Великі ділянки суходолу, які з усіх боків омивають води морів й океанів, називають ...

- А** островами
- Б** півостровами
- В** материками

2. Найхолоднішим океаном на Землі є ...

- А** Тихий
- Б** Атлантичний
- В** Північний Льодовитий

3. Найменший і наймілководніший океан на Землі ...

- А** Індійський
- Б** Північний Льодовитий
- В** Атлантичний

2. Запиши назви тварин, які живуть в Атлантичному океані.

3. З'єднай лініями назви океанів з їхніми характеристиками.

Індійський океан

Атлантичний океан

Тихий океан

На півночі цього океану розташований найбільший острів на планеті — Гренландія

Цей океан є найбільшим і найглибшим на Землі

Цей океан — є найтепліший з усіх океанів

4. Користуючись фізичною картою півкуль, запиши, береги яких материків омиває Індійський океан.

5. Запиши відповідь на запитання.

У якому океані на Землі найбагатший рослинний і тваринний світ? Чому?

ПРИРОДА МАТЕРИКІВ

1. Познач правильну відповідь.

1. Пінгвіни, поморники, буревісники, баклани живуть в ...

- А Антарктиді
- Б Південній Америці
- В Африці

2. Найменшим материком на Землі є ...

- А Австралія
- Б Північна Америка
- В Антарктида

3. Єдиним материком на Землі, на якому представлені всі природні зони, є ...

- А Африка
- Б Північна Америка
- В Євразія

2. Підкресли назви рослин, які ростуть в Африці.

Вікторія регія, сосна, фінікова пальма, чорне дерево, баобаб, гевея, папая, евкаліпт, динне дерево, полярна верба, какао, фікус, зонтична акація, береза, підсніжник, ліана.

3. З'єднай лініями назви материків з їхніми характеристиками.

Північна
Америка

Африка

Австралія

Тут є савани, вкриті високою травою і заселені тваринами

Тут живуть кенгуру, качкодзьоб, єхидна, вомбат, ростуть евкаліпти

Тут є арктичні пустелі, тундра, тайга, мішані і широколисті ліси, степи, пустелі

4. Запиши назви тварин, які живуть в Австралії.

5. Запиши відповідь на запитання.

На якому материку Землі найбільш розвинений рослинний і тваринний світ? Чому?

ПРИРОДА МАТЕРИКІВ

1. Познач правильну відповідь.

1. Найбільшим материком на Землі є ...

А Австралія

Б Євразія

В Північна Америка

2. Найхолоднішим материком на Землі є ...

А Південна Америка

Б Африка

В Антарктида

3. Качкодзьоб, страус ему, єхидна, кенгуру живуть в ...

А Африці

Б Австралії

В Євразії

2. Підкресли назви рослин, які ростуть в Австралії.

Евкалипт, ялина, пляшкове дерево, кебрачо, акація, кавове дерево, верба, клен, ананас, араукарія, деревоподібна папороть, папая, бамбук, кульбаба, ліана, лишайник.

3. З'єднай лініями назви материків з їхніми характеристиками.

Антарктида •

Південна
Америка •

Євразія •

• Тут у вологих тропічних лісах біля річки Амазонка водяться ягуари і лінивці

• Тут є тундра, тайга, мішані й широколистяні ліси, степи, пустелі, вологі тропічні ліси

• Тут завжди холодно й живуть пінгвіни

4. Запиши назви тварин, які живуть у Північній Америці.

5. Запиши відповідь на запитання.

На якому материку Землі найбагатший рослинний і тваринний світ? Чому? _____

ВСЕСВІТ І СОНЯЧНА СИСТЕМА

1. Познач правильну відповідь.

1. Невелике холодне небесне тіло, що рухається навколо Сонця ядро якого складається з пилу й льоду, — це ...
А планета **Б** метеорит **В** комета
2. Проміжок часу, за який Земля робить повний оберт навколо Сонця, називають ...
А місяцем **Б** роком **В** добою
3. Сонце найвище впродовж року стоїть над горизонтом ...
А 21 березня **Б** 22 червня **В** 22 грудня

2. З'єднай лініями.

Мала
Ведмедиця

Меркурій

Сонце

Місяць

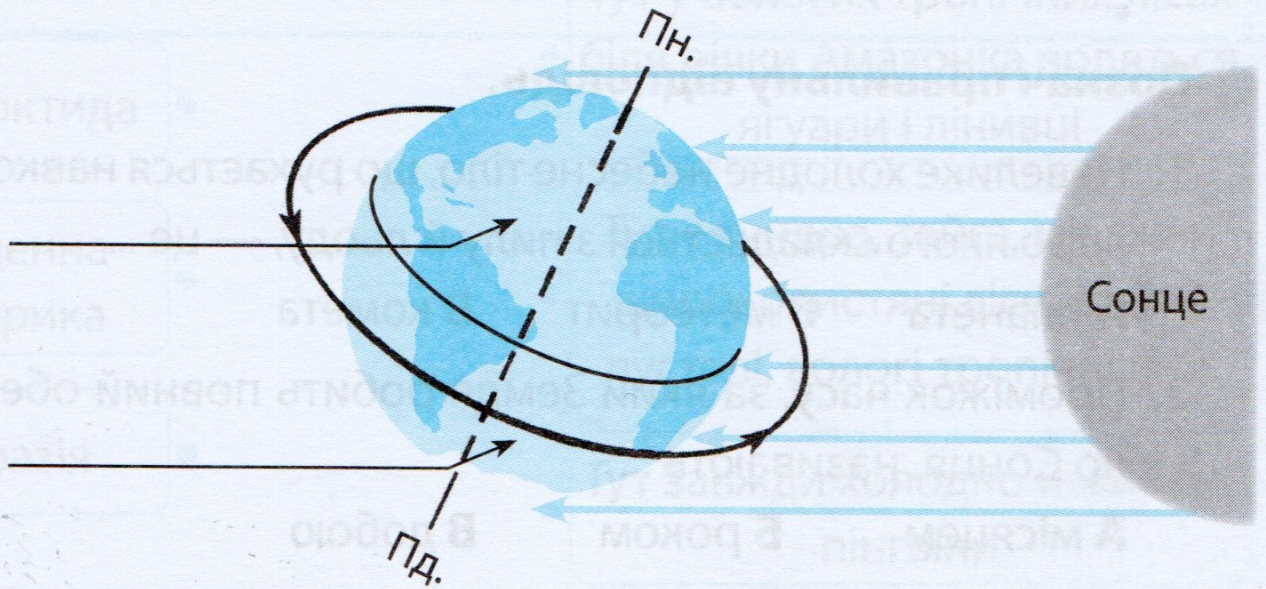
зоря

сузір'я

супутник

планета

3. Визнач за малюнком, які пори року в Північній та Південній півкулях. Підпиши.



4. Запиши назви планет-гігантів.

5. Запиши відповідь на запитання.

Чому на Землі відбувається зміна пір року?

ВСЕСВІТ І СОНЯЧНА СИСТЕМА

1. Познач правильну відповідь.

- Уламки космічних тіл, які впали на поверхню Землі, називають ...
А сузір'ями
Б астероїдами
В метеоритами
- Проміжок часу, за який Земля робить повний оберт навколо осі, називають ...
А роком **Б** добою **В** днем
- Сонце найнижче впродовж року стоїть над горизонтом ...
А 22 грудня
Б 23 вересня
В 22 червня

2. З'єднай лініями.

галактика

планета

зоря

супутник

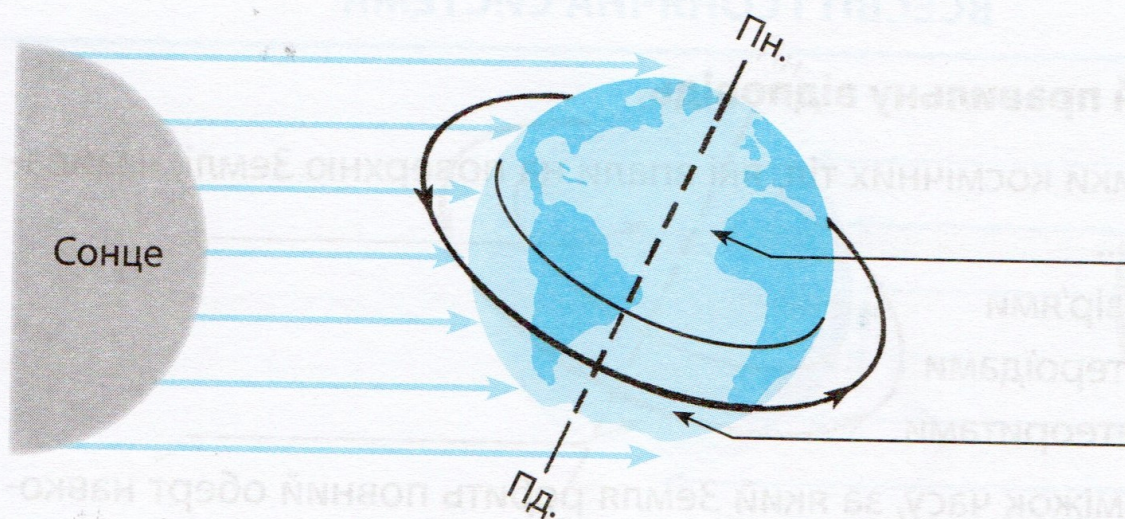
Юпітер

Сонце

Місяць

Молочний
Шлях

3. Визнач за малюнком, які пори року в Північній та Південній півкулях. Підпиши.



4. Запиши назви планет земної групи.

5. Запиши відповідь на запитання.

Чому на Землі відбувається зміна дня і ночі?

ЛЮДИНА І ПРИРОДА

1. Познач правильну відповідь.

1. Прикладом негативного впливу людини на живу природу є ...
А забруднення джерел питної води
Б забруднення повітря димом із фабрик і заводів
В надмірний вилов риби в природних водоймах
2. До природних матеріалів належать ...
А деревина, торф
Б пластмаса, скло
В гума, папір
3. Природними речовинами тваринного походження є ...
А пісок і глина **Б** хутро і шерсть **В** льон і бавовна

2. Познач знаком «+», яких заходів уживає людство для збереження природи.

- Висаджування дерев і кущів.
- Надмірне полювання на диких тварин.
- Створення заказників і заповідників.
- Розорювання земель.
- Переробка скла і пластику на сировину для повторного використання.

3. Підкресли назви природних угруповань.

Болото, степ, поле, озеро, сад, ліс, лука, ставок, город, пусталя, клумба.

4. Допиши речення.

Із поліетилену виготовляють: _____

Із синтетичного каучуку виготовляють: _____

5. Запиши відповідь на запитання.

Які зв'язки існують у природі між рослинами і тваринами?
Наведи приклади.

ЛЮДИНА І ПРИРОДА

1. Познач правильну відповідь.

- Прикладом негативного впливу людини на неживу природу є ...
А забруднення повітря димом із фабрик і заводів
Б зривання квітів ранньоквітучих дикорослих рослин
В вирубування лісів
- До штучних матеріалів належать ...
А нафта, кам'яне вугілля
Б гума, пластмаса
В глина, пісок
- Природними речовинами рослинного походження є ...
А природний газ і золото
Б шкіра і перо
В деревина і льон

2. Познач знаком «+», яких заходів уживає людство для збереження природи.

- Роздільне збирання побутових відходів.
- Надмірне використання хімікатів, мінеральних добрив.
- Вирубування лісів.
- Встановлення очисних споруд на заводах і фабриках.
- Використання електротранспорту.

3. Підкресли назви штучних угруповань.

Ставок, степ, болото, поле, озеро, ліс, сад, лука, город, клумба, пустеля.

4. Допиши речення.

Із пластмаси виготовляють: _____

Із синтетичних волокон виготовляють: _____

5. Запиши відповідь на запитання.

Які зв'язки існують у природі між тваринами? Наведи приклади.

ЛЮДИ — БАГАТСТВО КРАЇНИ

1. Познач правильну відповідь.

1. Уміння виконувати завдання, діяти без сторонньої допомоги — це ...
А унікальність
Б відповідальність
В самостійність
2. Якщо до тебе з якимось проханням звертається незнайома людина, потрібно ...
А вислухати її уважно
Б сказати, що тобі не дозволяють розмовляти з незнайомцями
В не розпочинати з нею розмови
3. Дорожні знаки у вигляді білих трикутників із чорними символами в червоному облямуванні — це ...
А попереджувальні знаки
Б заборонні знаки
В наказові знаки

2. Познач знаком «+» ознаки культурної людини.

- Не ображає інших.
- Вибачається, коли завинила.
- Вживає у розмові грубі й лайливі слова.
- Завжди вітається і прощається.
- Втручається в розмову інших.


3. Підкресли назви рис характеру, які допоможуть досягнути успіхів у навчанні.

Упертість, старанність, сила волі, мужність, вередливість, наполегливість, дисциплінованість, легковажність, рішучість, працьовитість, лень, відповідальність, нестриманість.

4. Допиши речення.

Існують такі способи уникнення конфлікту: _____

5. Розглянь малюнок. Запиши, яке правило дорожнього руху порушили діти і до чого це може призвести.



ЛЮДИ — БАГАТСТВО КРАЇНИ

1. Познач правильну відповідь.

1. Уміння відповідати за свої слова, дії та вчинки — це ...
А самостійність
Б відповідальність
В унікальність
2. Коли незнайома людина пропонує підвезти тебе на машині додому, потрібно ...
А швидко піти геть і розповісти про випадок батькам
Б сказати, що тобі не дозволяють розмовляти з незнайомцями
В погодитися на пропозицію
3. Дорожні знаки у вигляді голубих кругів з білими символами — це ...
А заборонні знаки
Б наказові знаки
В знаки сервісу

2. Познач знаком «+» ознаки культурної людини.

- Насміхається й ображає інших.
- Дотримується обіцянок.
- Вживає у розмові слова ввічливості.
- Завжди приходиться вчасно.
- Підвищує голос, коли розмовляє.

3. Підкресли назви рис характеру, які перешкоджають людині досягнути успіху.

Працелюбність, упертість, жорстокість, наполегливість, сила волі, винахідливість, вередливість, дисциплінованість, лень, легковажність.

4. Допиши речення.

Причиною виникнення конфлікту може стати: _____

5. Розглянь малюнок. Запиши, яке правило дорожнього руху порушила дівчинка і до чого це може призвести.

