




7
КЛАС

КОНТУРНІ КАРТКИ

Географія.
Материки і океани



 **КАРТОГРАФІЯ**

КЛІМАТИЧНІ ПОЯСИ ТА ОБЛАСТІ СВІТУ

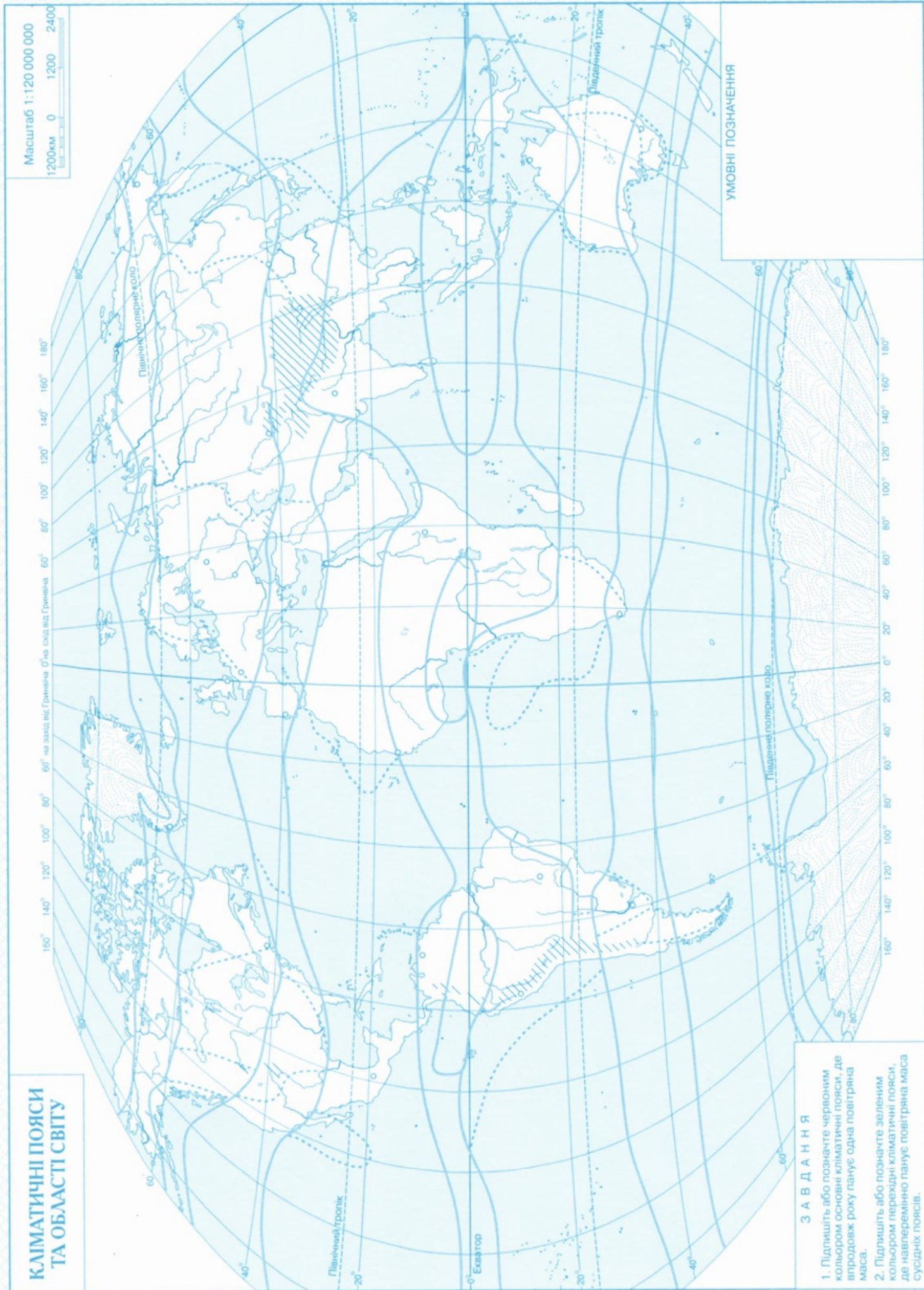
Масштаб 1:120 000 000

1200км 0 1200 2400

УМОВНІ ПОЗНАЧЕННЯ

ЗАВДАННЯ

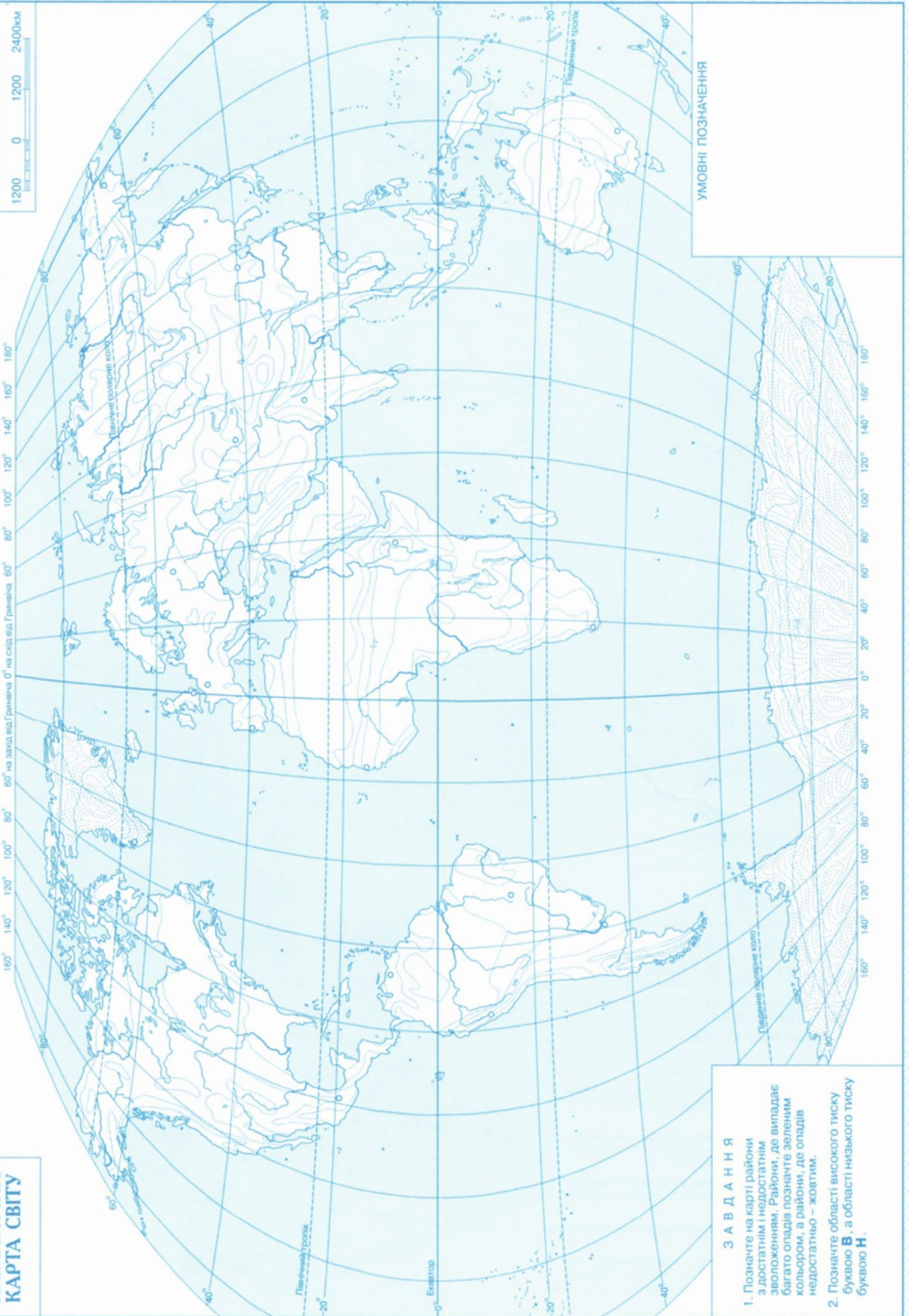
1. Підлишіть або позначте червоним кольором основні кліматичні пояси, де впродовж року панує одна повітряна маса.
2. Підлишіть або позначте зеленим кольором перехідні кліматичні пояси, де наперемінно панує повітряна маса сусідніх поясів.



КЛІМАТИЧНА КАРТА СВІТУ

Масштаб 1:120 000 000

1200 0 1200 2400км

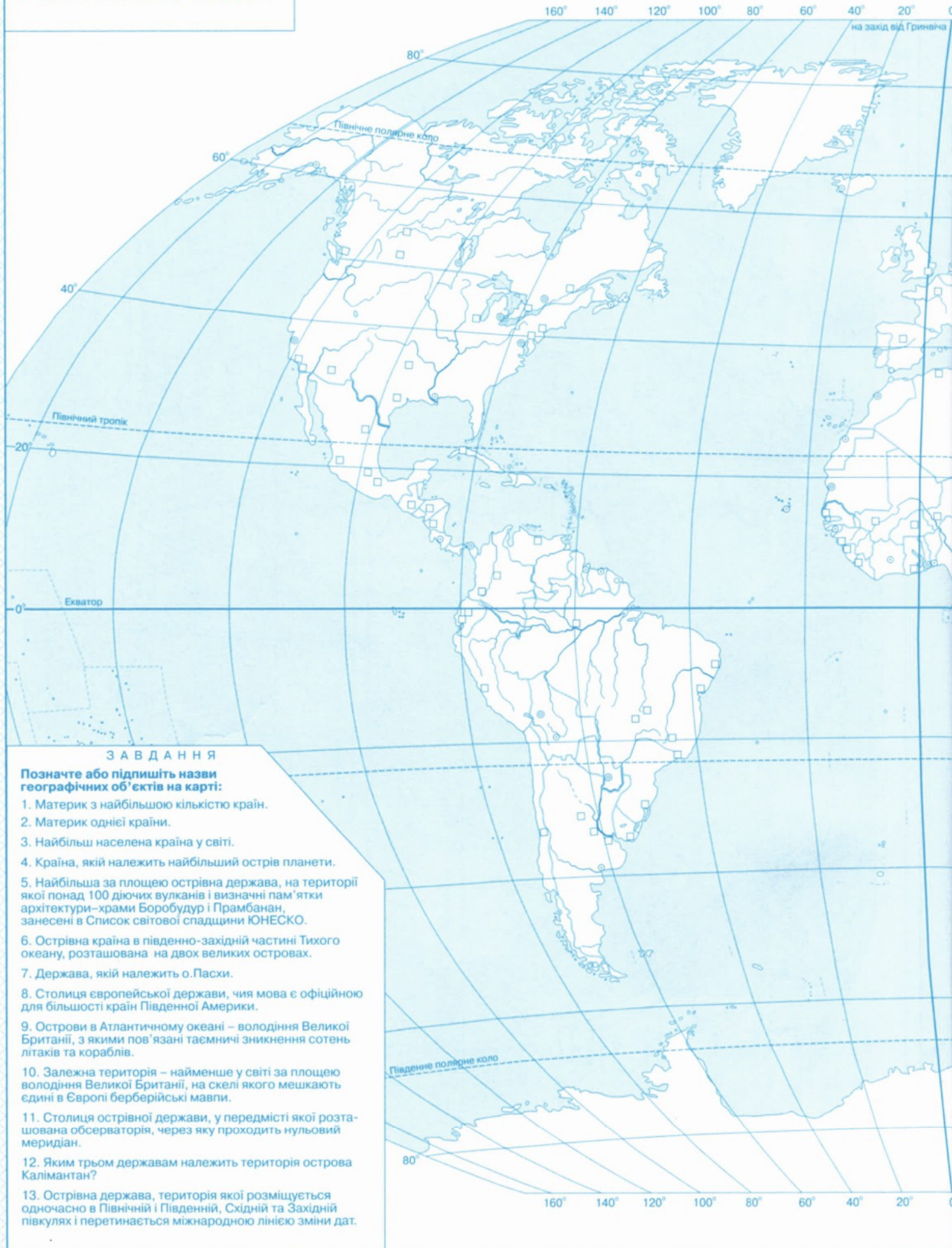


УМОВНІ ПОЗНАЧЕННЯ

ЗАВДАННЯ

1. Позначте на карті райони з достатнім і недостатнім зволоженням. Райони, де випадає багато опадів позначте зеленим кольором, а райони, де опадів недостатньо – жовтим.
2. Позначте області високого тиску буквою **В**, а області низького тиску буквою **Н**.

ПОЛІТИЧНА КАРТА СВІТУ



Масштаб 1:85 000 000 (в 1 см 850 км)

850 0 850 1700 2550 3400 км

20° 40° 60° 80° 100° 120° 140° 160° 180°

80°

60°

40°

20°

0°

Південний тропік

40°

80°

20° 40° 60° 80° 100° 120° 140° 160° 180°

УМОВНІ ПОЗНАЧЕННЯ

АФРИКА ФІЗИЧНА КАРТА

на захід від Гринвіча 0° на схід від Гринвіча



ЗАВДАННЯ

Позначте або підпишіть назви географічних об'єктів на карті:

1. Найпівденніша точка материка.
2. Найвища точка Африки.
3. Річка, яка двічі перетинає екватор.
4. Найбільше озеро Африки, що зветь "африканським морем."
5. Географічні об'єкти, що утворилися на місці найбільшого тектонічного розлому в земній корі материка – найвищий хребет та найдовше і найглибше озеро Африки.
6. Найбільший острів у берегів Африки, де водяться унікальні місцеві тварини і рослини.
7. Річка і водоспад, який відкрив мандрівник-дослідник Африки Девід Лівінгстон.
8. Об'єкт Світової спадщини ЮНЕСКО, що є дивом природи – річка, яка впадає в солончак у пустелі, її ще зветь "островом води у морі піску".

Масштаб 1:38 000 000 (в 1 см 380 км)



УМОВНІ ПОЗНАЧЕННЯ

АФРИКА ПРИРОДНІ ЗОНИ

на захід від Гринвіча 0° на схід від Гринвіча



ЗАВДАННЯ

Позначте або підлишіть назви природних зон та географічних об'єктів на карті:

1. Найбільша за площею в Африці природна зона, де переважають рослини, пристосовані до сухого сезону.
2. Зона, якій притаманні багатоярусні ліси з багатим видовим розмаїттям рослинності і тваринного світу.
3. Зона субтропічного клімату із сухим, жарким літом і вологою зимою, що є причиною розповсюдження вічнозелених рослин з твердим листям і колічками.
4. Територія, де дощі не випадають роками, ґрунти практично відсутні, мешкає багато змій та ящірок.
5. Навіпусталя Африки, яку звать "зеленою пустелею" або "пустельною саваною".
6. Річка, що в спекотне літо не міліє, як всі інші річки пустель, а виходить з берегів. Також вздовж її берегів росте рослина, із стебел якої виготовляли давній папір.
7. Безводна, огорнута туманами, прибережна пустеля, що утворилася під впливом холодної Бенгельської течії.

УМОВНІ ПОЗНАЧЕННЯ

Масштаб 1:38 000 000 (в 1 см 380 км)



АФРИКА ПОЛІТИЧНА КАРТА

на захід від Гринвіча 0° на схід від Гринвіча



ЗАВДАННЯ

Позначте або підпишіть назви географічних об'єктів на карті:

1. Найбільша країна Африки за населенням.
2. Найдавніша держава Африки, яку давньогрецький історик Геродот назвав "даром річки Ніл".
3. Дві країни-сусідки на півночі континенту, столиці яких мають однакові назви із назвами країн.
4. Країна золота та діамантів – скарбниця Африки, на її території розташовані Капські гори, де поширені рідкісні види рослин.
5. Країна, де була зафіксована максимальна температура повітря на континенті +58°С.
6. Чотири країни, що ділять одне озеро.
7. Країна, де виникло "потрійне місто" при злитті Голубого і Білого Нілу.
8. Країна відома у світі політичною нестабільністю та розквітом морського піратства, має неофіційні назви "африканський ріг" та "піратський берег".
9. Столиця африканської держави, де 2010 р. було споруджено гігантський монумент Відродження Африки (49 м).
10. Країни, що отримали свої назви, одна – на честь гори, а інша – від прибережної пустелі, які розташовані на їх території.
11. Назва країни є комбінацією двох назв – оз. Танганьїка та о. Занзібар.

УМОВНІ ПОЗНАЧЕННЯ

Масштаб 1:38 000 000 (в 1 см 380 км)

380 0 380 760 1140 1520 км

ПІВДЕННА АМЕРИКА ФІЗИЧНА КАРТА



ЗАВДАННЯ

Позначте або підпишіть назви географічних об'єктів на карті:

1. Найбільші низовини материка.
2. Плоскогір'я Південної Америки.
3. Найдовший гірський хребет світу з найвищою точкою материка.
4. Найвищий діючий вулкан планети.
5. Найвищий водоспад світу.
6. Одна з двох найбільших за довжиною річкових систем світу, біля гирла якої лежить найбільший річковий острів.
7. Найбільше високогірне озеро світу.
8. Найбільше озеро-лагуна материка.
9. Дві теплі течії, які додатково насичують вологою повітря найвологішого континента світу.
10. Найбільший острів.
11. Острови в Тихому океані, на яких розташовано однойменний національний парк, занесений до Списку світової спадщини ЮНЕСКО.

УМОВНІ ПОЗНАЧЕННЯ

Масштаб 1:35 000 000 (в 1 см 350 км)

350 0 350 700 1050 1400 км

ПІВДЕННА АМЕРИКА ПРИРОДНІ ЗОНИ



ПІВДЕННА АМЕРИКА ПОЛІТИЧНА КАРТА



ЗАВДАННЯ

Позначте або підлишіть назви географічних об'єктів на карті:

1. Найбільша за площею і населенням країна, де більшість людей розмовляють португальською мовою.
2. Унікальна країна за співвідношенням довжини і ширини території – протяжність понад 4 300 км, а ширина усього 100 – 200 км.
3. Високогірне місто-мільйонник – столиця країни, названої на честь першовідкривача Америки.
4. Країна, яка дістала назву завдяки екватору, що перетинає її територію.
5. Країна, де збереглися руїни міст стародавньої імперії інків.
6. Територія – заморський департамент Франції.
7. Держава, назва якої перекладається як "маленька Венеція".
8. Столиці держав Південної Америки, об'єкти яких є надбанням людства – занесені до Списку світової спадщини ЮНЕСКО.

УМОВНІ ПОЗНАЧЕННЯ

Масштаб 1:35 000 000 (в 1 см 350 км)

350 0 350 700 1050 1400 км

ПІВНІЧНА АМЕРИКА ФІЗИЧНА КАРТА



ЗАВДАННЯ

Позначте або підпишіть назви географічних об'єктів на карті:

1. Найдовша річка континенту.
2. Річка, що "викопала" найглибший каньйон на земній поверхні і тепер це один з найстаріших національних парків – об'єкт Світової спадщини ЮНЕСКО.
3. Найбільша затока Тихого океану, де протікає однойменна тепла течія і розташований півострів з такою ж назвою.
4. Затока, що найдальше вдається в суходіл з півночі, названа на честь англійського мореплавця.
5. Вузька затока, відокремлена від океану півостровом, що омивається холодною морською течією з такою ж назвою.
6. Море та протока між Тихим і Північним Льодовитим океаном, названі на честь видатного мандрівника.
7. Перший у світі національний парк, створений 1872 р., що славиться великою кількістю джерел і гейзерів.

УМОВНІ ПОЗНАЧЕННЯ

Масштаб 1:35 000 000 (в 1 см 350 км)

350 0 350 700 1050 1400 км

ПІВНІЧНА АМЕРИКА ПРИРОДНІ ЗОНИ



ПІВНІЧНА АМЕРИКА ПОЛІТИЧНА КАРТА



ЗАВДАННЯ

Позначте або підпишіть назви географічних об'єктів на карті:

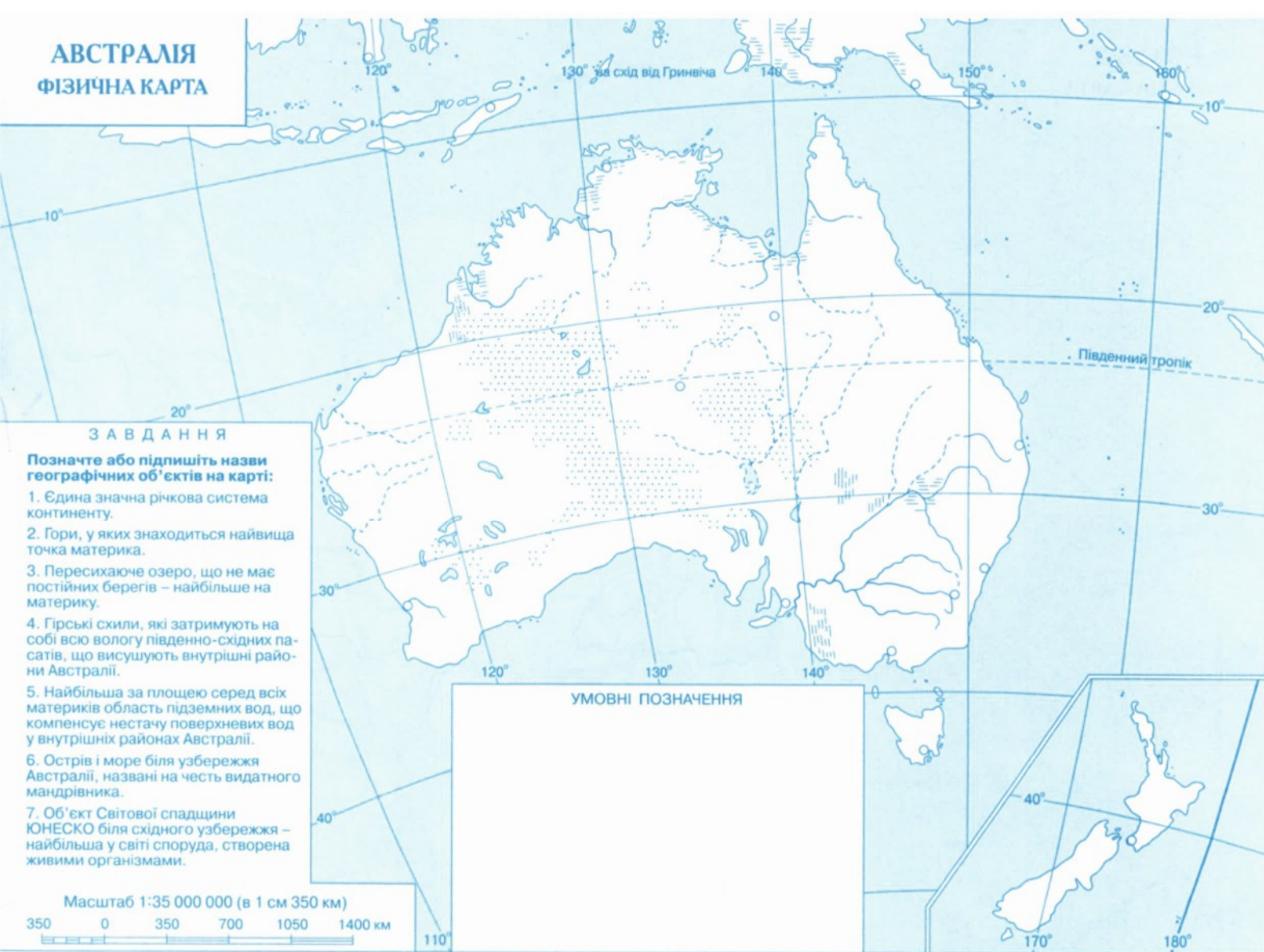
1. Найбільша за площею країна материка, що омивається трьома океанами і має найдовшу берегову лінію.
2. Найбільша країна за населенням, національним символом якої є монумент, що уособлює свободу, демократію та справедливість.
3. Країна, розташована на вузькому перешийку на межі двох материків та двох океанів.
4. Країна, назва якої схожа на назву її столиці, а на території збереглися залишки величезних кам'яних міст давньої цивілізації майя.
5. Три країни, між якими поділений півострів Юкатан.
6. Водоспад на кордоні між двома найбільшими державами материка, який щорічно відвідують мільйони туристів.

УМОВНІ ПОЗНАЧЕННЯ

Масштаб 1:35 000 000 (в 1 см 350 км)

350 0 350 700 1050 1400 км

АВСТРАЛІЯ ФІЗИЧНА КАРТА



ЗАВДАННЯ

Позначте або підпишіть назви географічних об'єктів на карті:

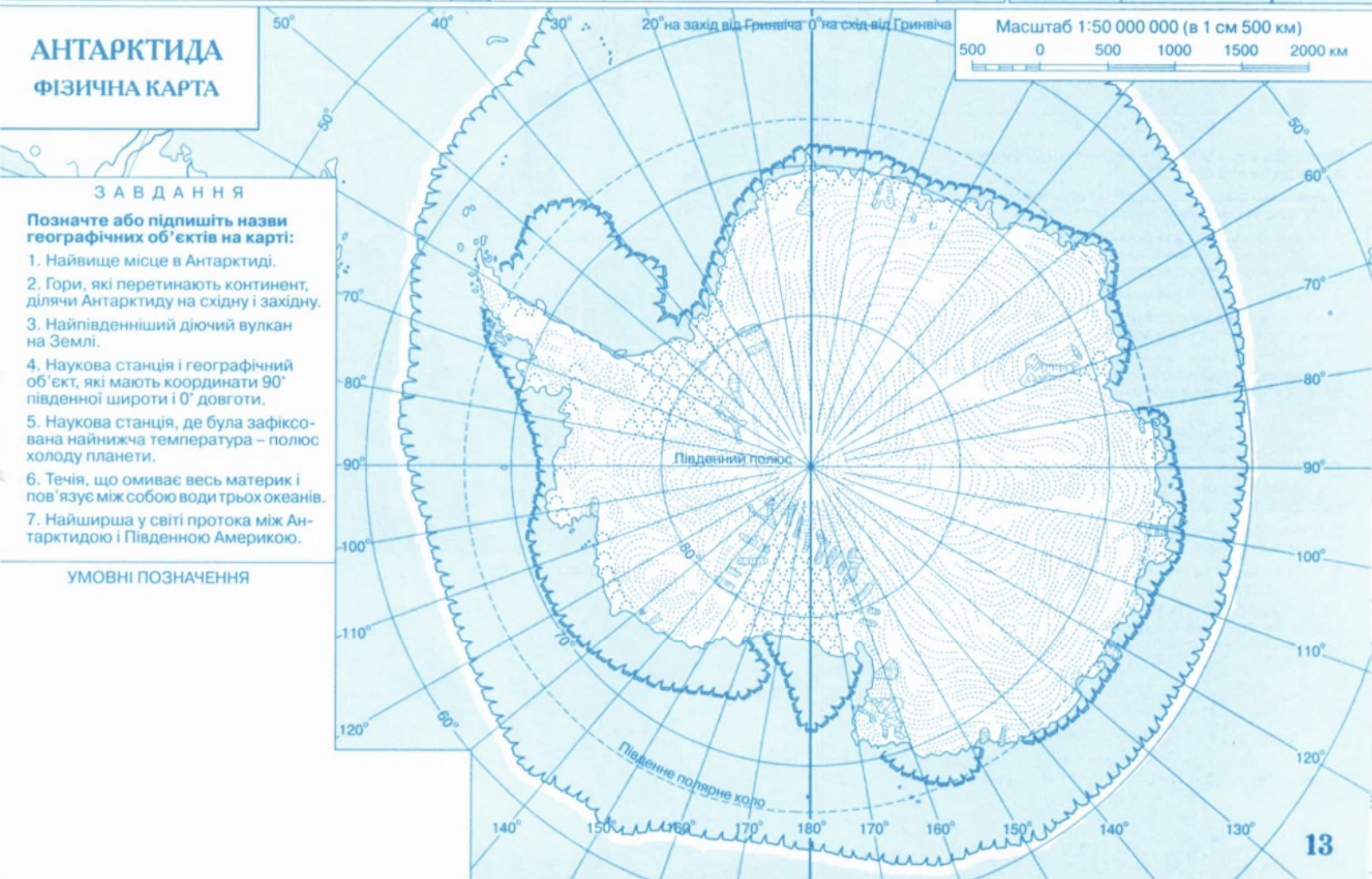
1. Єдина значна річкова система континенту.
2. Гори, у яких знаходиться найвища точка материка.
3. Пересихаюче озеро, що не має постійних берегів – найбільше на материк.
4. Гірські схили, які затримують на собі всю вологу південно-східних пасатів, що висушують внутрішні райони Австралії.
5. Найбільша за площею серед всіх материків область підземних вод, що компенсує нестачу поверхневих вод у внутрішніх районах Австралії.
6. Острів і море біля узбережжя Австралії, названі на честь видатного мандрівника.
7. Об'єкт Світової спадщини ЮНЕСКО біля східного узбережжя – найбільша у світі споруда, створена живими організмами.

УМОВНІ ПОЗНАЧЕННЯ

Масштаб 1:35 000 000 (в 1 см 350 км)

350 0 350 700 1050 1400 км

АНТАРКТИДА ФІЗИЧНА КАРТА



ЗАВДАННЯ

Позначте або підпишіть назви географічних об'єктів на карті:

1. Найвище місце в Антарктиді.
2. Гори, які перетинають континент, ділячи Антарктиду на східну і західну.
3. Найпівденніший діючий вулкан на Землі.
4. Наукова станція і географічний об'єкт, які мають координати 90° південної широти і 0° довготи.
5. Наукова станція, де була зафіксована найнижча температура – полюс холоду планети.
6. Течія, що омиває весь материк і пов'язує між собою води трьох океанів.
7. Найширша у світі протока між Антарктидою і Південною Америкою.

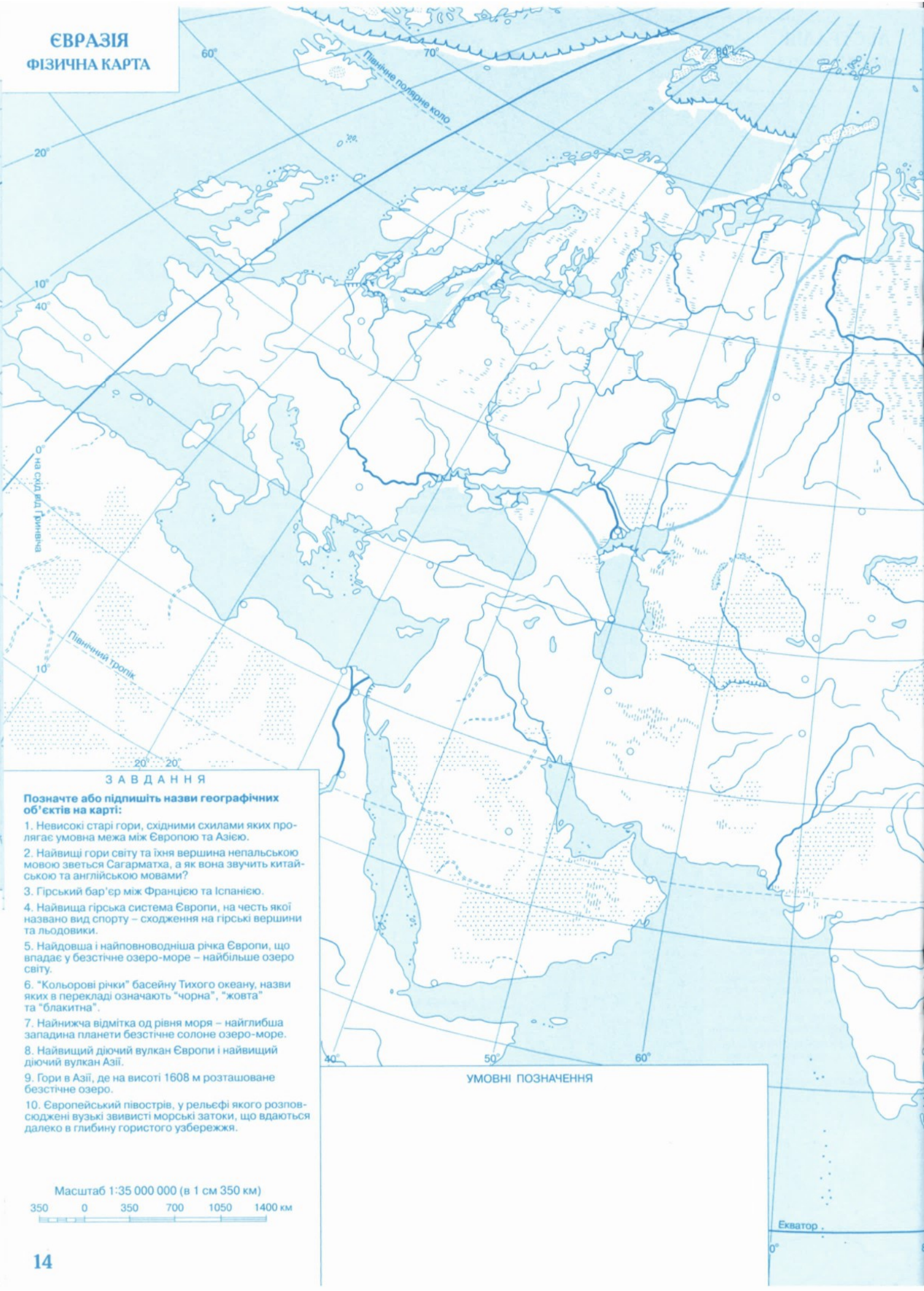
УМОВНІ ПОЗНАЧЕННЯ

Масштаб 1:50 000 000 (в 1 см 500 км)

500 0 500 1000 1500 2000 км

ЄВРАЗІЯ

ФІЗИЧНА КАРТА



ЗАВДАННЯ

Позначте або підпишіть назви географічних об'єктів на карті:

1. Невисокі старі гори, східними схилами яких пролягає умовна межа між Європою та Азією.
2. Найвищі гори світу та їхня вершина непальською мовою зветься Сагарматха, а як вона звучить китайською та англійською мовами?
3. Гірський бар'єр між Францією та Іспанією.
4. Найвища гірська система Європи, на честь якої названо вид спорту – сходження на гірські вершини та льодовики.
5. Найдовша і найповноводніша річка Європи, що впадає у безстічне озеро-море – найбільше озеро світу.
6. "Кольорові річки" басейну Тихого океану, назви яких в перекладі означають "чорна", "жовта" та "блакитна".
7. Найнижча відмітка од рівня моря – найглибша западина планети безстічне солоне озеро-море.
8. Найвищий діючий вулкан Європи і найвищий діючий вулкан Азії.
9. Гори в Азії, де на висоті 1608 м розташоване безстічне озеро.
10. Європейський півострів, у рельєфі якого розповсюджені вузькі звивисті морські затоки, що вдаються далеко в глибину гористого узбережжя.

УМОВНІ ПОЗНАЧЕННЯ

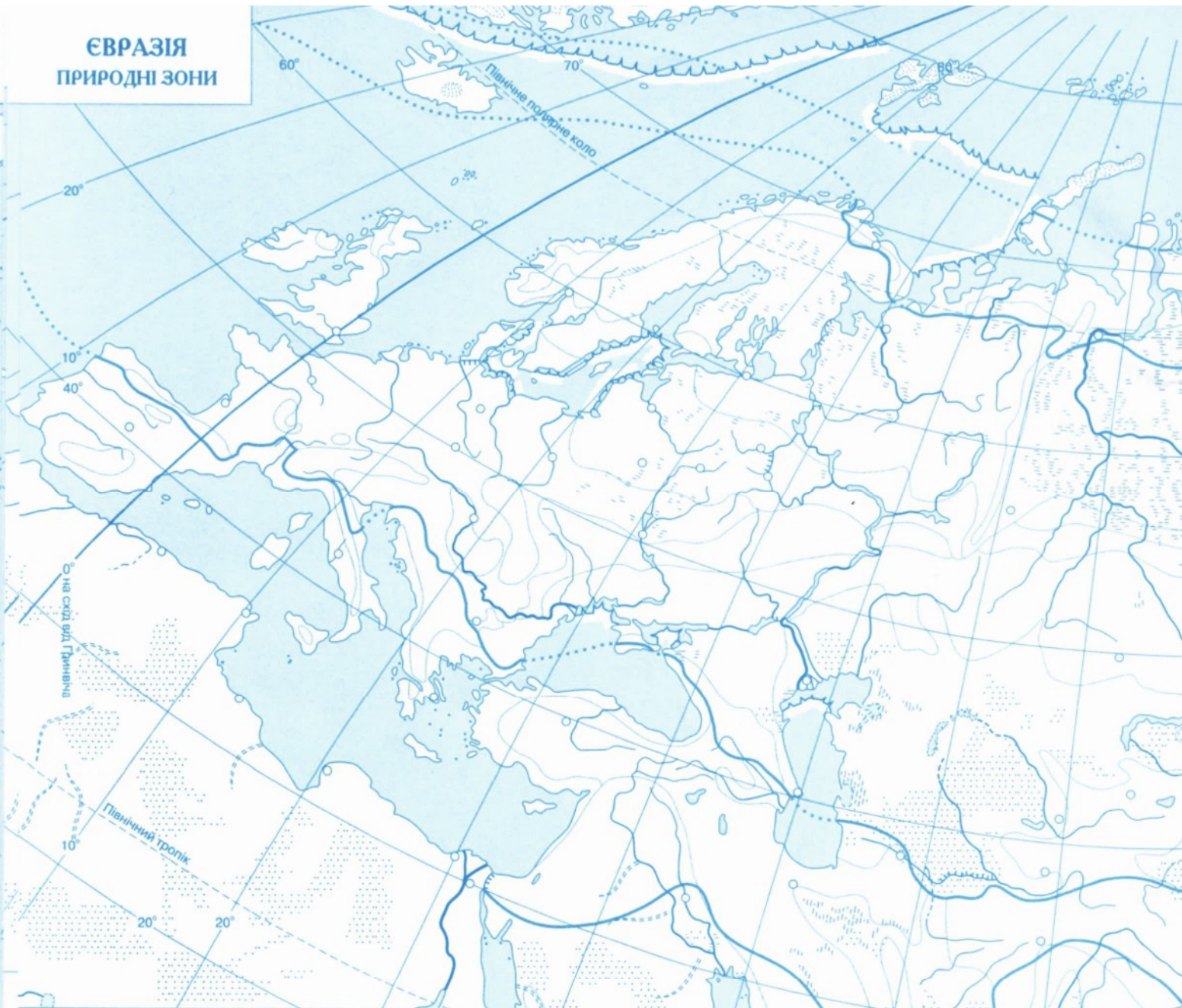
Масштаб 1:35 000 000 (в 1 см 350 км)

350 0 350 700 1050 1400 км

Екватор



ЄВРАЗИЯ ПРИРОДНІ ЗОНИ



ЗАВДАННЯ

Позначте або підпишіть назви природних зон та географічних об'єктів на карті:

1. Географічний пояс, що переважає на більшій частині Євразії.
2. Географічний пояс, у якому тільки одна природна зона.
3. Лісова зона, що складається з дерев, які скидають листя в холодну пору року.
4. Утворює на материк найбільший лісовий масив, найпоширеніші рослини – хвойні дерева.
5. Одночасно можна зустріти ліси з хвойних і широколистяних порід дерев.
6. Тропічна піщана пустеля, розташована на найбільшому півострові.
7. Область, що порушує широтну зональність материків – у Євразії її площа найбільша.
8. Пустельна височинна область Євразії, що вкрита пустелями, напівпустелями і сухими степами Монголії та Китаю.
9. Безліса природна зона, де поширені карликові дерева, ягель, а з тварин – північний олень.
10. Природна зона в субтропічному поясі, найсприятливіша для природи і життя людини.
11. Тепла течія, що впливає на клімат півночі Європи настільки, що Баренцове море судноплавне весь рік, а сусіднє Карське море зветь "льодовим мішком".

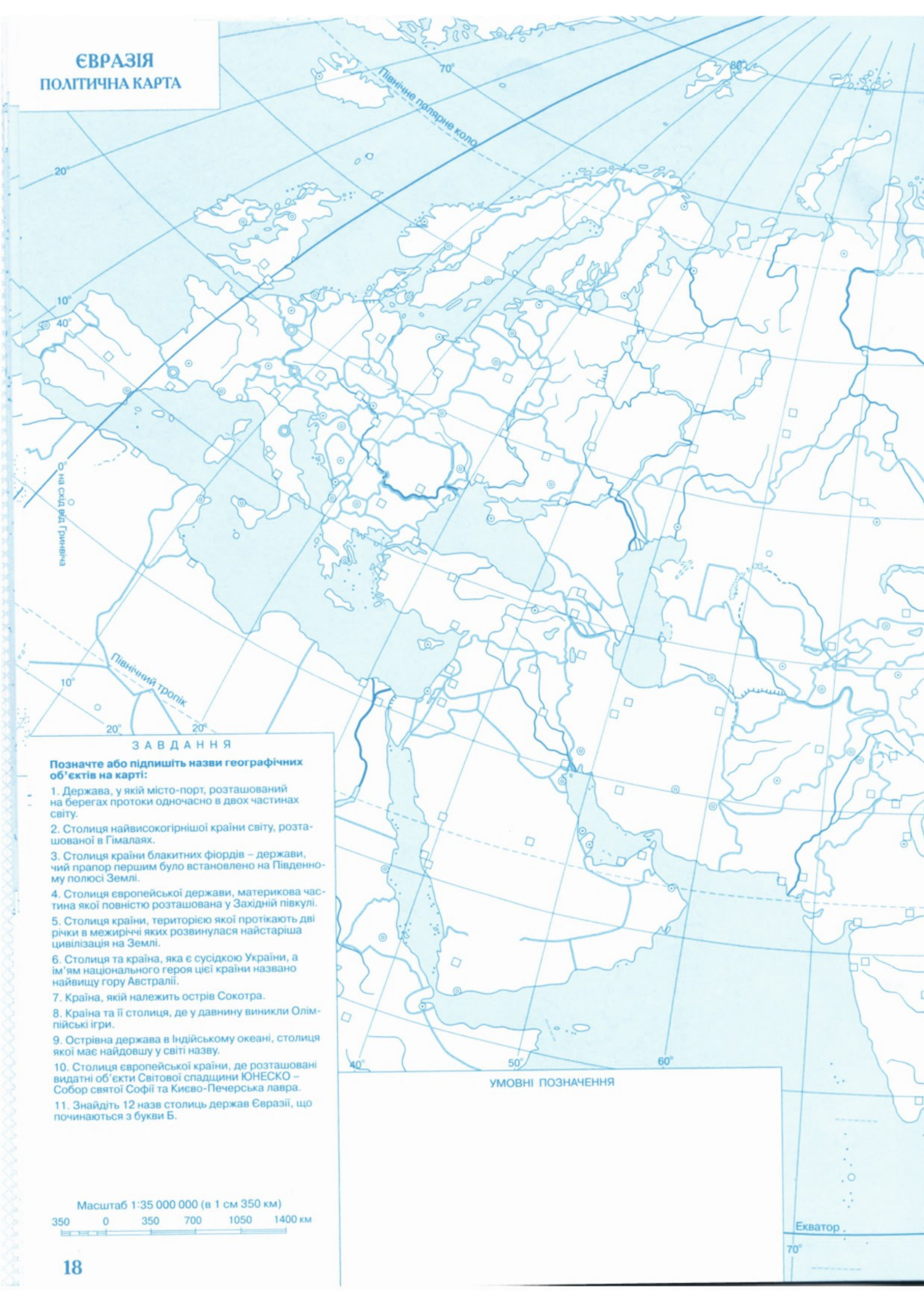
УМОВНІ ПОЗНАЧЕННЯ

Масштаб 1:35 000 000 (в 1 см 350 км)

350 0 350 700 1050 1400 км



ЄВРАЗІЯ ПОЛІТИЧНА КАРТА



ЗАВДАННЯ

Позначте або підпишіть назви географічних об'єктів на карті:

1. Держава, у якій місто-порт, розташований на берегах протоки одночасно в двох частинах світу.
2. Столиця найвисокогірнішої країни світу, розташованої в Гімалаях.
3. Столиця країни блакитних фіордів – держави, чий прапор першим було встановлено на Південному полюсі Землі.
4. Столиця європейської держави, материкова частина якої повністю розташована у Західній півкулі.
5. Столиця країни, територією якої протікають дві річки в межах яких розвинулася найстаріша цивілізація на Землі.
6. Столиця та країна, яка є сусідкою України, а ім'ям національного героя цієї країни названо найвищу гору Австралії.
7. Країна, якій належить острів Сокотра.
8. Країна та її столиця, де у давнину виникли Олімпійські ігри.
9. Острівна держава в Індійському океані, столиця якої має найдовшу у світі назву.
10. Столиця європейської країни, де розташовані видатні об'єкти Світової спадщини ЮНЕСКО – Собор святої Софії та Києво-Печерська лавра.
11. Знайдіть 12 назв столиць держав Євразії, що починаються з букви Б.

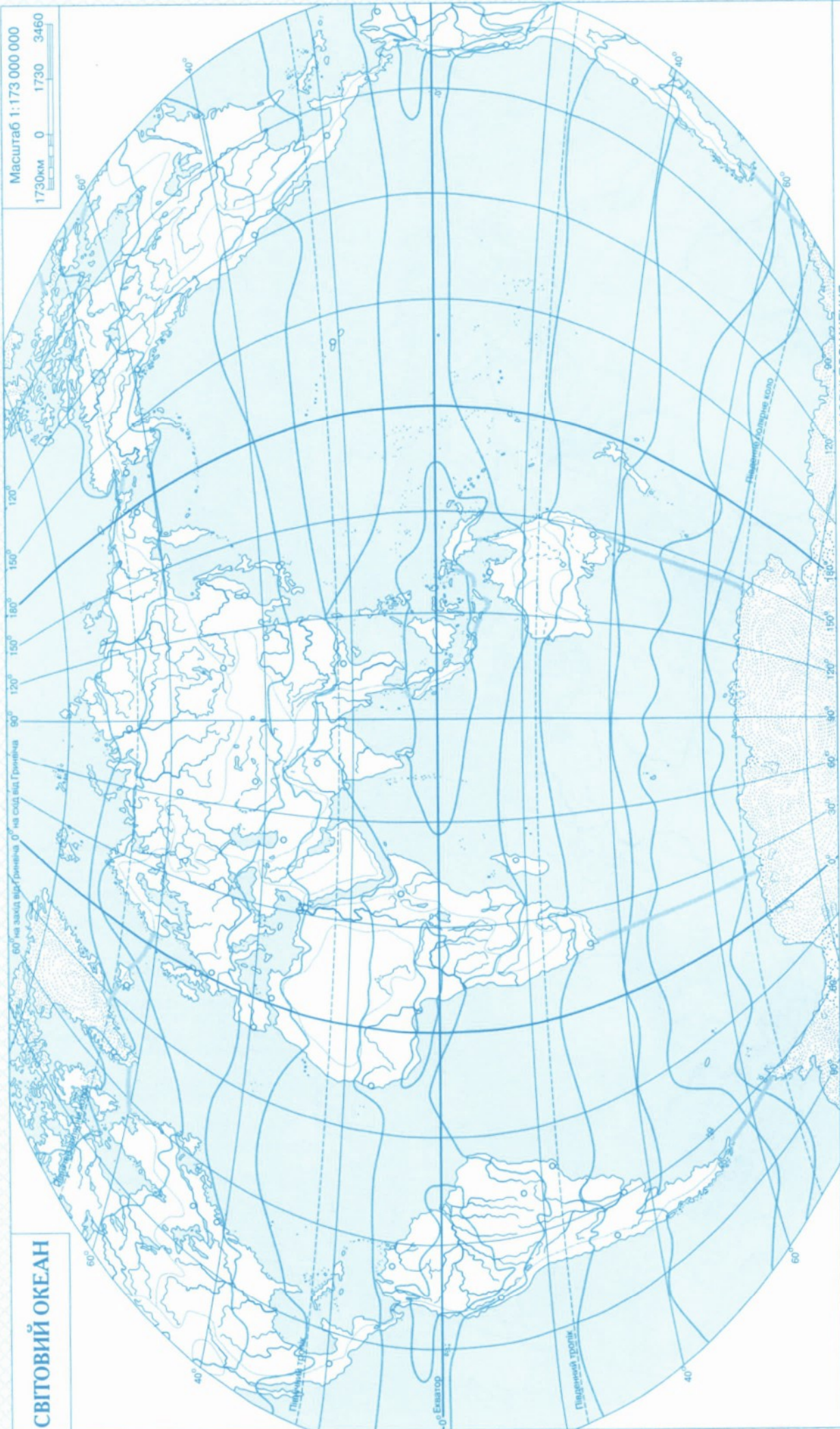
УМОВНІ ПОЗНАЧЕННЯ

Масштаб 1:35 000 000 (в 1 см 350 км)
350 0 350 700 1050 1400 км



СВІТОВИЙ ОКЕАН

Масштаб 1:173 000 000
1730км 0 1730 3460



УМОВНІ ПОЗНАЧЕННЯ

З А В Д А Н Н Я

Позначте або підпишіть назви географічних об'єктів на карті:

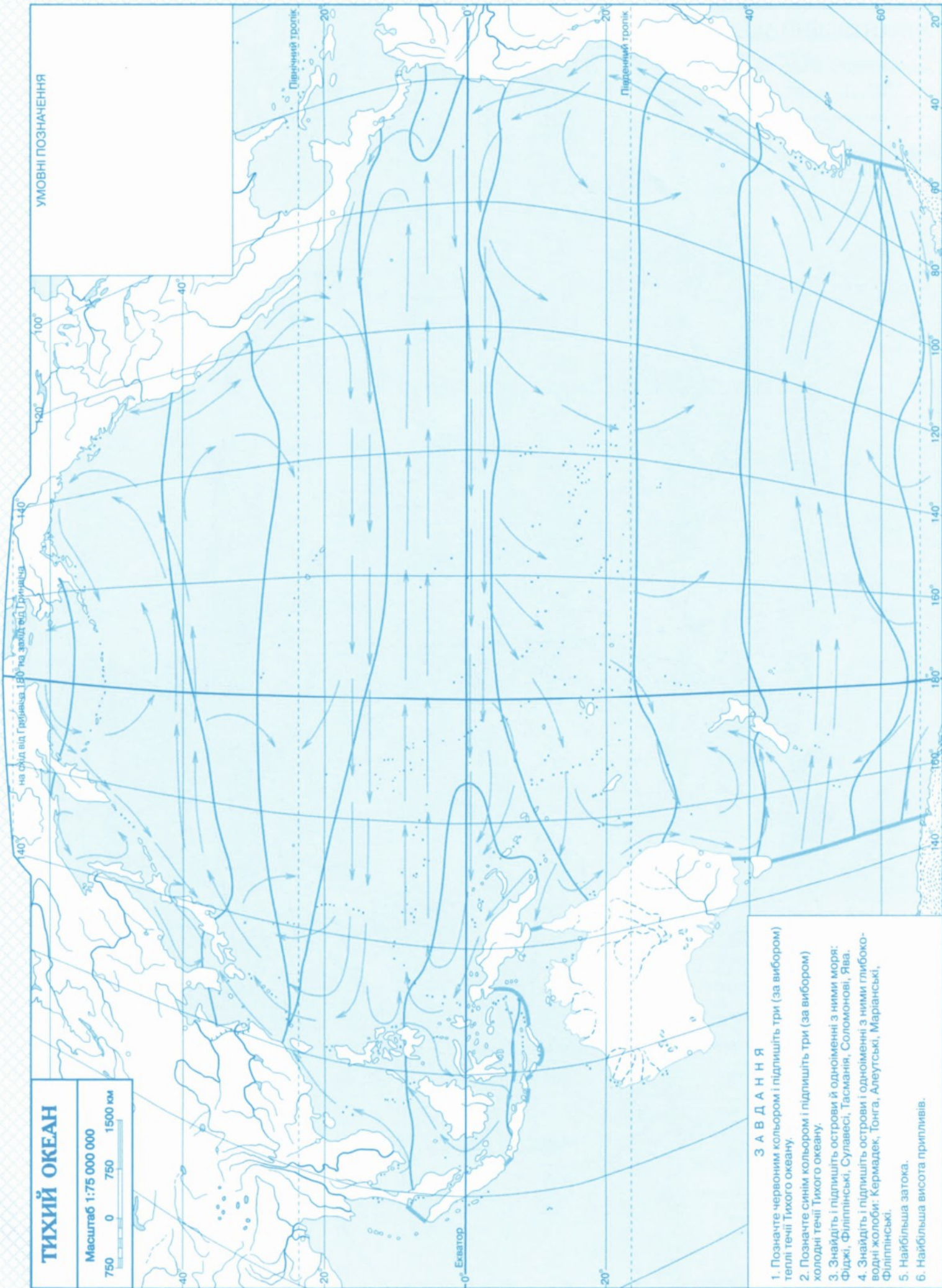
1. Найбільший за площею і за об'ємом води океан, де розташоване найглибше місце Світового океану.
2. Видовжений з півночі на південь океан з найбільшими підводними гірськими системами – серединно-океанічними хребтами.
3. Третій за розмірами океан. Більша частина розташована в Південній півкулі, найбільші поклади нафти та газу в шельфовій зоні.
4. Найменший за площею і за об'ємом води, вкритий кригою більшу частину року океан.
5. Особливий "материк", утворений сукупністю островів, розташованих у центральній та південно-західній частині Тихого океану.

ТИХИЙ ОКЕАН

Масштаб 1:75 000 000

750 0 750 1500 км

УМОВНІ ПОЗНАЧЕННЯ



ЗАВДАННЯ

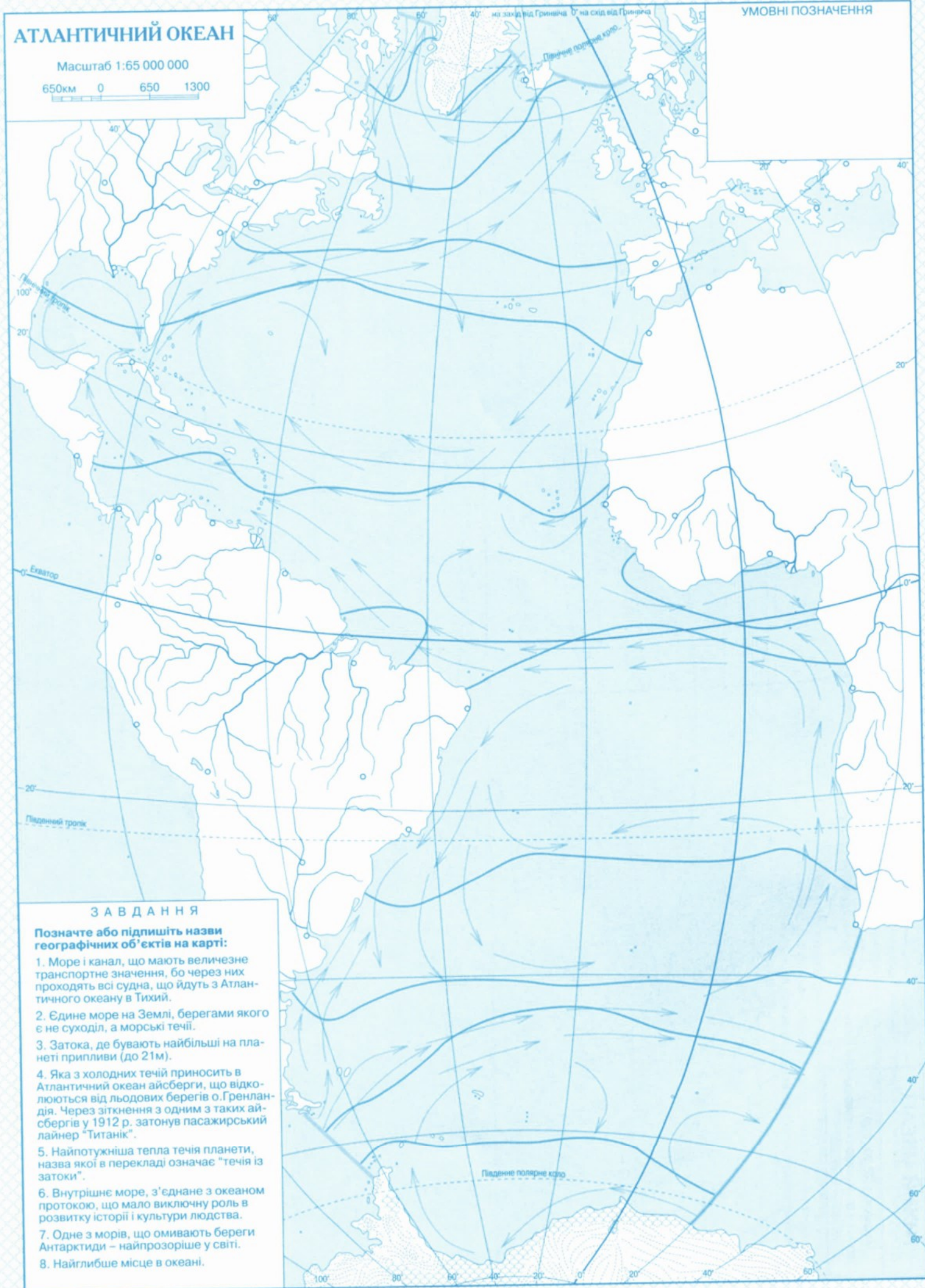
1. Позначте червоним кольором і підпишіть три (за вибором) теплі течії Тихого океану.
2. Позначте синім кольором і підпишіть три (за вибором) холодні течії Тихого океану.
3. Знайдіть і підпишіть острови й одноіменні з ними моря: Фіджі, Філіппінські, Сулавесі, Тасманія, Соломонові, Ява.
4. Знайдіть і підпишіть острови й одноіменні з ними глибоководні жолоби: Кермадек, Тонга, Алеутські, Маріанські, Філіппінські.
5. Найбільша затока.
6. Найбільша висота припливів.

АТЛАНТИЧНИЙ ОКЕАН

УМОВНІ ПОЗНАЧЕННЯ

Масштаб 1:65 000 000

650км 0 650 1300



ЗАВДАННЯ

Позначте або підлишіть назви географічних об'єктів на карті:

1. Море і канал, що мають величезне транспортне значення, бо через них проходять всі судна, що йдуть з Атлантичного океану в Тихий.
2. Єдине море на Землі, берегами якого є не суходіл, а морські течії.
3. Затока, де бувають найбільші на планеті припливи (до 21м).
4. Яка з холодних течій приносить в Атлантичний океан айсберги, що відколюються від льодових берегів о.Гренландія. Через зіткнення з одним з таких айсбергів у 1912 р. затонув пасажирський лайнер "Титанік".
5. Найпотужніша тепла течія планети, назва якої в перекладі означає "течія із затоки".
6. Внутрішнє море, з'єднане з океаном протокою, що мало виключну роль в розвитку історії і культури людства.
7. Одне з морів, що омивають береги Антарктиди – найпрозоріше у світі.
8. Найглибше місце в океані.

ІНДІЙСЬКИЙ ОКЕАН

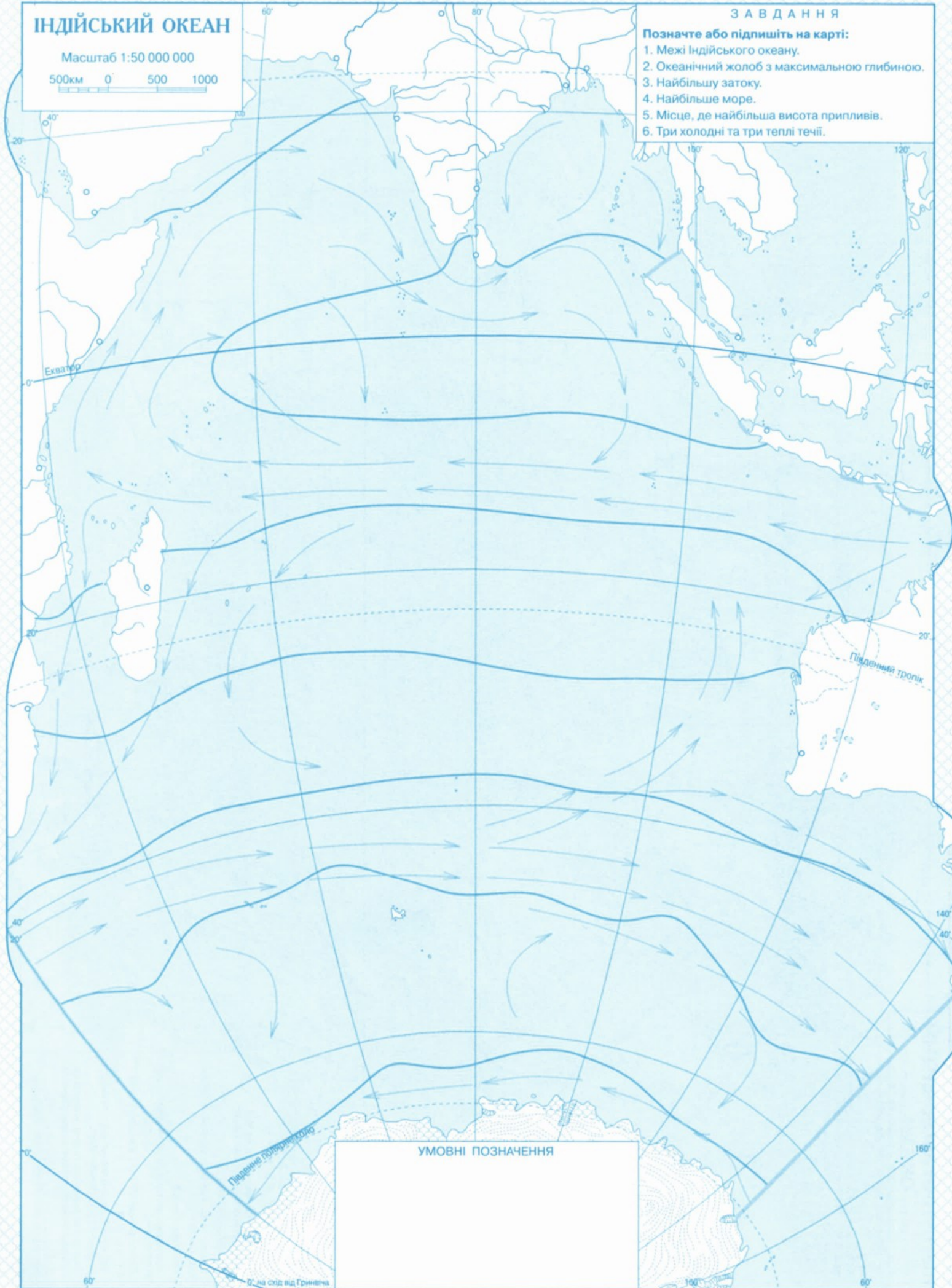
Масштаб 1:50 000 000

500км 0 500 1000

ЗАВДАННЯ

Позначте або підпишіть на карті:

1. Межі Індійського океану.
2. Океанічний жолоб з максимальною глибиною.
3. Найбільшу затоку.
4. Найбільше море.
5. Місце, де найбільша висота припливів.
6. Три холодні та три теплі течії.



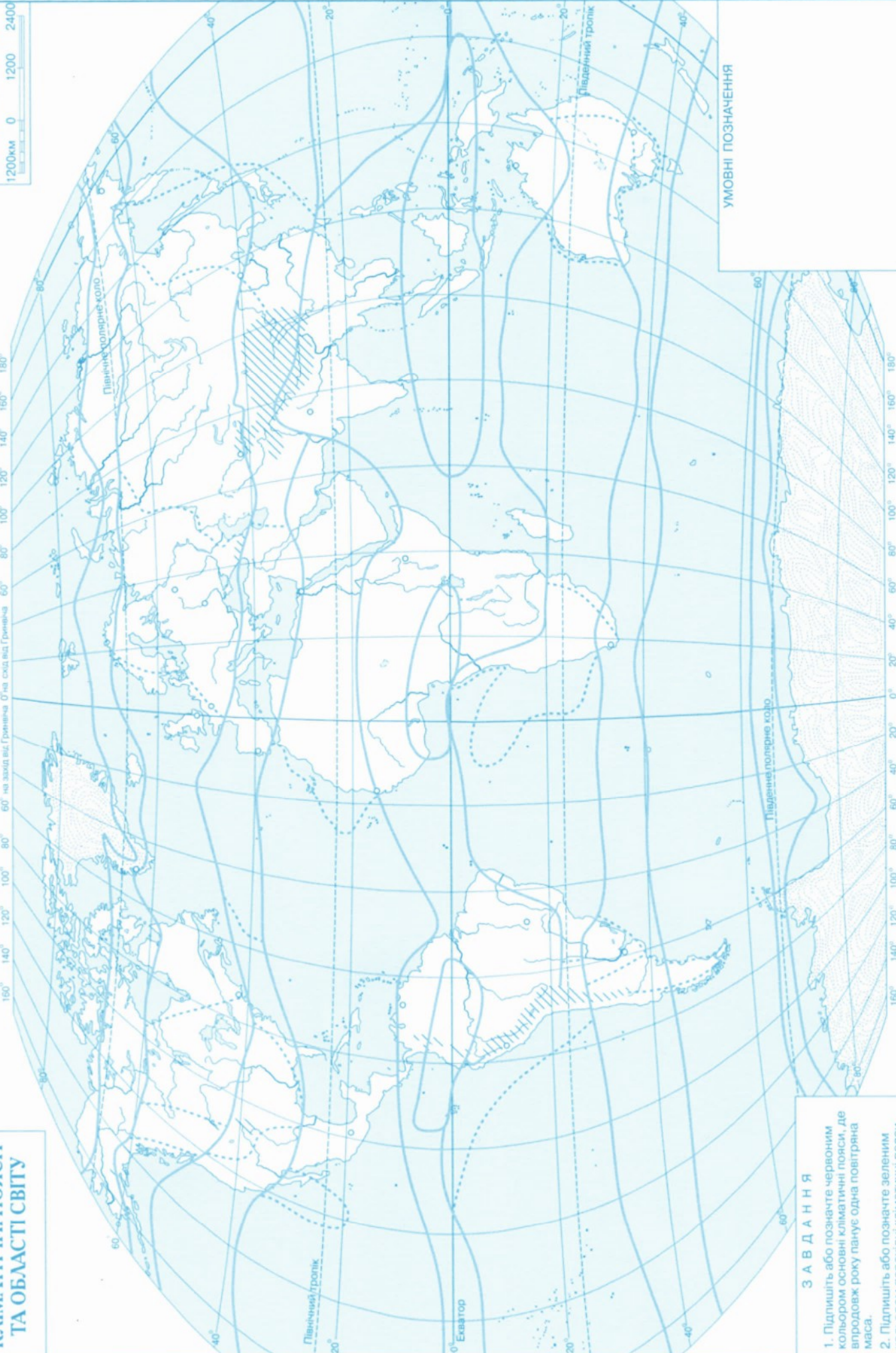
УМОВНІ ПОЗНАЧЕННЯ



КЛІМАТИЧНІ ПОЯСИ ТА ОБЛАСТІ СВІТУ

Масштаб 1:120 000 000

1200км 0 1200 2400



УМОВНІ ПОЗНАЧЕННЯ

ЗАВДАННЯ

1. Підпишіть або позначте червоним кольором основні кліматичні пояси, де впродовж року панує одна повітряна маса.
2. Підпишіть або позначте зеленим кольором перехідні кліматичні пояси, де наперемінно панує повітряна маса сусідніх поясів.



7
КЛАС

КОНТУРНІ КАРТИ

КАРТОГРАФІЯ

Загальна
географія



7
КЛАС



РЕКОМЕНДОВАНО МІНІСТЕРСТВОМ ОСВІТИ І НАУКИ УКРАЇНИ
(лист від 06.05.05 р. №1/11-2231)

ДЕРЖАВНА СЛУЖБА ГЕОДЕЗІЇ, КАРТОГРАФІЇ ТА КАДАСТРУ
ДЕРЖАВНЕ НАУКОВО-ВИРОБНИЧЕ ПІДПРИЄМСТВО "КАРТОГРАФІЯ"

Контурні карти укладено та підготовлено до друку
Державним науково-виробничим підприємством
"Картографія" 1999 р. Перевидано 2000 р.–2007 р.
вул. Попудренка, 54, м. Київ-94, МСП-660, 02660
Редактори: Л.Б. Хмара, С.В. Капустенко
Технічний редактор Л.Д. Васильківська
Комп'ютерний дизайн обкладинки О.Ю. Андрущенко

Підписано до друку 30.03.2007 р.
Формат паперу 60x90/8 Папір офсетний 80 г/м²
Друк. арк. 2+обкладинка Умовн.друк. арк. 2,0
Замовлення № 0217096
Видруковано з готових діапозитивів
у Державному видавництві «Преса України»
03047, м. Київ-47, просп. Перемоги, 50

Контурні карти відповідають санітарному законодавству
України (висновок № 05.03.02–04/16168 від 07.04.2006 р.)

ISBN 978-966-631-943-5



9 789666 319435

© Укргеодезкартографія,
© ДНВП "Картографія", 1

ISBN 978-966-631-943-5