
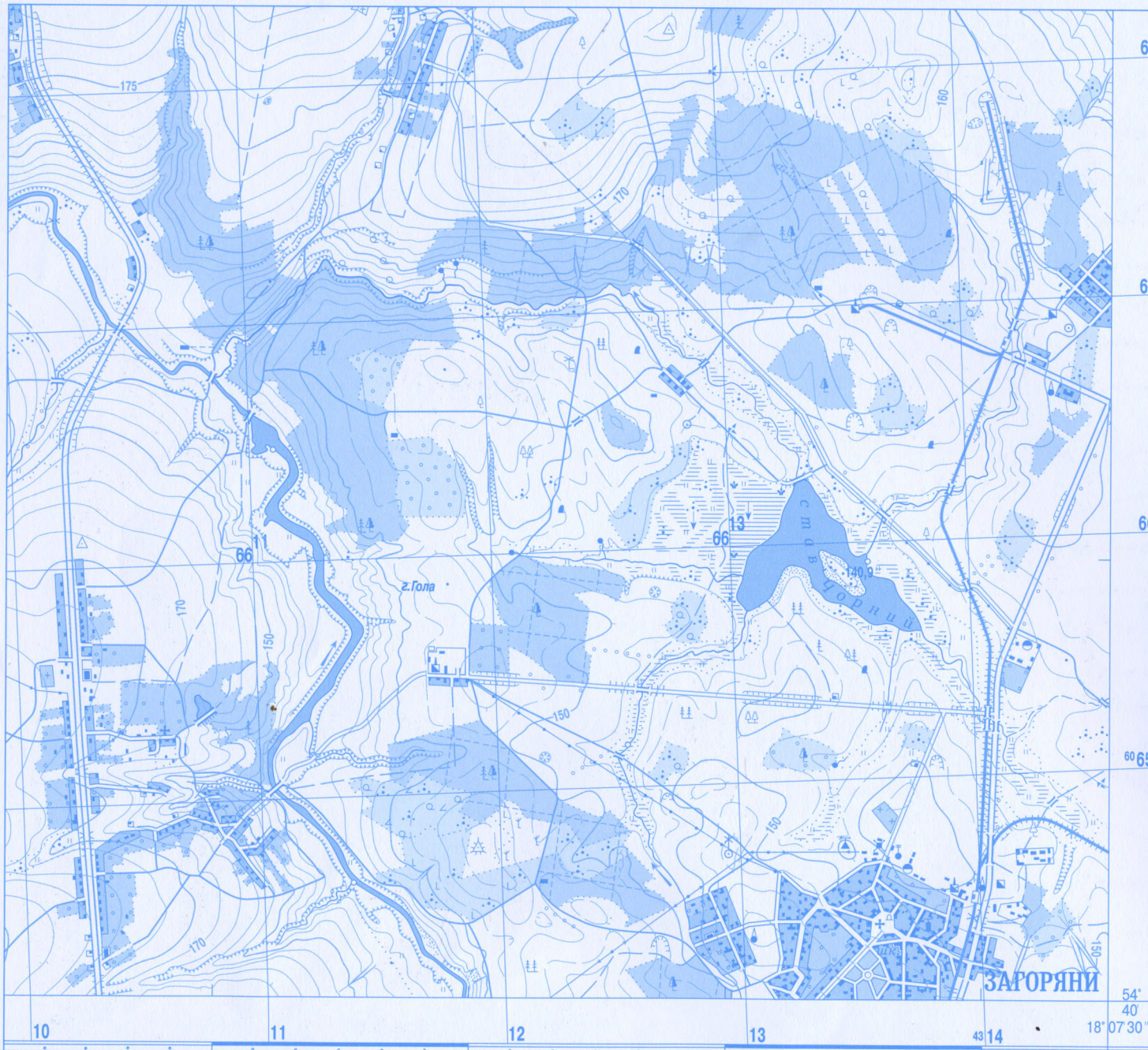


КОНТУРНІ КАРТИ

Україна у світі:
природа, населення



ЧАСТИНА АРКУША ТОПОГРАФІЧНОЇ КАРТИ N-34-37-B-B (ЗАГОРЯНИ)



ЗАВДАННЯ

1. Виміряйте відстань по прямій від церкви в місті Загоряни до відмітки 140.9 на острові на Чорному ставу.
2. Визначте, яким схилом (східним чи західним) легше підніматися на гору Гола.
3. Позначте на плані місцевості маршрут туристів за наведеним описом: під час походу туристи вирушили від школи міста Загоряни на північний захід на відстань 2125 м. Далі повернули на північ і пройшли ще 300 м, а потім 175 м на північний схід. Тоді вони попрямували просікою 500 м на південний схід і ще 350 м у тому самому напрямку. Після того туристи звернули на південний захід і пройшли 475 м. Потім на південний схід 825 м і ще 500 м на північний захід. Тут туристи розбили табір. Позначте на карті цю точку. Які об'єкти трапилися туристам на їхньому шляху?

УМОВНІ ПОЗНАЧЕННЯ

Масштаб 1:25 000

в 1 сантиметрі 250 метрів



ПОЛІТИЧНА КАРТА ЄВРОПИ



ЗАВДАННЯ

1. Позначте кордони України та проаналізуйте, у якій частині Європи розташована Україна (в центрі, на сході, на заході, на півдні).
2. Позначте держави, під владою яких були землі України в минулому.
3. Позначте кордони сусідніх держав та підпишіть їхні столиці.

УМОВНІ ПОЗНАЧЕННЯ

Масштаб 1:24 000 000



ЗАВДАННЯ

1. Нанесіть кордони та столиці держав, що належать до різних форм державного правління (по дві за вибором).
2. Нанесіть кордони та столиці держав, що належать до різних форм державного устрою (по дві за вибором).
3. Нанесіть на карту та назвіть міста, де розміщені штаб-квартири: ООН, НАТО, Ради Європи, ЮНЕСКО, Європейського Парламенту.

на схід від Гринвіча 60° 80° 100° 120° 140° 160° 180°



УМОВНІ ПОЗНАЧЕННЯ

© 2000
Держгеоцентр
Держкартографічне підприємство
Держгеоцентр

Масштаб 1:85 000 000



ЗАВДАННЯ

УМОВНІ ПОЗНАЧЕННЯ

1. На скільки годин і куди потрібно перевести годинникову стрілку в разі перельоту з Києва до:
- а) Парижа;
 - б) Токіо;
 - в) Лондона;
 - г) Нью-Йорка.

24° на схід від Гринвіча

28°

32°

36°

УМОВНІ ПОЗНАЧЕННЯ

ЗАВДАННЯ

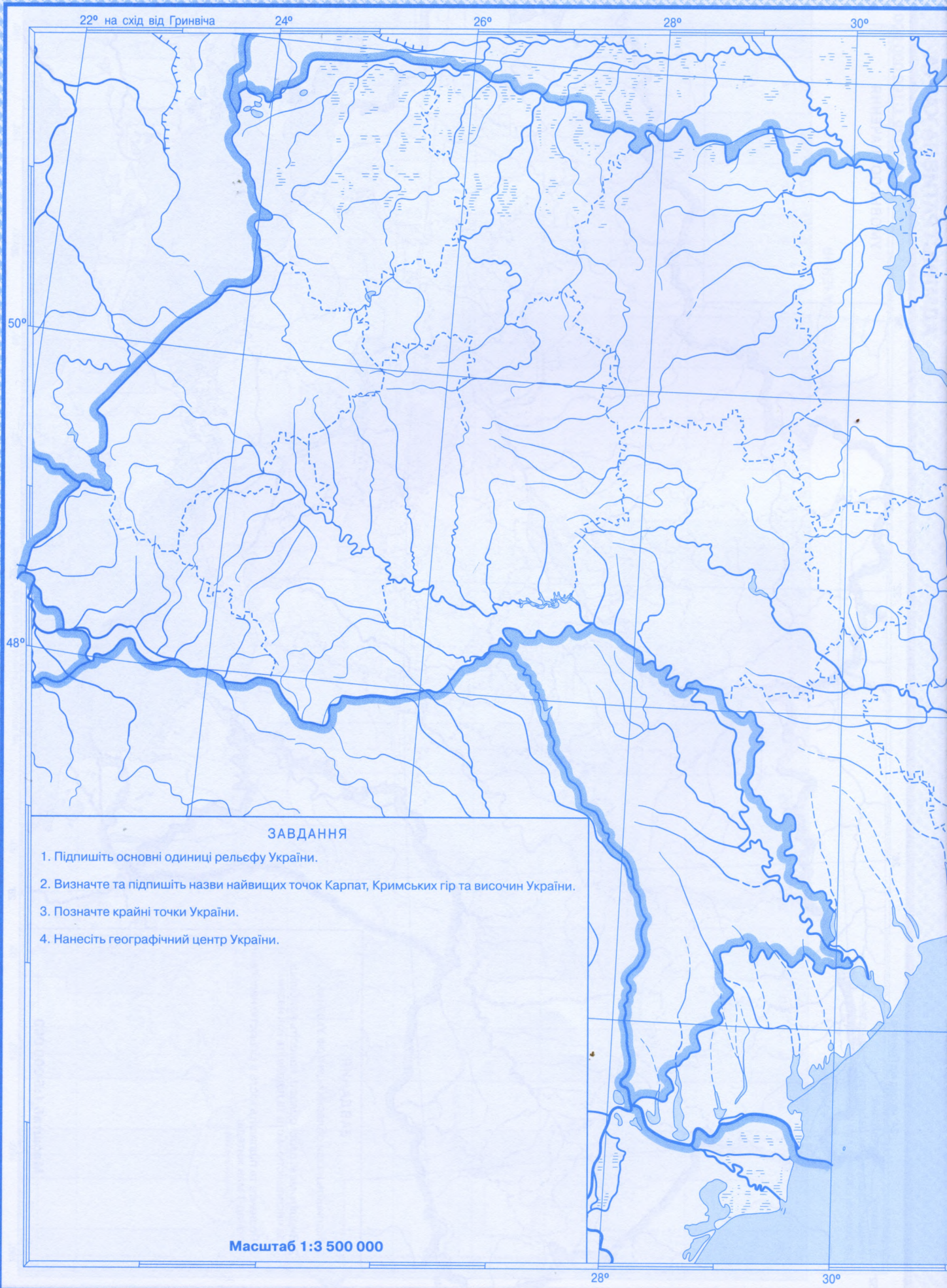
1. Підпишіть назви обласних центрів України.
2. Виділіть межі своєї області, нанесіть найбільші за чисельністю міста та підпишіть їхні назви.
3. Позначте та підпишіть міста з кількістю населення понад 1 млн жителів.

Масштаб 1:5 000 000

28°

32°

36°



ЗАВДАННЯ

1. Підпишіть основні одиниці рельєфу України.
2. Визначте та підпишіть назви найвищих точок Карпат, Кримських гір та височин України.
3. Позначте крайні точки України.
4. Нанесіть географічний центр України.

Масштаб 1:3 500 000

32°

36°

УМОВНІ ПОЗНАЧЕННЯ

38°

40°

50°

48°

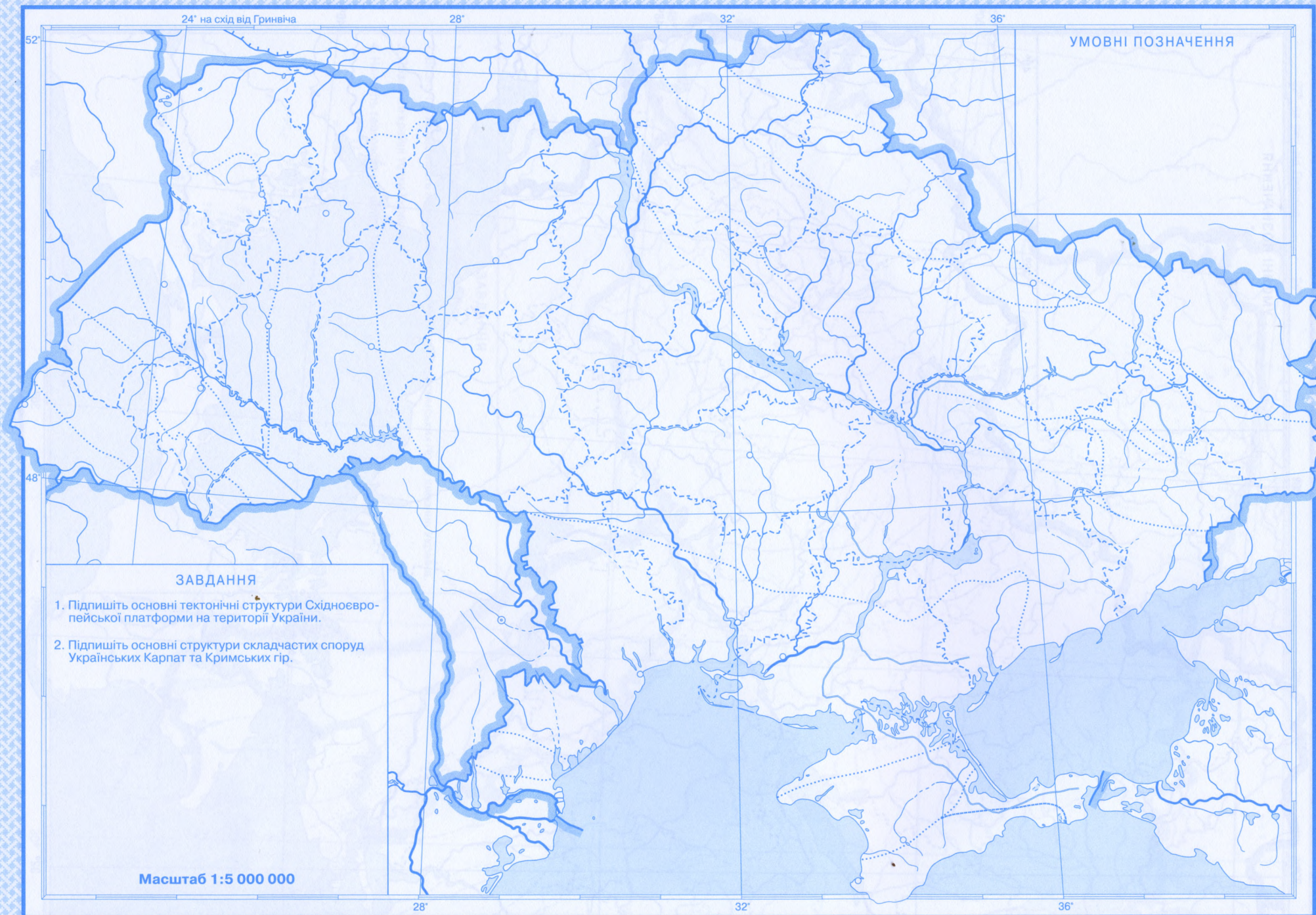
46°

32°

36°

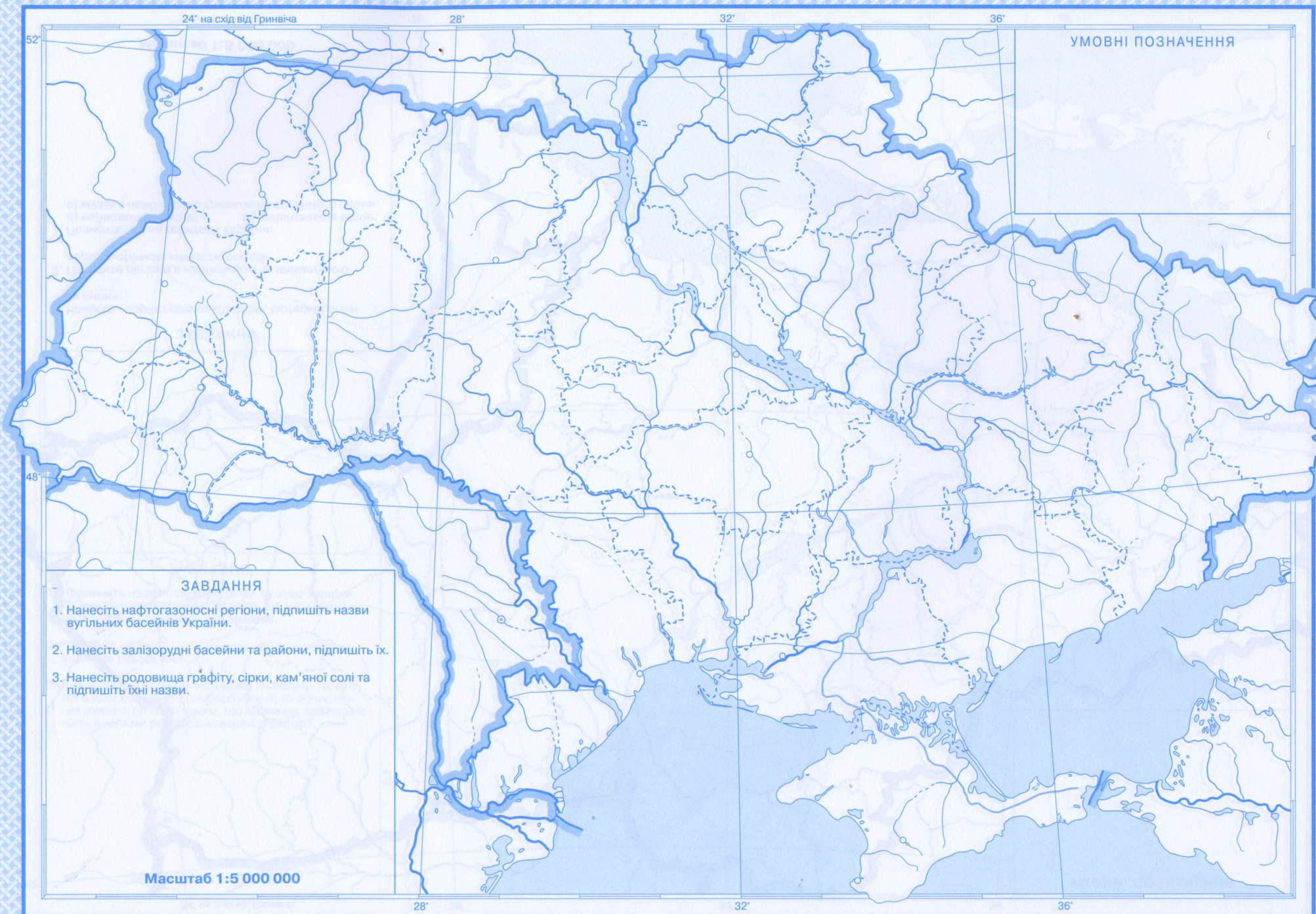
38°



**ЗАВДАННЯ**

1. Підпишіть основні тектонічні структури Східноєвропейської платформи на території України.
2. Підпишіть основні структури складчастих споруд Українських Карпат та Кримських гір.

Масштаб 1:5 000 000



24° на схід від Гринвіча

28°

32°

36°

УМОВНІ ПОЗНАЧЕННЯ

ЗАВДАННЯ

1. Нанесіть, користуючись атласом, ізотерми січня та липня.
2. Позначте регіони з найбільшою та найменшою середньорічною кількістю опадів.
3. Позначте, де на території України:
 - а) найвологіше місце;
 - б) найвітрянніше місце;
 - в) місце з найбільшою тривалістю сонячного сйва.

Масштаб 1:5 000 000

28°

32°

36°

24° на схід від Гринвіча

28°

32°

36°

УМОВНІ ПОЗНАЧЕННЯ

ЗАВДАННЯ

1. Надпишіть назви основних річок та озер України. Позначте штрихуванням області, що найменше забезпечені поверхневими водами.
2. Позначте області з найбільшою забезпеченістю водними ресурсами.
3. Визначте, до басейну якої річки належить територія вашої місцевості (зафарбуйте її) та обчисліть і надпишіть на карті число, що визначає забезпеченість водними ресурсами вашої території.

Масштаб 1:5 000 000

28°

32°

36°

52°

48°

24° на схід від Гринвіча

28°

32°

36°

УМОВНІ ПОЗНАЧЕННЯ

ЗАВДАННЯ

1. Нанесіть, користуючись атласом, регіони поширення чорноземів.
2. Позначте регіони поширення гірських ґрунтів.

Масштаб 1:5 000 000

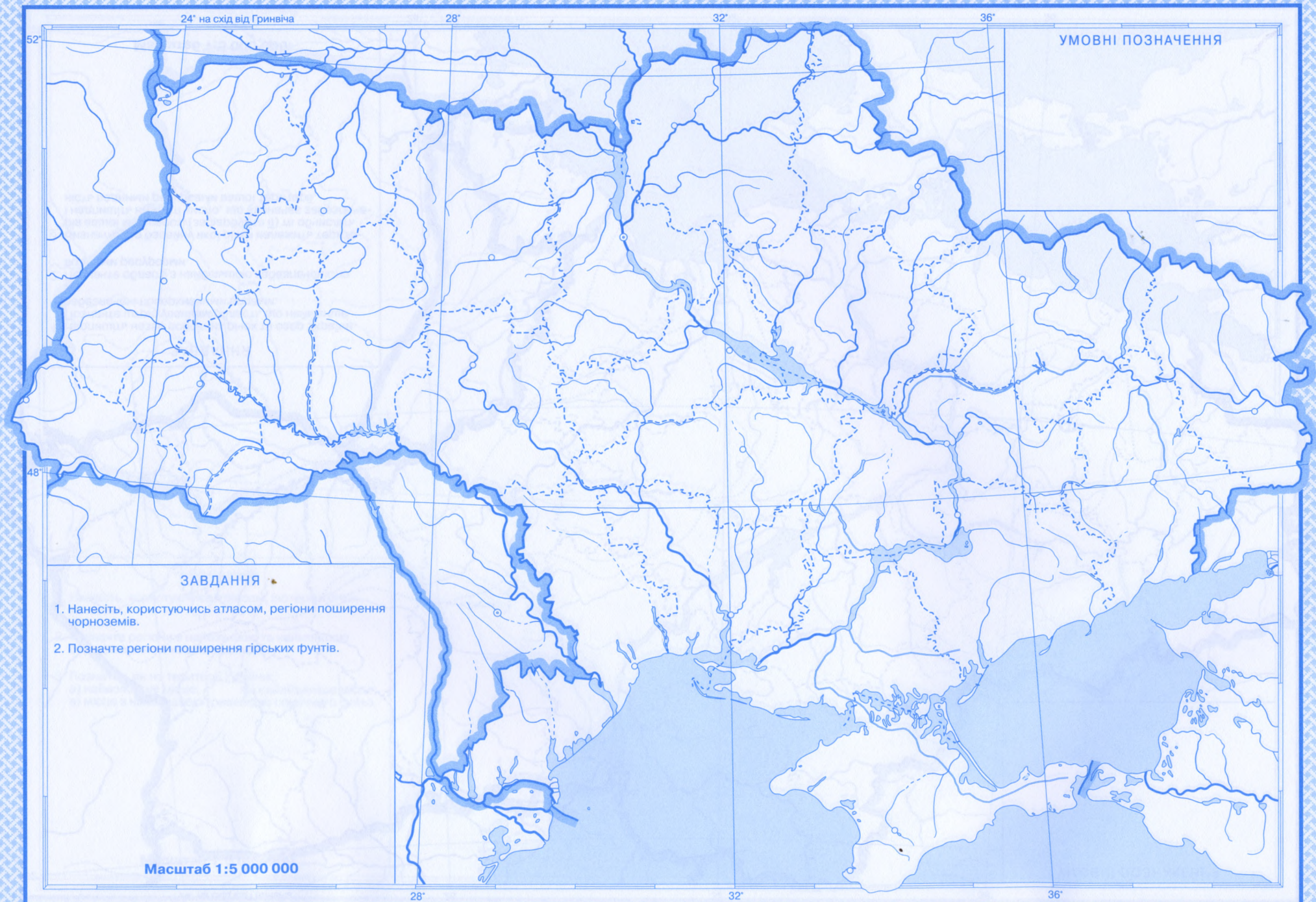
28°

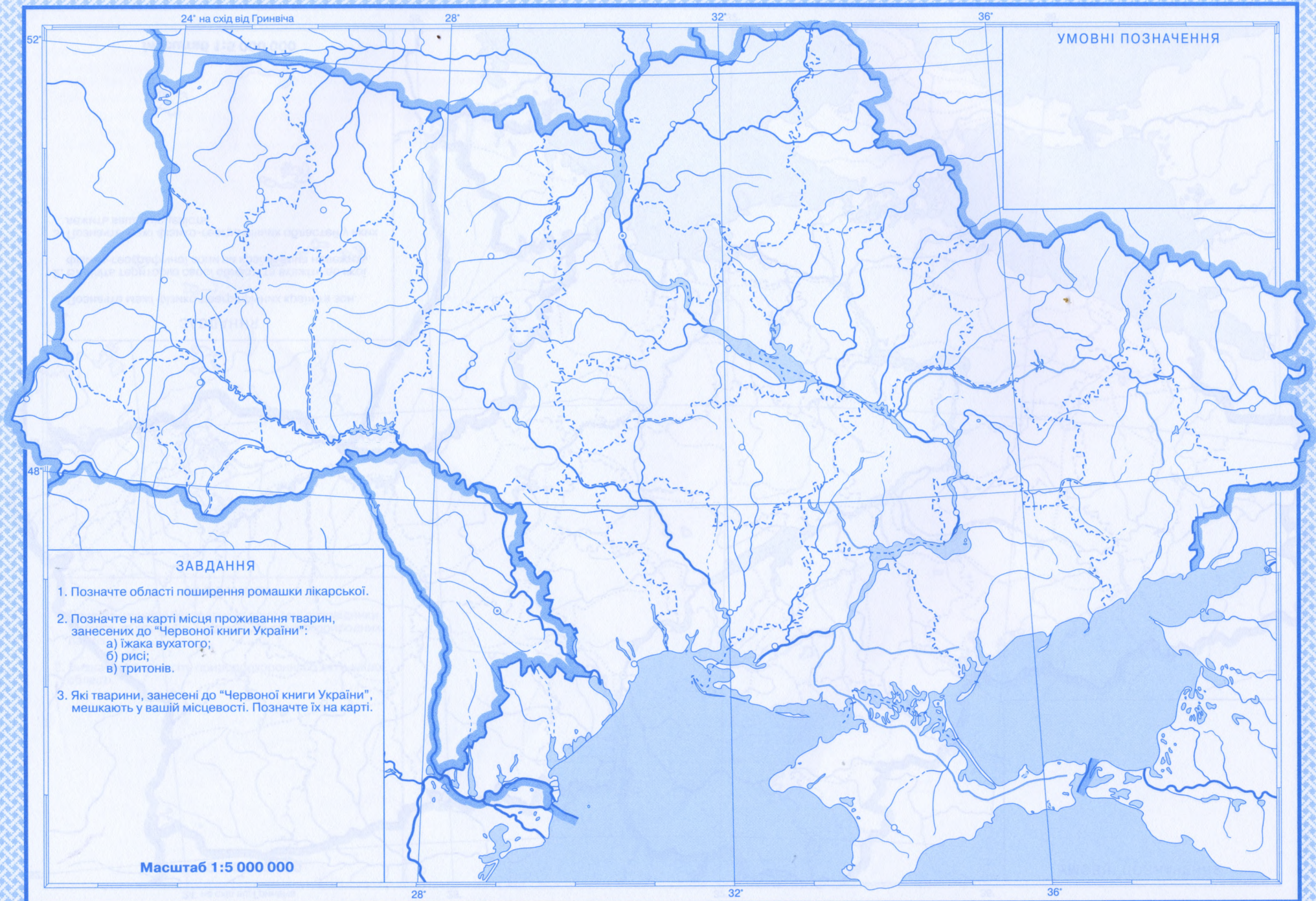
32°

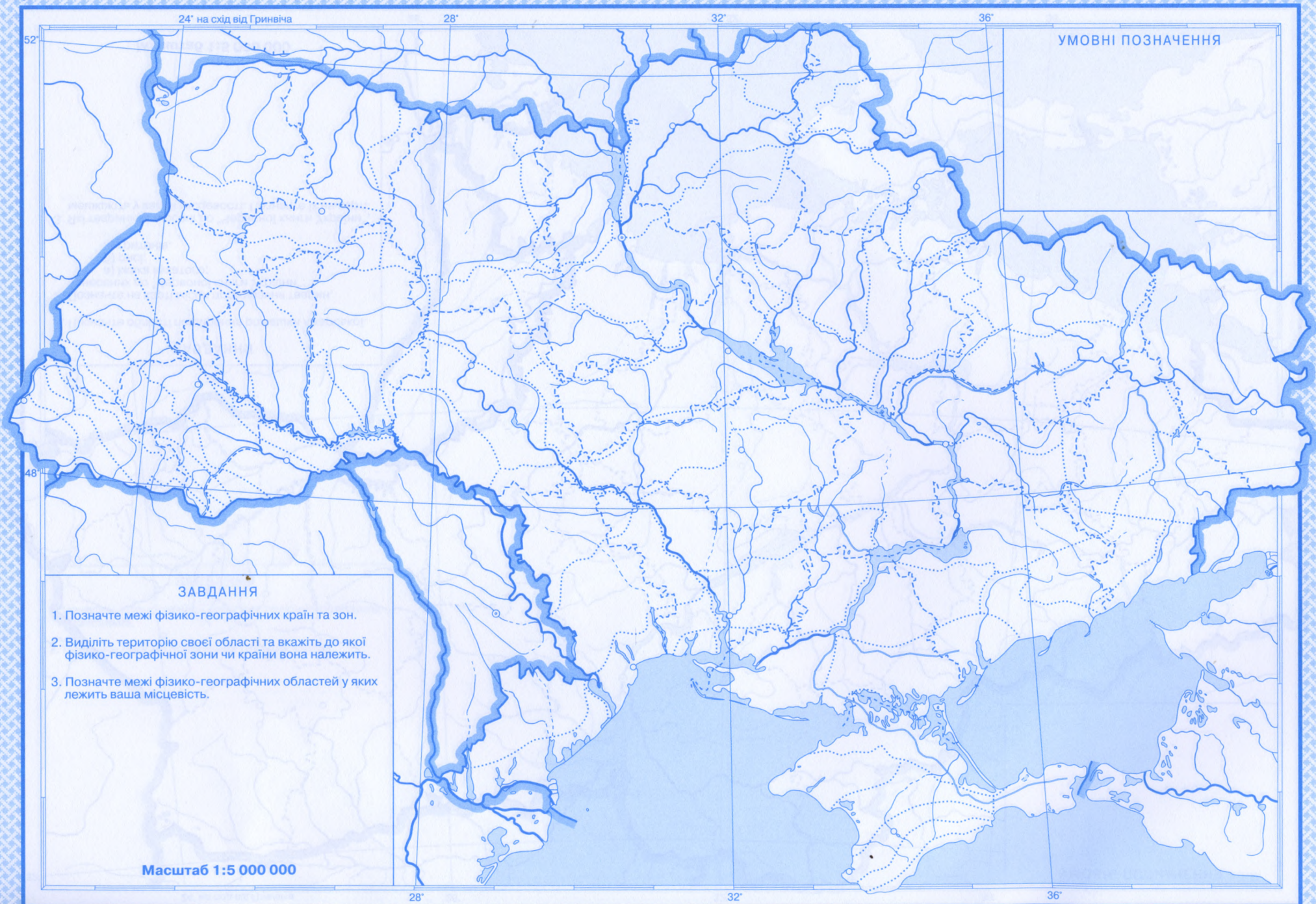
36°

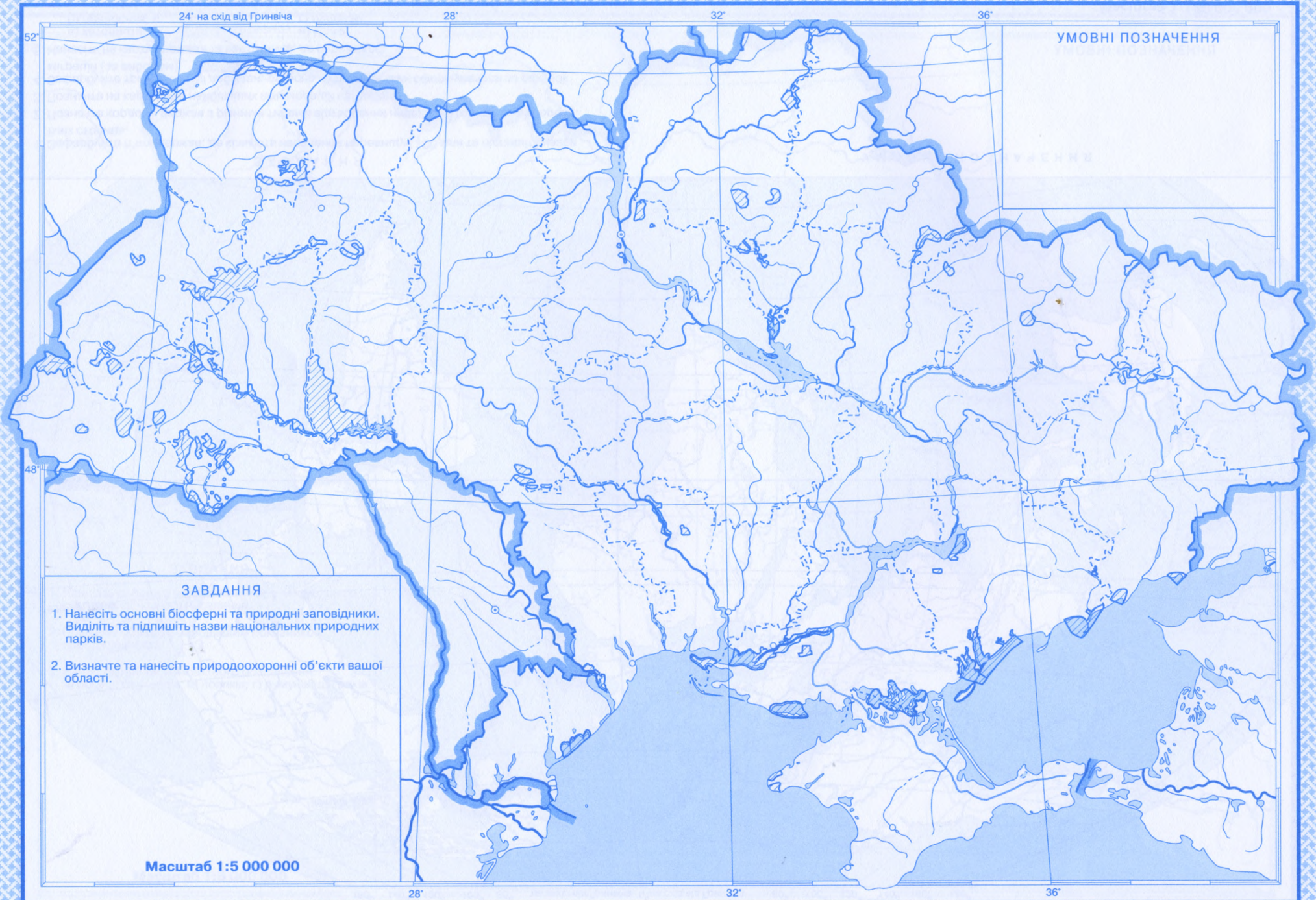
52°

48°











ЗАВДАННЯ

1. Зафарбуйте п'ять держав, де кількість населення перевищує 100 млн та підпишіть назви їхніх столиць.
2. Позначте кордони держав з різними типами відтворення населення (по три за вибором).
3. Позначте на карті п'ять найбільших агломерацій світу.
4. Зафарбуйте три найбільші держави, сучасне населення яких сформувалося за рахунок міграції (за вибором).
5. Нанесіть на карту держави та їхні столиці, де переважає:

а) католицизм;	в) іслам;
б) православ'я;	г) буддизм.

УМОВНІ ПОЗНАЧЕННЯ

НАСЕЛЕННЯ УКРАЇНИ

УМОВНІ ПОЗНАЧЕННЯ

24° на схід від Гринвіча

28°

32°

36°

52°

48°

ЗАВДАННЯ

1. Нанесіть райони з максимальною та мінімальною густотою сільського населення.
2. Позначте області з найбільшим показником народжуваності.
3. Нанесіть райони компактного розселення:
а) росіян; б) угорців; в) поляків; г) румунів; д) греків.

Масштаб 1:5 000 000

28°

32°

36°

	ЧАСТИНА АРКУША ТОПОГРАФІЧНОЇ КАРТИ N-34-37-B-B (ЗАГОРЯНИ)	1:25 000
1	ПОЛІТИЧНА КАРТА ЄВРОПИ	1:24 000 000
2-3	ПОЛІТИЧНА КАРТА СВІТУ	1:85 000 000
4	ГОДИННІ ПОЯСИ	1:160 000 000
5	АДМІНІСТРАТИВНА КАРТА	1:5 000 000
6-7	ФІЗИЧНА КАРТА	1:3 500 000
8	ТЕКТОНІЧНА БУДОВА	1:5 000 000
9	МІНЕРАЛЬНО-СИРОВИННІ РЕСУРСИ	1:5 000 000
10	КЛІМАТ	1:5 000 000
11	ПОВЕРХНЕВІ ВОДИ	1:5 000 000
12	ҐРУНТИ	1:5 000 000
13	РОСЛИННИЙ І ТВАРИННИЙ СВІТ	1:5 000 000
14	ФІЗИКО-ГЕОГРАФІЧНЕ РАЙОНУВАННЯ	1:5 000 000
15	ПРИРОДНО-ЗАПОВІДНИЙ ФОНД	1:5 000 000
16	НАСЕЛЕННЯ СВІТУ	1:120 000 000
	НАСЕЛЕННЯ УКРАЇНИ	1:5 000 000



Україна у світі: природа, населення

8

КЛАС



РЕКОМЕНДОВАНО МІНІСТЕРСТВОМ ОСВІТИ І НАУКИ УКРАЇНИ
(лист № 1/11-8104 від 17.11.2020)

Контурні карти відповідають санітарному законодавству України
(лист № 12.2-18-1/3623 від 27.02.2020)

ДЕРЖАВНЕ НАУКОВО-ВИРОБНИЧЕ ПІДПРИЄМСТВО «КАРТОГРАФІЯ»

вул. Попудренка, 54, м. Київ-94, 02094
Свідоцтво суб'єкта видавничої справи
ДК № 398 від 03.04.2001

Редактори: С.В. Капустенко, В.І. Остроух
Технічний редактор С.М. Полторако

Формат 60x84
Ум. друк. арк. 2,0
Зам. № 05132

Друк офсетний

Видруковано ТОВ «Новий друк»
вул. Магнітогорська, 1, м. Київ-94, 02094
Свідоцтво суб'єкта видавничої справи
ДК № 1447 від 28.07.2003

