

ПІДГОТОВКА ДО ЗНО



ГЕОГРАФІЯ

Редактори

11
клас

Нова програма

КОНТУРНІ КАРТИ

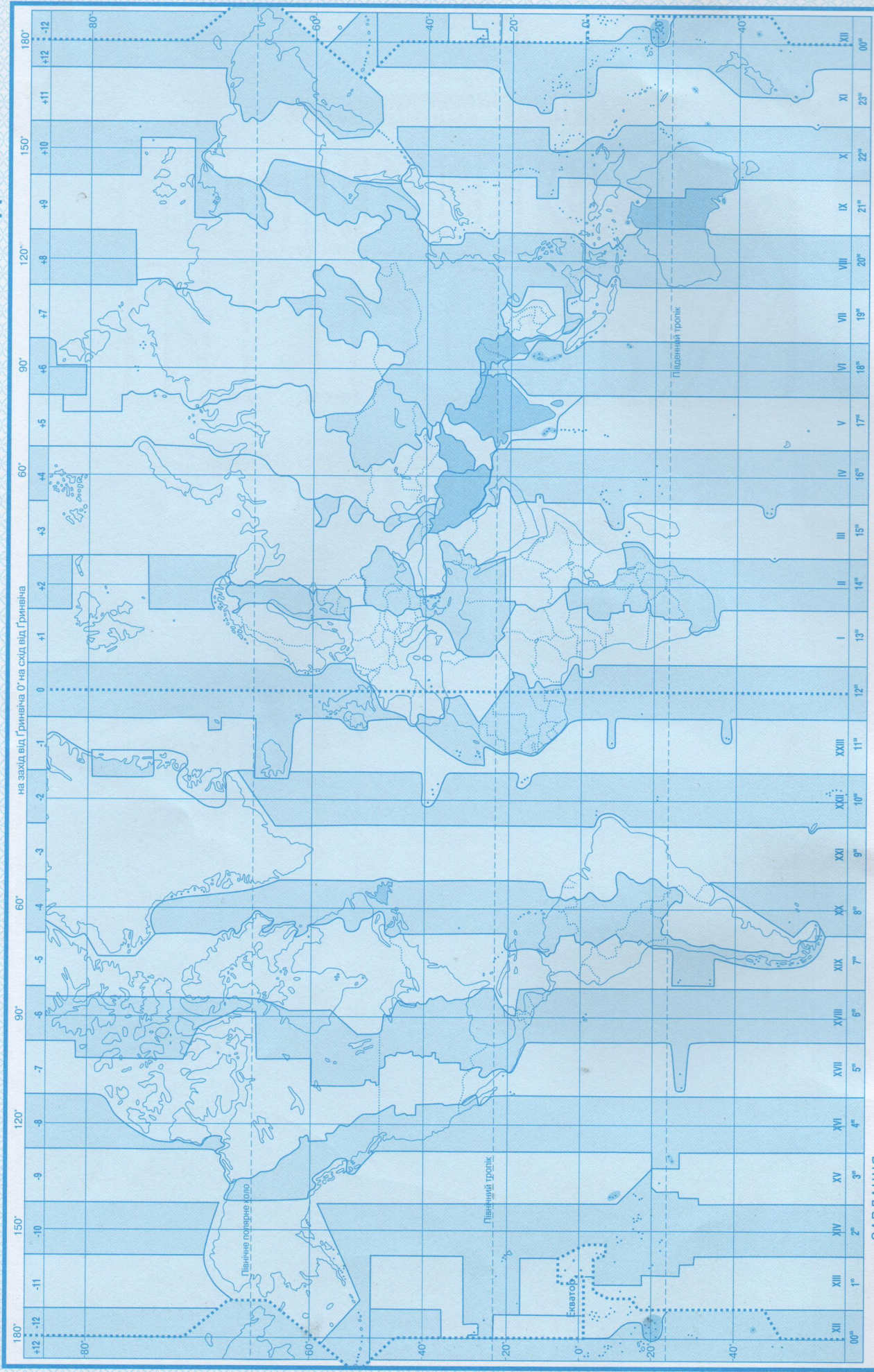
Географічний простір Землі



 **КАРТОГРАФІЯ**

ukrmap.com.ua
kartographia.com.ua

ГОДИННІ ПОЯСИ



на захід від Гринвіча 0° на схід від Гринвіча

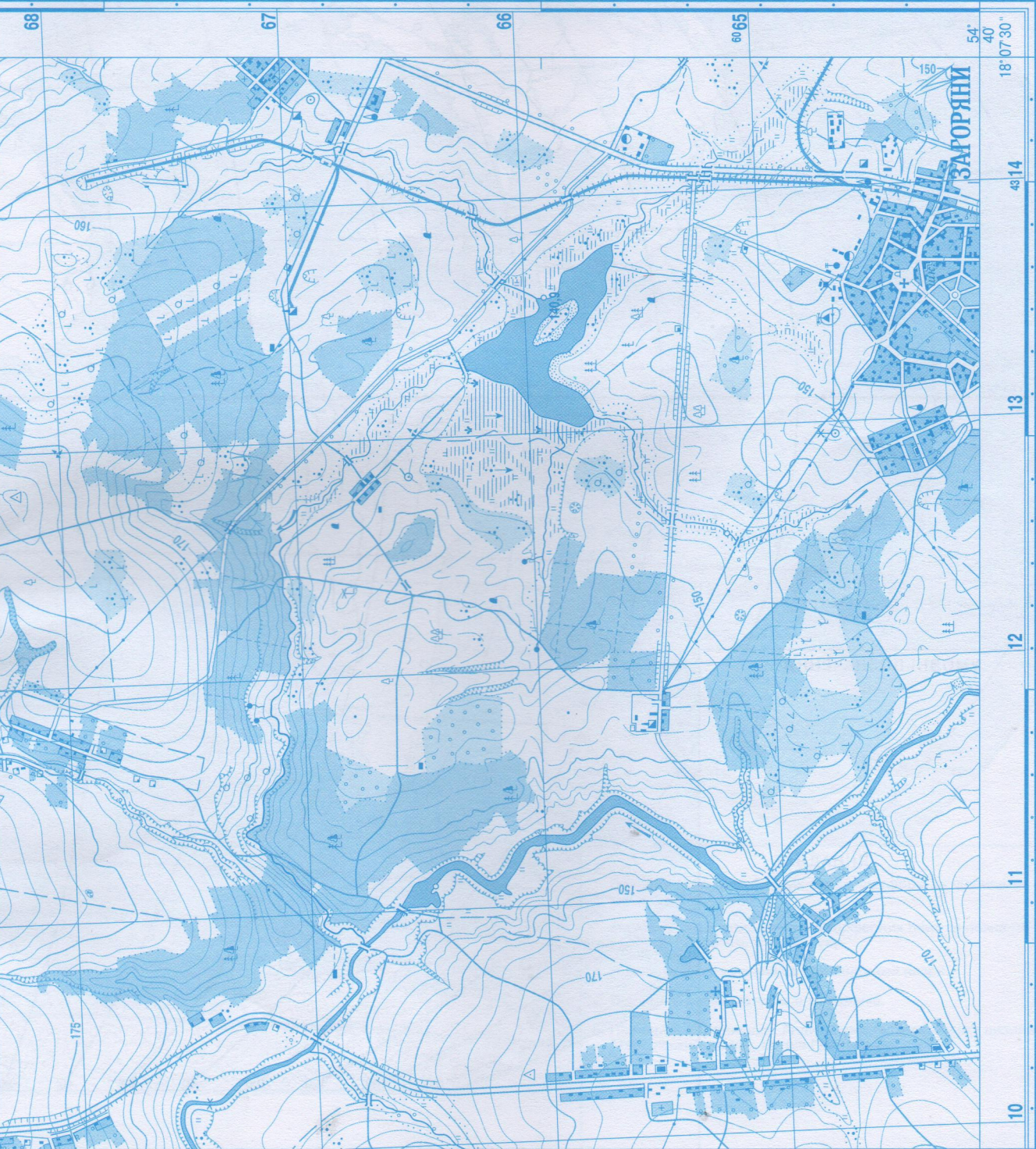
180° +12 -12 80° 60° 40° 20° 0° -20° -40° 180° 150° 120° 90° 60° 30° 0° -30° -60° -90° -120° -150° -180°

УМОВНІ ПОЗНАЧЕННЯ

ЗАВДАННЯ

1. Визначте, у яких годинних поясах розташовані міста: Сеул, Лондон, Мехіко, Кейптаун.
2. Визначте поясний час у Нью-Делі, Оттаві, Одесі, якщо в Києві 15 година.

Масштаб 1:160 000 000



ЗАВДАННЯ

1. Відповідно до умовних знаків топографічних карт позначте об'єкти та визначте їхні прямокутні координати:
г. Малинівська гірло річки Чиста
джерело Голубе школа у Федорівці
2. Визначте дирекційний кут, істинний і магнітний азимуту напрямку, в якому рухається автомобіль, що виїждз із села Мостище і повернув на село Великі Броди.
3. За географічними координатами позначте точки на карті:

широта	довгота
54°40'55"	18°06'18"
54°41'05"	18°07'10"
54°41'45"	18°04'20"

УМОВНІ ПОЗНАЧЕННЯ

Масштаб 1:25 000
в 1 сантиметрі 250 метрів



ТЕКТОНІЧНА БУДОВА ТА ФІЗИЧНА ПОВЕРХНЯ СВІТУ



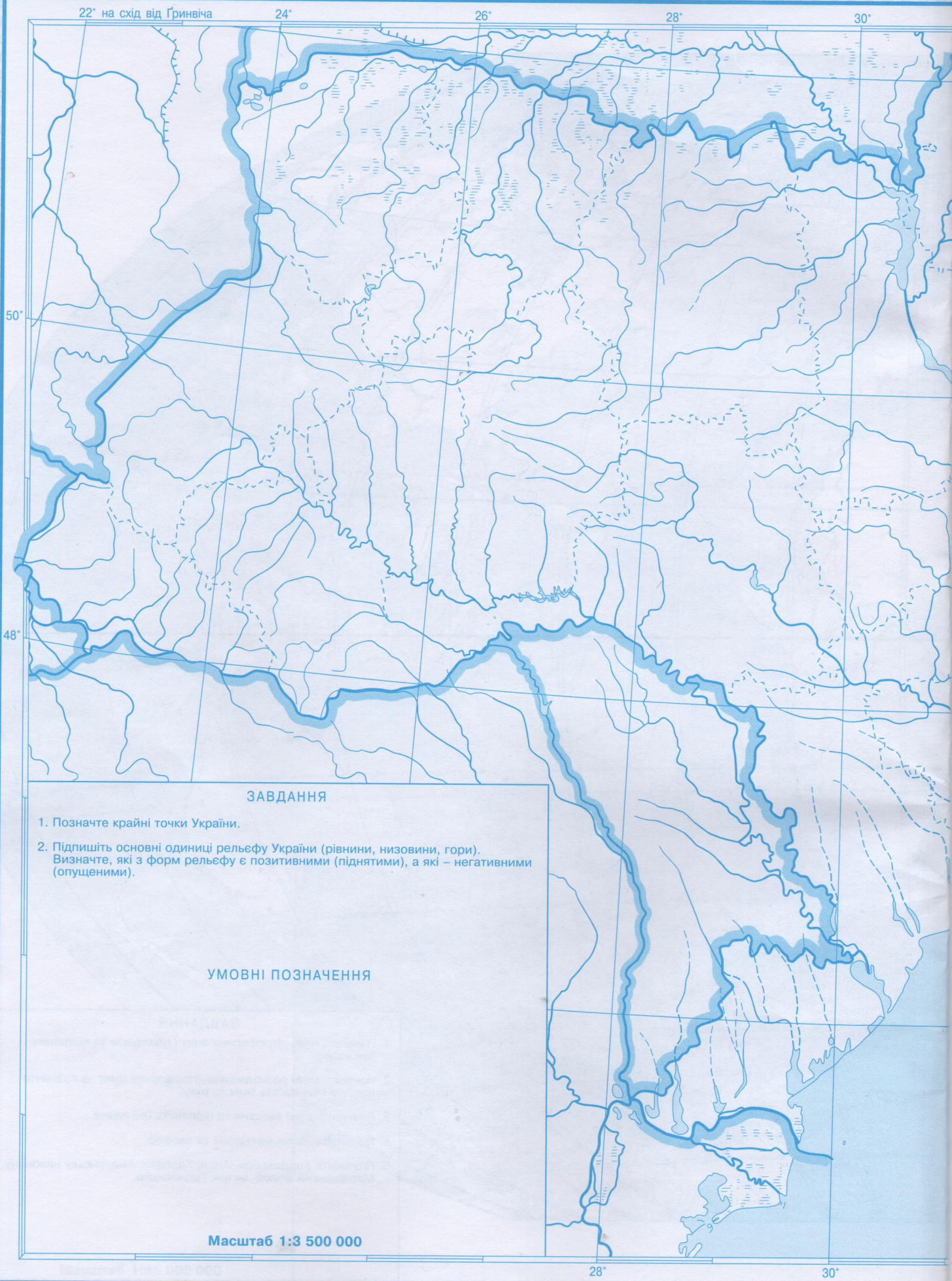
на схід від Гринвіча



ЗАВДАННЯ

1. Нанесіть межі літосферних плит і платформ та підпишіть їхні назви.
2. Нанесіть межі розходження літосферних плит та позначте напрям і швидкість їхнього руху.
3. Позначте діючі вулкани та підпишіть їхні назви.
4. Підпишіть назви материків та океанів.
5. Підпишіть Кордильєри, Анди, Карпати, Амазонську низовину, Маріанський жолоб, острів Гренландію.

ФІЗИЧНА КАРТА УКРАЇНИ

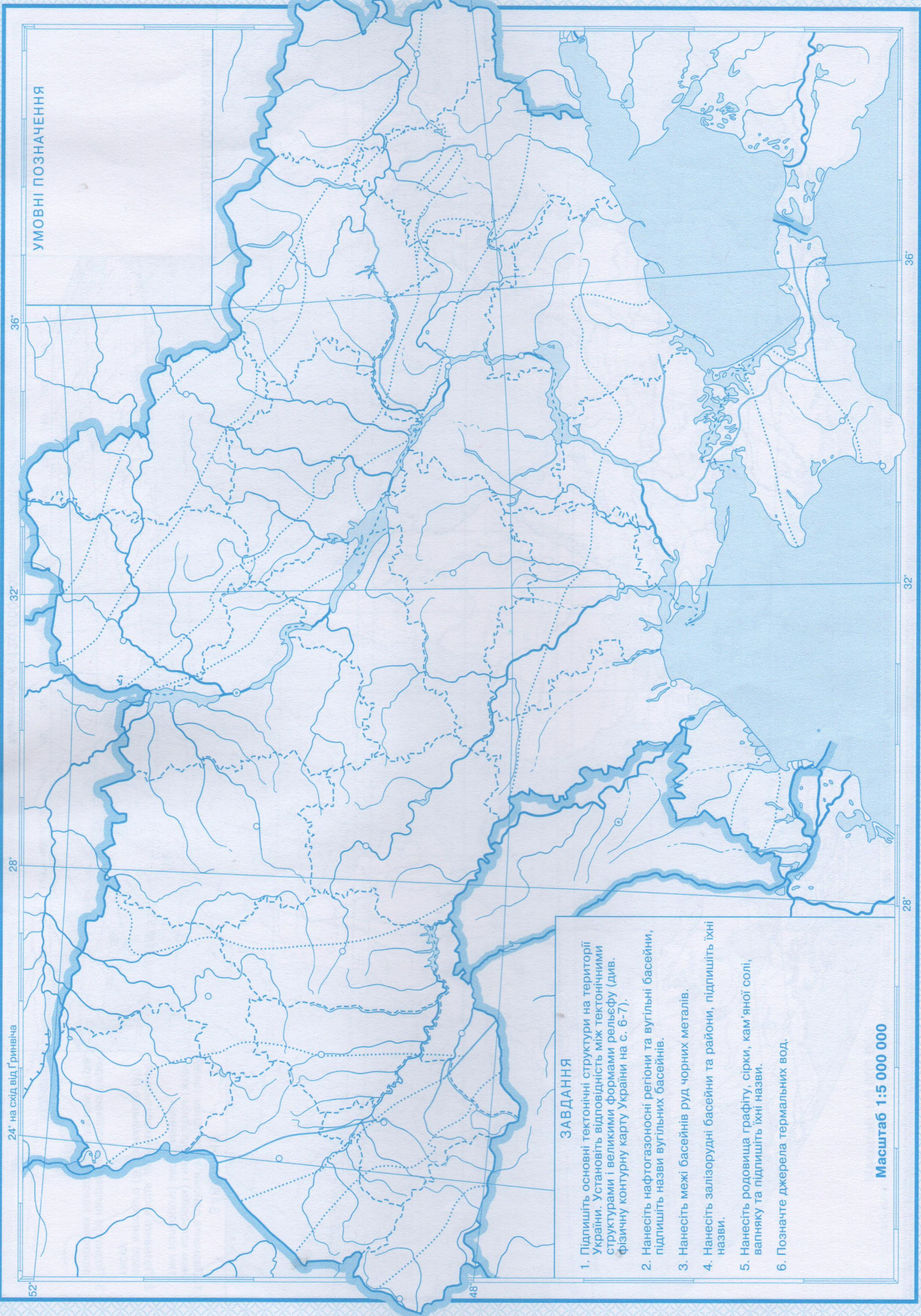




ЗАВДАННЯ

УМОВНІ ПОЗНАЧЕННЯ

1. Позначте найбільші басейни нафти та природного газу.
2. Позначте найбільші басейни кам'яного вугілля.
3. Позначте країну, що видобуває найбільше бокситів.
4. Позначте держави, які володіють значними запасами руд:
 - а) мanganових;
 - б) алюмінієвих;
 - в) мідних.



24° на схід від Гринвіча

36°

32°

28°

52°

46°

36°

32°

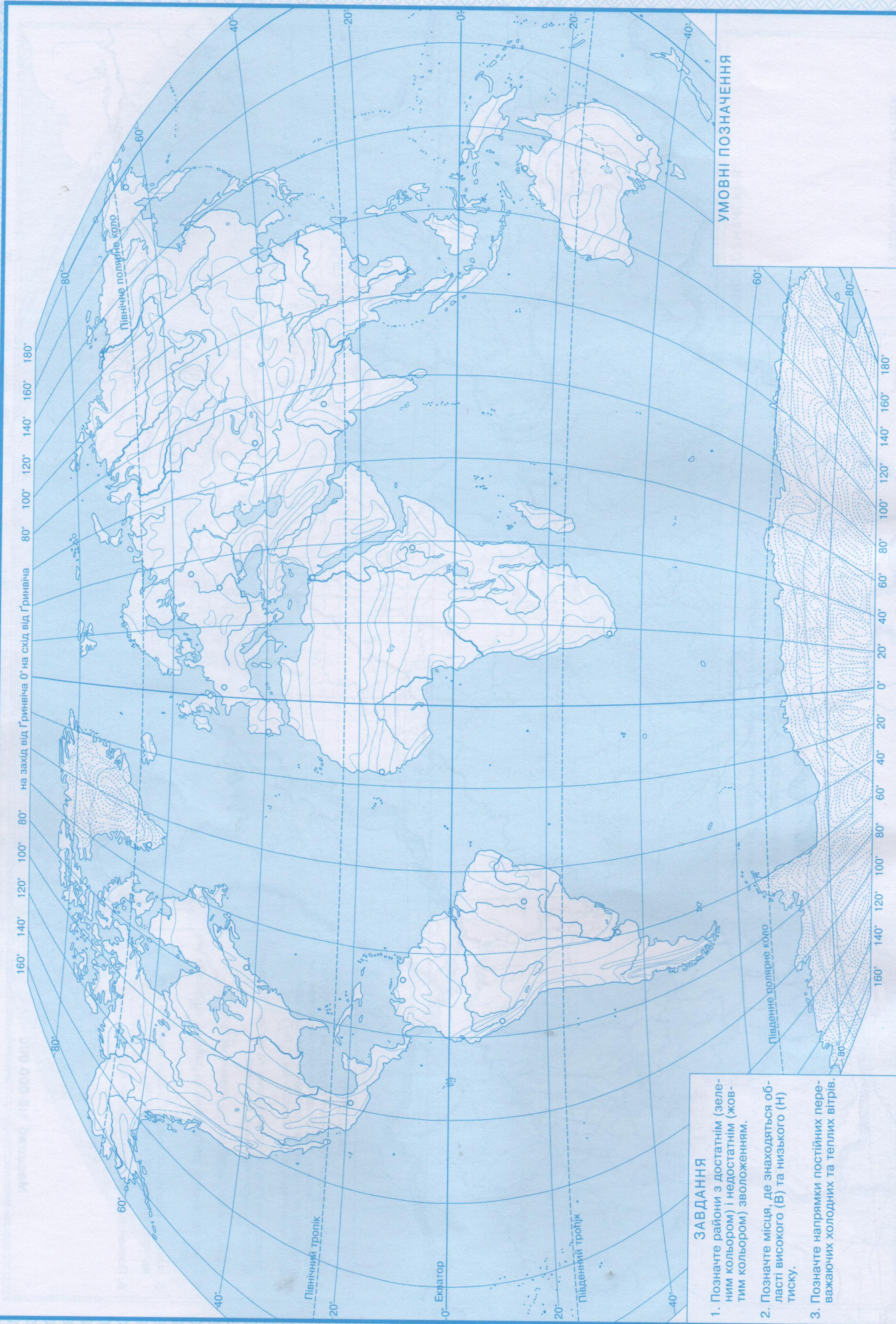
28°

ЗАВДАННЯ

1. Підпишіть основні тектонічні структури на території України. Установіть відповідність між тектонічними структурами і великими формами рельєфу (див. фізичну контурну карту України на с. 6-7).
2. Нанесіть нафтогазоносні регіони та вугільні басейни, підпишіть назви вугільних басейнів.
3. Нанесіть межі басейнів руд чорних металів.
4. Нанесіть залізрудні басейни та райони, підпишіть їхні назви.
5. Нанесіть родовища графіту, сірки, кам'яної солі, вапняку та підпишіть їхні назви.
6. Позначте джерела термальних вод.

Масштаб 1:5 000 000

КЛІМАТИЧНА КАРТА СВІТУ

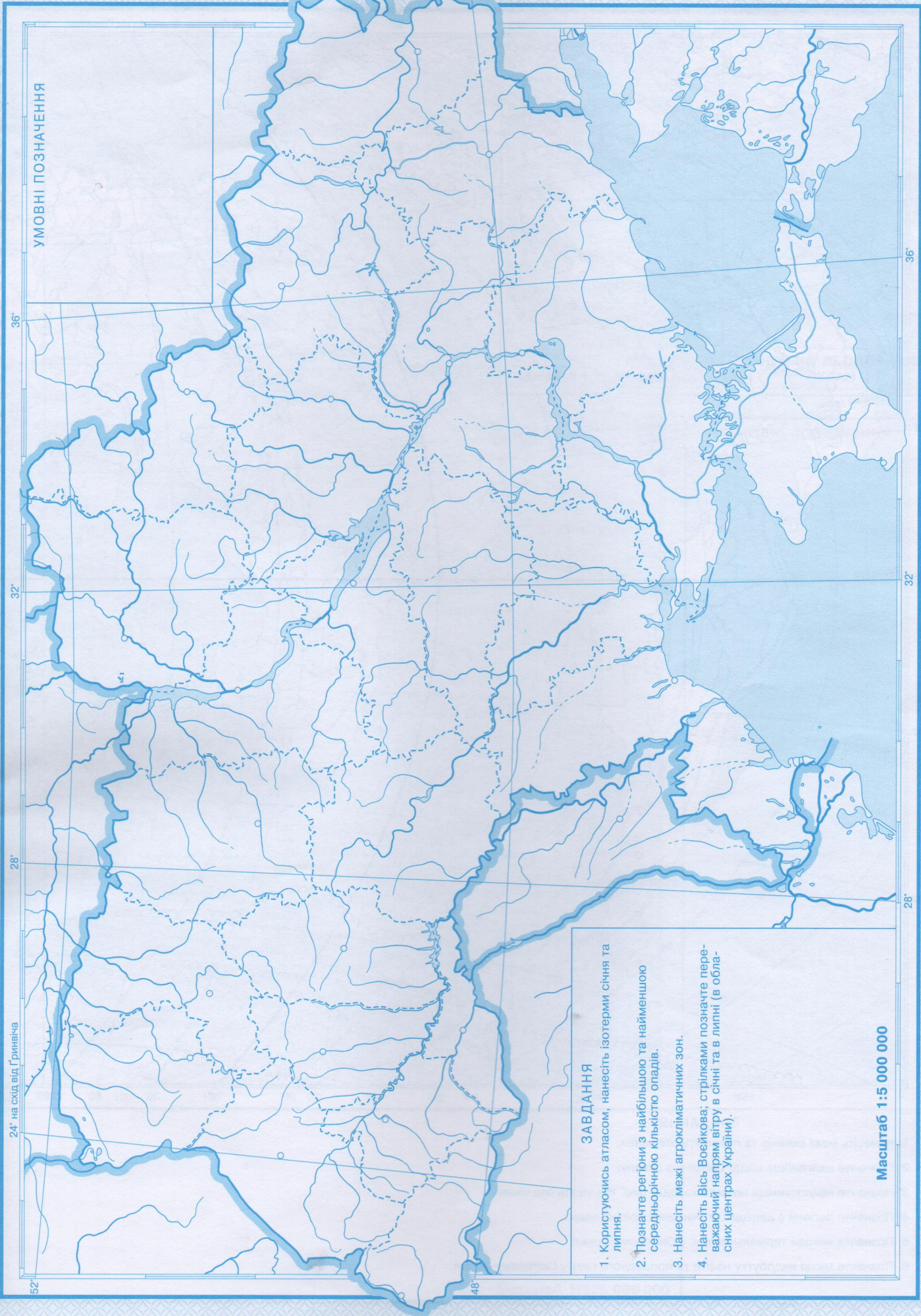


ЗАВДАННЯ

1. Позначте райони з достатнім (зеленим кольором) і недостатнім (жовтим кольором) зволоженням.
2. Позначте місця, де знаходяться області високого (В) та низького (Н) тиску.
3. Позначте напрямки постійних переважаючих холодних та теплих вітрів.

УМОВНІ ПОЗНАЧЕННЯ

Масштаб 1:120 000 000



УМОВНІ ПОЗНАЧЕННЯ

36°

32°

28°

24° на схід від Гринвіча

36°

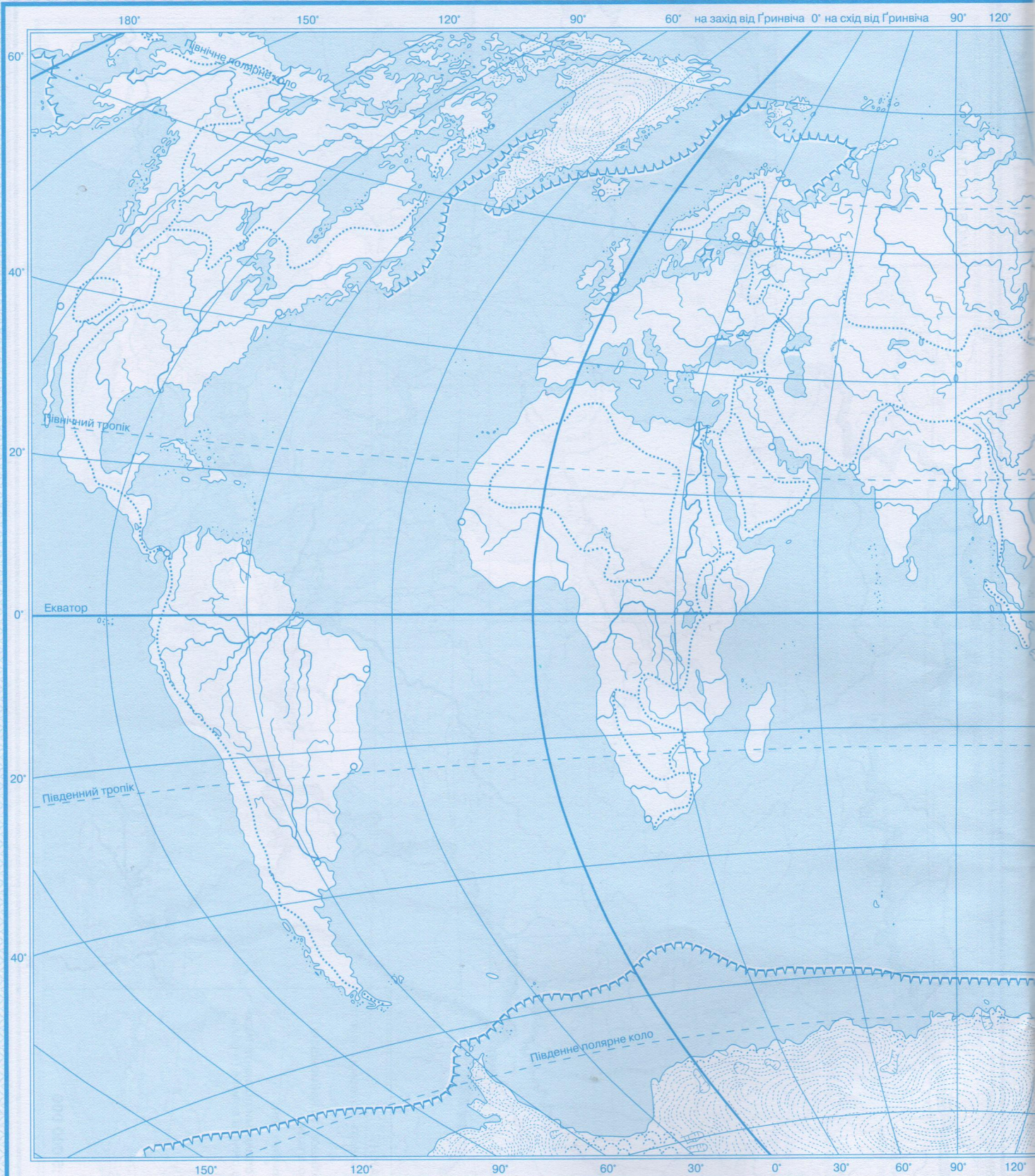
32°

28°

Масштаб 1:5 000 000


- ЗАВДАННЯ**
1. Користуючись атласом, нанесіть ізотерми січня та липня.
 2. Позначте регіони з найбільшою та найменшою середньорічною кількістю опадів.
 3. Нанесіть межі агрокліматичних зон.
 4. Нанесіть Вісь Вейкова; стрілками позначте переважаючий напрям вітру в січні та в липні (в обла-стних центрах України).

СВІТОВИЙ ОКЕАН



ЗАВДАННЯ

1. Нанесіть межі океанів та підпишіть їхні назви.
2. Позначте найглибше місце Світового океану.
3. Позначте найпотужніші теплі та холодні течії, підпишіть їхні назви.
4. Позначте регіони з дефіцитом очищеної прісної води.
5. Позначте виходи термальних вод у Світовому океані.
6. Позначте місця видобутку нафти та природного газу у Світовому океані.



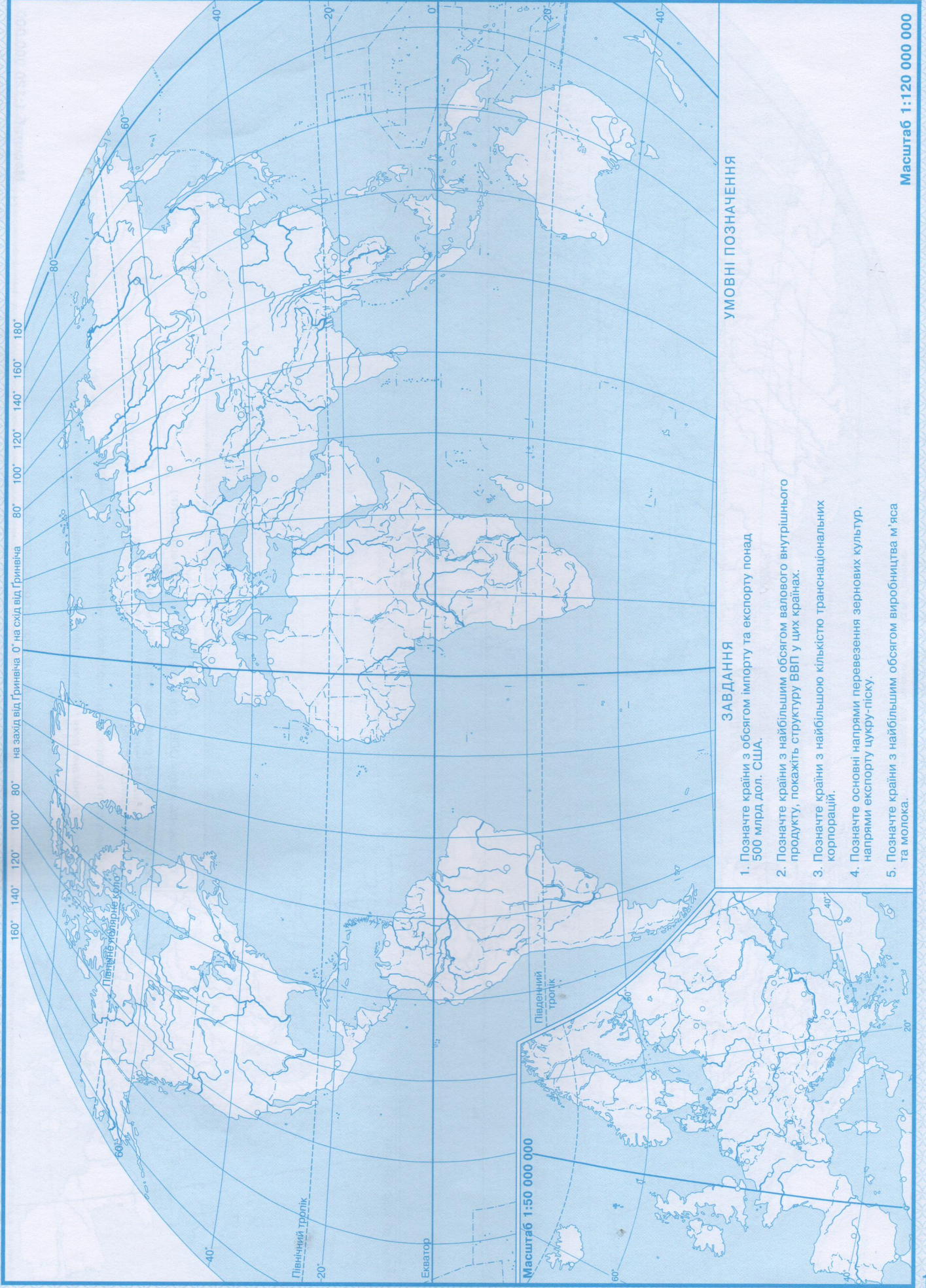


ЗАВДАННЯ

1. Позначте п'ять міст з людністю понад 10 млн осіб та підпишіть їхні назви.
2. Позначте країни з найбільшим та найменшим приростом населення.
3. Позначте п'ять найбільших агломерацій світу.
4. Позначте країни з найвищими та найнижчим рівнями соціального розвитку.
5. Стрілками позначте основні напрямки міграції населення.

УМОВНІ ПОЗНАЧЕННЯ

Масштаб 1:120 000 000



УМОВНІ ПОЗНАЧЕННЯ

ЗАВДАННЯ

1. Позначте країни з обсягом імпорту та експорту понад 500 млрд дол. США.
2. Позначте країни з найбільшим обсягом валового внутрішнього продукту, покажіть структуру ВВП у цих країнах.
3. Позначте країни з найбільшою кількістю транснаціональних корпорацій.
4. Позначте основні напрями перевезення зернових культур, напрямки експорту цукру-піску.
5. Позначте країни з найбільшим обсягом виробництва м'яса та молока.

Масштаб 1:120 000 000

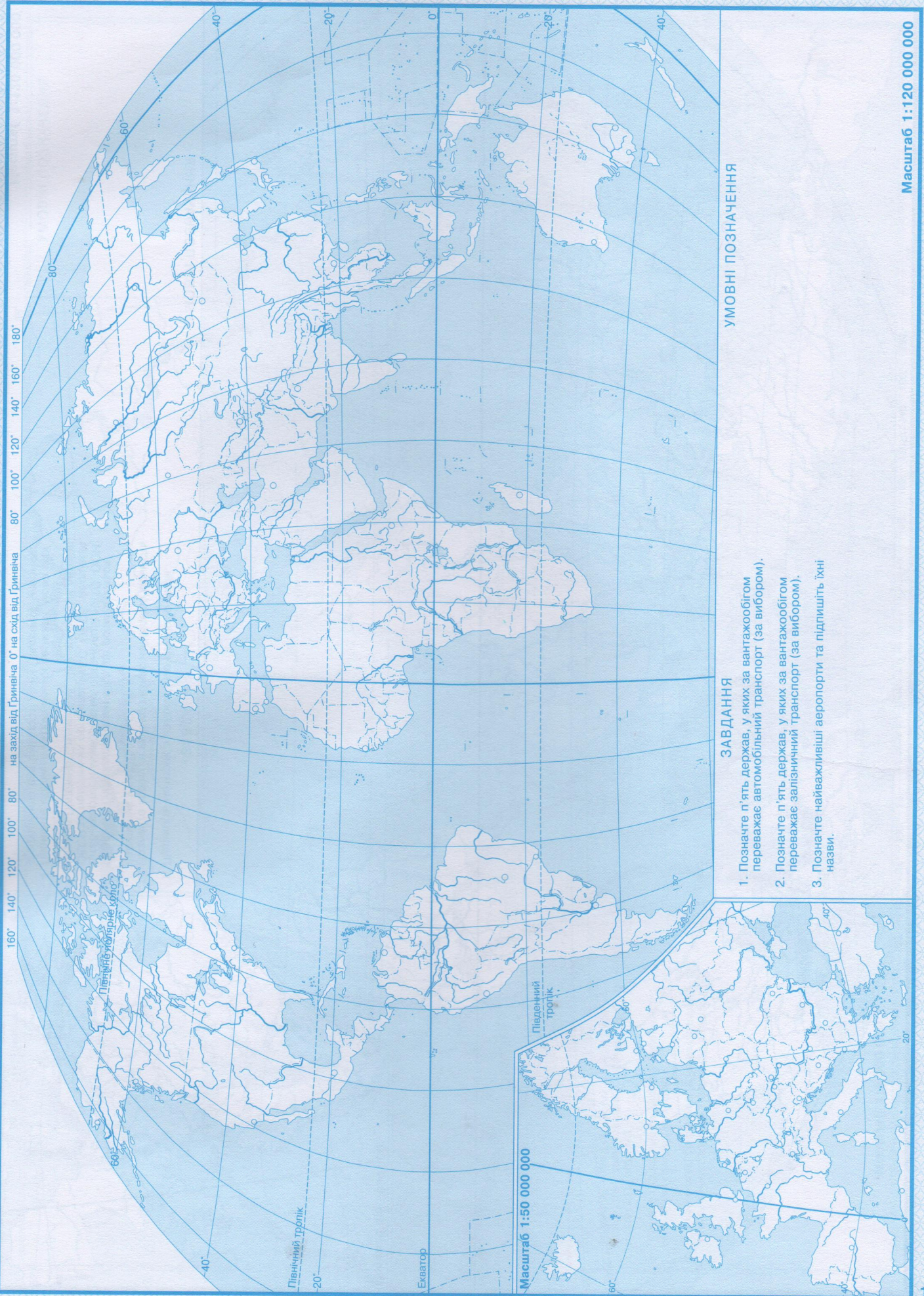


ЗАВДАННЯ

УМОВНІ ПОЗНАЧЕННЯ

1. Позначте країни ОПЕК (організація країн-експортерів нафти).
2. Позначте п'ять держав, що спеціалізуються на:
 - а) виробництві чорних металів;
 - б) виробництві сталі;
 - в) експорті міді;
 - г) експорті алюмінію.
3. Позначте п'ять держав, що виробляють найбільше електроенергії.
4. Позначте знаками руху глобальні ланцюги доданої вартості в металургії, автомобілебудуванні, електронних виробництвах, фармацевтиці, легкій промисловості (за вибором).
5. Позначте найбільші країни-виробники легкових автомобілів.

ТРАНСПОРТ СВІТУ




УМОВНІ ПОЗНАЧЕННЯ

ЗАВДАННЯ

1. Позначте п'ять держав, у яких за вантажообігом переважає автомобільний транспорт (за вибором).
2. Позначте п'ять держав, у яких за вантажообігом переважає залізничний транспорт (за вибором).
3. Позначте найважливіші аеропорти та підпишіть їхні назви.

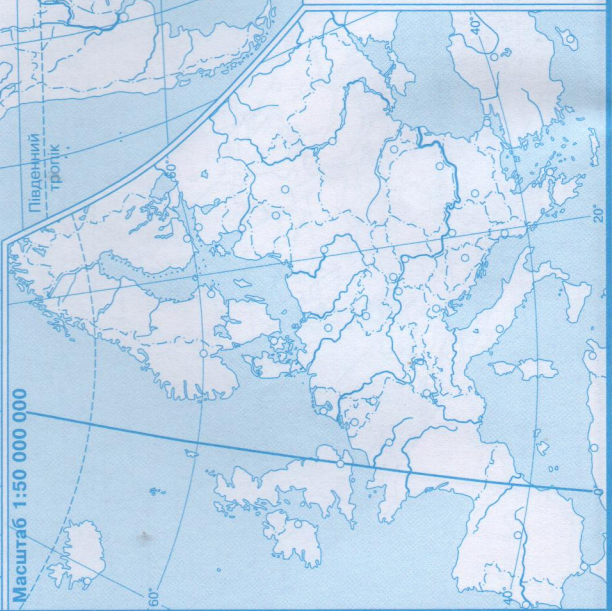
Масштаб 1:120 000 000



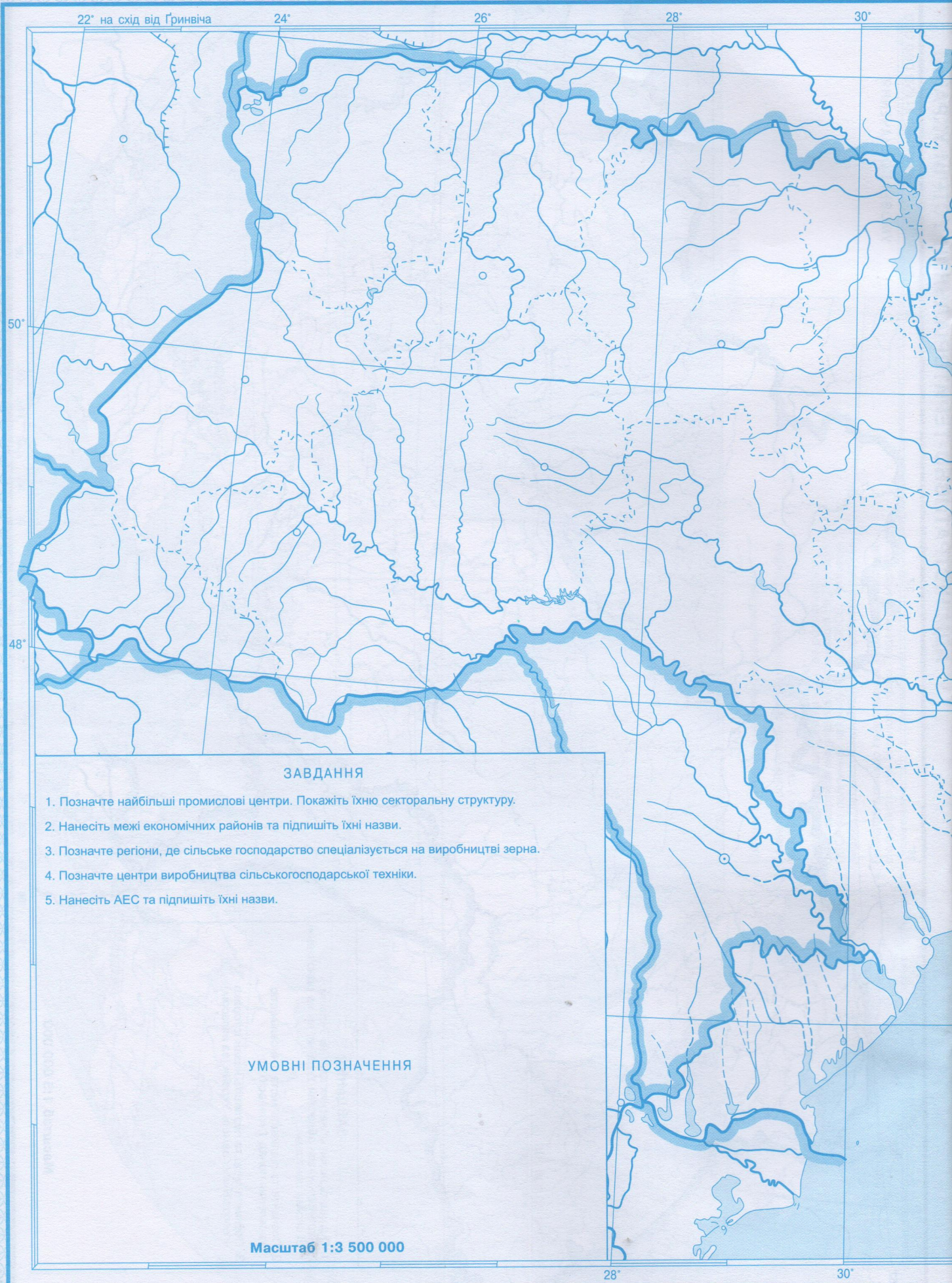
УМОВНІ ПОЗНАЧЕННЯ

ЗАВДАННЯ

1. Підлишіть материк з найбільшою кількістю країн.
2. Позначте країну, в якій проживає найбільша кількість населення у світі.
3. Позначте і підлишіть назви міст, де розміщуються штаб-квартири міжнародних організацій НАТО, ООН, ОЕСР та політичних організацій ЄС, ОБСЄ, Асоціація держав Південно-Східної Азії, Ліга арабських держав.
4. Позначте столицю європейської держави, мова якої є офіційною для більшості країн Південної Америки.







ЗАВДАННЯ

1. Позначте найбільші промислові центри. Покажіть їхню секторальну структуру.
2. Нанесіть межі економічних районів та підпишіть їхні назви.
3. Позначте регіони, де сільське господарство спеціалізується на виробництві зерна.
4. Позначте центри виробництва сільськогосподарської техніки.
5. Нанесіть АЕС та підпишіть їхні назви.

УМОВНІ ПОЗНАЧЕННЯ

Масштаб 1:3 500 000





ТРАНСПОРТНА СИСТЕМА УКРАЇНИ. МІЖНАРОДНІ ТРАНСПОРТНІ КОРИДОРИ

24° на схід від Гринвіча

28°

32°

36°

УМОВНІ ПОЗНАЧЕННЯ



ЗАВДАННЯ

1. Нанесіть основні залізничні та міжнародні автомобільні шляхи держави.
2. Нанесіть основні морські та річкові порти.
3. Нанесіть міжнародні транспортні коридори (за атласом).

Масштаб 1:5 000 000


28°

32°

36°


48°

Годинні пояси	1:160 000 000
1 Частина аркуша топографічної карти	1:25 000
2-3 Тектонічна будова та фізична поверхня світу	1:85 000 000
4-5 Фізична карта України	1:3 500 000
6 Мінерально-сировинні ресурси світу	1:120 000 000
7 Тектонічна будова та мінерально-сировинні ресурси України	1:5 000 000
8 Кліматична карта світу	1:120 000 000
9 Клімат України	1:5 000 000
10-11 Світовий океан	1:125 000 000
12 Населення світу	1:120 000 000
13 Глобальна економіка	1:120 000 000
14 Глобальна економіка	1:120 000 000
15 Транспорт світу	1:120 000 000
16 Політична карта світу	1:120 000 000
17 Адміністративно-територіальний устрій України	1:5 000 000
18-19 Господарство України. Економічне районування	1:3 500 000
20 Населення України	1:5 000 000
Транспортна система України. Міжнародні транспортні коридори	1:5 000 000



11
клас

Географічний простір Землі



РЕКОМЕНДОВАНО МІНІСТЕРСТВОМ ОСВІТИ І НАУКИ УКРАЇНИ
(лист № 1/11-5695 від 19.06.2019)

Контурні карти відповідають санітарному законодавству України
(висновок № 602-123-20-1/5859 від 20.02.2018)

ДЕРЖАВНА СЛУЖБА УКРАЇНИ З ПИТАНЬ ГЕОДЕЗІЇ, КАРТОГРАФІЇ ТА КАДАСТРУ
ДЕРЖАВНЕ НАУКОВО-ВИРОБНИЧЕ ПІДПРИЄМСТВО «КАРТОГРАФІЯ»

вул. Попудренка, 54, м. Київ-94, 02094
Свідоцтво суб'єкта видавничої справи
ДК №398 від 03.04.2001 р.

Редактори: О.В. Онищак, В. І. Остроух
Технічний редактор С.М. Полторако
Дизайн обкладинки О.В. Христенка

Формат 62x88 Умовн. друк. арк. 2,87
Зам. № 03519

Видруковано PRINTSTORE GROUP
вул. Данила Щербаківського, 4, м. Київ, 03190

©ДНВП «Картографія», 2019

ISBN 978-966-946-117-9



9 789669 461179 >