

Т. В. Воронцова, В. С. Пономаренко,
О. Л. Хомич, І. В. Гарбузюк, Н. В. Андрук



Я ДОСЛІДЖУЮ СВІТ

ЗОШИТ-ПРАКТИКУМ



ЧАСТИНА
1






2
КЛАС

Про мене

Мое ім'я _____

Дата мого народження


День	Місяць	Рік
<input type="text"/>	<input type="text"/>	<input type="text"/>

Я у  класі. У моєму класі  і .

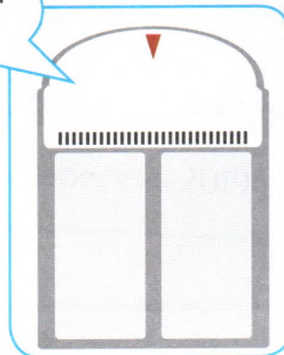
А разом нас — .

Мій зріст

(познач)



Моя вага
(впиши)



Мій улюблений предмет

Мої улюблені:

Тварина

Персонаж

Хобі

Число

Знову разом

Розпитай однокласників і заповни бінго-форму.



Запиши імена однокласників, які влітку...

відпочивали на морі

1. _____
2. _____
3. _____

відпочивали в горах

1. _____
2. _____
3. _____

відпочивали у бабусі

1. _____
2. _____
3. _____

відпочивали на дачі

1. _____
2. _____
3. _____

1. Розглянь фото дітей і познач \checkmark зміни, які відбулися з ними протягом року.



Вересень 2018 р.



Вересень 2019 р.

Зріст	\checkmark	Одяг	
Зачіска		Дата народження	
Стать		Колір очей	
Вага		Окуляри	
Кількість зубів		Ластовиння	

2. Запиши три зміни, які відбулися з тобою протягом року.

- 1) _____
- 2) _____
- 3) _____

1. Заповни таблицю числами від 1 до 100.

1		3							
									
									
									
									
									
									
									
									100

2. Запиши числа, які ховаються за шкільним приладдям.

	<input type="text"/>		<input type="text"/>		<input type="text"/>
	<input type="text"/>		<input type="text"/>		<input type="text"/>
	<input type="text"/>		<input type="text"/>		<input type="text"/>

Розв'яжи математичний пазл, заповни порожні клітинки.

1	2	3	4	5	6	7	8	9	10
11	12	13	14	15	16	17	18	19	20
21	22	23	24	25	26	27	28	29	30
31	32	33	34	35	36	37	38	39	40
41	42	43	44	45	46	47	48	49	50
51	52	53	54	55	56	57	58	59	60
61	62	63	64	65	66	67	68	69	70
71	72	73	74	75	76	77	78	79	80
81	82	83	84	85	86	87	88	89	90
91	92	93	94	95	96	97	98	99	100

27	28	29	30
			40
			50
			60
			70

43

62

74


87

93

54

Безпека на дорогах

* Допоможи автомобілю дістатися до гаража. «Збери» на його шляху літери і склади слово.



--	--	--	--	--	--	--	--	--	--

X

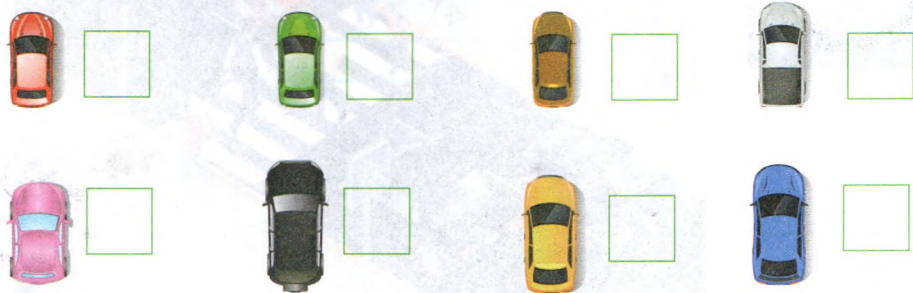


Збери»

Розглянь малюнки і поміркуй, які сигнали світлофорів бачать пішоходи у кожній ситуації.

Розфарбуй відповідні фігурки на світлофорах зеленим або червоним кольором.



Розглянь малюнок і запиши номери місць припаркованих автомобілів.



Бережемо здоров'я

1. Намалюй стрілки годинників так, щоб вони показували час, коли ти у будній день:

прокидаєшся



снідаєш



вечеряєш



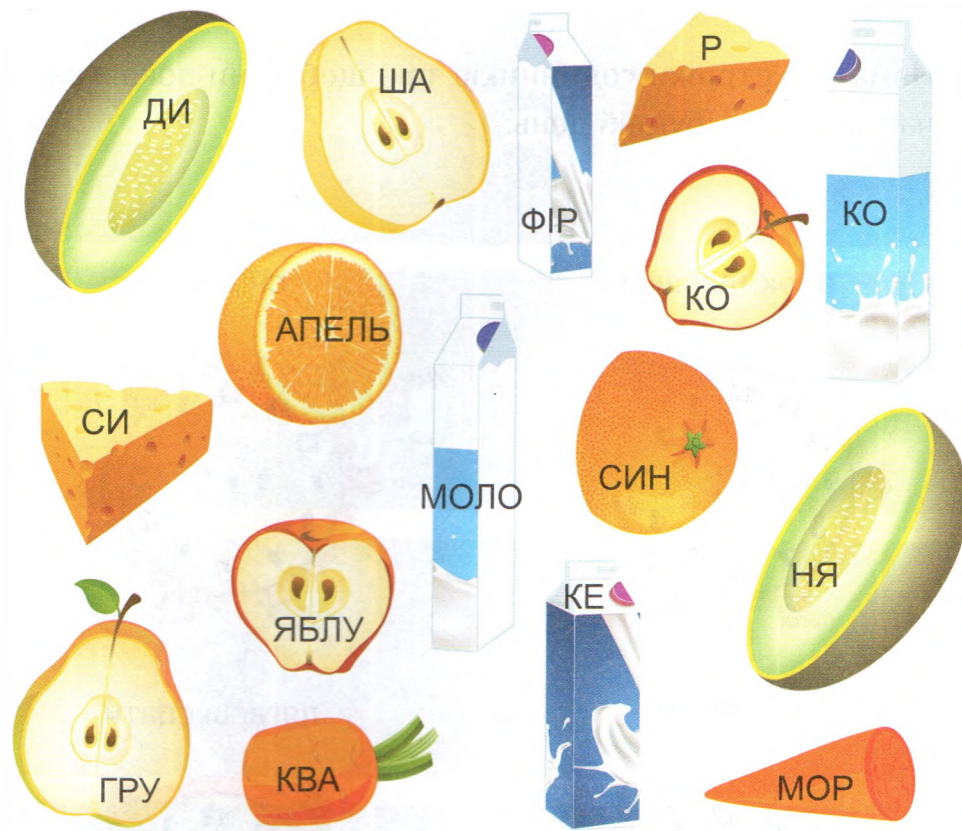
лягаєш спати






2. Полічи, скільки годин ти спиш уночі. Якщо твій сон триває менше ніж 9 годин, поміркуй, як ти можеш це виправити.

Я сплю годин на добу.

З'єднай половинки корисних продуктів. Напиши їхні назви
внизу сторінки.



З'ясуй і заповни
для сніданку

1	2	
	12	13
		23
31	32	33
	42	43
	52	53
	62	63
71	72	
81	82	
91	92	93





їхні назви

З'ясуй і запиши номери клітинок, в яких розташовані страви для сніданку.

1	2	3	4	5	6	7		10	
	12	13	14	15	16	17		19	20
		23	24	25	26	27	28	29	30
31	32	33	34		37	38	39	40	
	42	43	44		47	48	49	50	
	52	53	54	55	56	57	58		
	62	63	64	65	66	67		70	
71	72			75	76	77	78	79	80
81	82			85	86	87	88	89	90
91	92	93	94	95	96		98	99	100



11	
21	22













--

Щодня з'їдай п'ять різних овочів і фруктів та заповнюй табличку відповідними малюнками.

П'ять овочів і фруктів щодня

понеділок					
вівторок					
серeda					
четвер					
п'ятниця					
субота					
неділя					



Щодня з'їдай три порції молочних продуктів і заповнюй табличку відповідними малюнками.

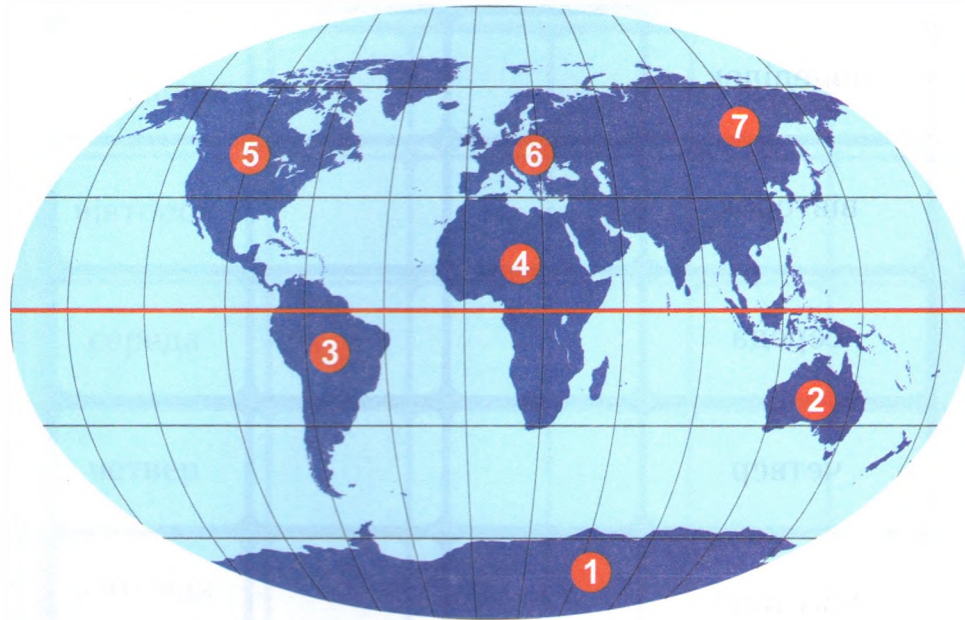
Три молочні продукти щодня

понеділок			
вівторок			
серeda			
четвер			
п'ятниця			
субота			
неділя			



Наша планета Земля

Розшифруй назви континентів. Пронумеруй їх відповідно до карти.



- ЯІЗА _ _ _ _
- РФАКИА _ _ _ _ _
- НТАРАКТИАД _ _ _ _ _
- ПОАРЄВ _ _ _ _ _
- ВАТСРІАЯЛ _ _ _ _ _
- ІПДВНЕНА ЕМАІАКР _ _ _ _ _
- ВІЧПНАНІ РАІМЕАК _ _ _ _ _

Запиши

Континент

№ 3

Північний

Американський

3

Південний

Американський

2. За прикладом

1) Північний

2) _____

3) _____

4) _____

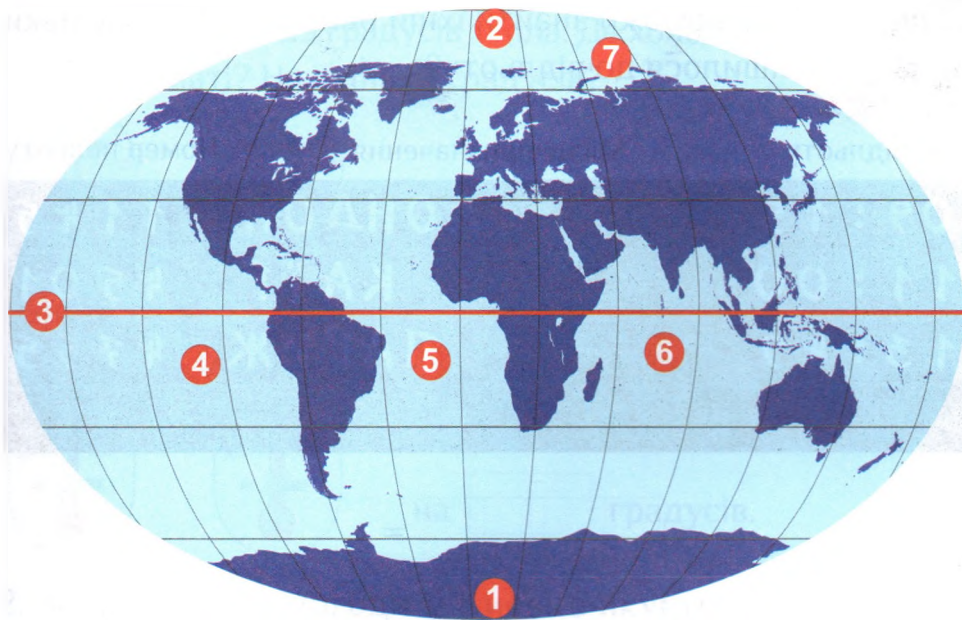
5) _____

6) _____

7) _____

Підказка:
Північний
Індійський

Запиши назви об'єктів, позначених на карті.



- 1) *Південний полюс* _____
- 2) _____
- 3) _____
- 4) _____
- 5) _____
- 6) _____
- 7) _____


Підказка: ~~Південний полюс~~, Північний полюс, екватор, Північний Льодовитий океан, Атлантичний океан, Індійський океан, Тихий океан.

1. Михайлик з татом збирається у подорож до Єгипту. Вони прибули до аеропорту о 9-й годині, щоб вилетіти до Каїра. Допоможи знайти їхній рейс на табло. Скільки часу залишилося до відльоту?

Час відльоту	Місце призначення	Номер польоту
09:15	ЛОНДОН	1145
11:00	КАЇР	4501
13:49	ПАРИЖ	4755

				=	
--	--	--	--	---	--

2. Познач Х їхні місця на схемі літака.



Головне про Африку

1. Розфарбуй Африканський континент.



2. Встав пропущені слова.

Найбільша пустеля світу — _____

Найбільша наземна тварина світу — _____

Найвища тварина планети — _____

Найпрудкіша тварина на Землі — _____

ГЕПАРД АФРИКАНСЬКИЙ СЛОН САХАРА ЖИРАФА

1. Домалю
2. Встав пр

тварина

Я вмій

стоячи

Моє дитя
називає

Я маю чуд

ЗІР

1. Домалюй плями на тілі жирафи та розфарбуй її.
2. Встав пропущені слова.



ЗІР ТЕЛЯ ЯЗИКА НОГИ СПАТИ
НАЙВИЩА ФІОЛЕТОВОГО

Знайди у таблиці наведені нижче слова та обведи їх.



ГОРИЛА

БЕГЕМОТ

ОАЗА

ДЮНИ

ДЖУНГЛІ

МАРЕВО

ВЕРБЛЮД

ЖИРАФА

САХАРА

САВАНА

ЛЕВ

БУЙВІЛ



ГЕПАРД

ПУСТЕЛЯ


СЛОН

СТРАУС

1. Полічи та запиши.

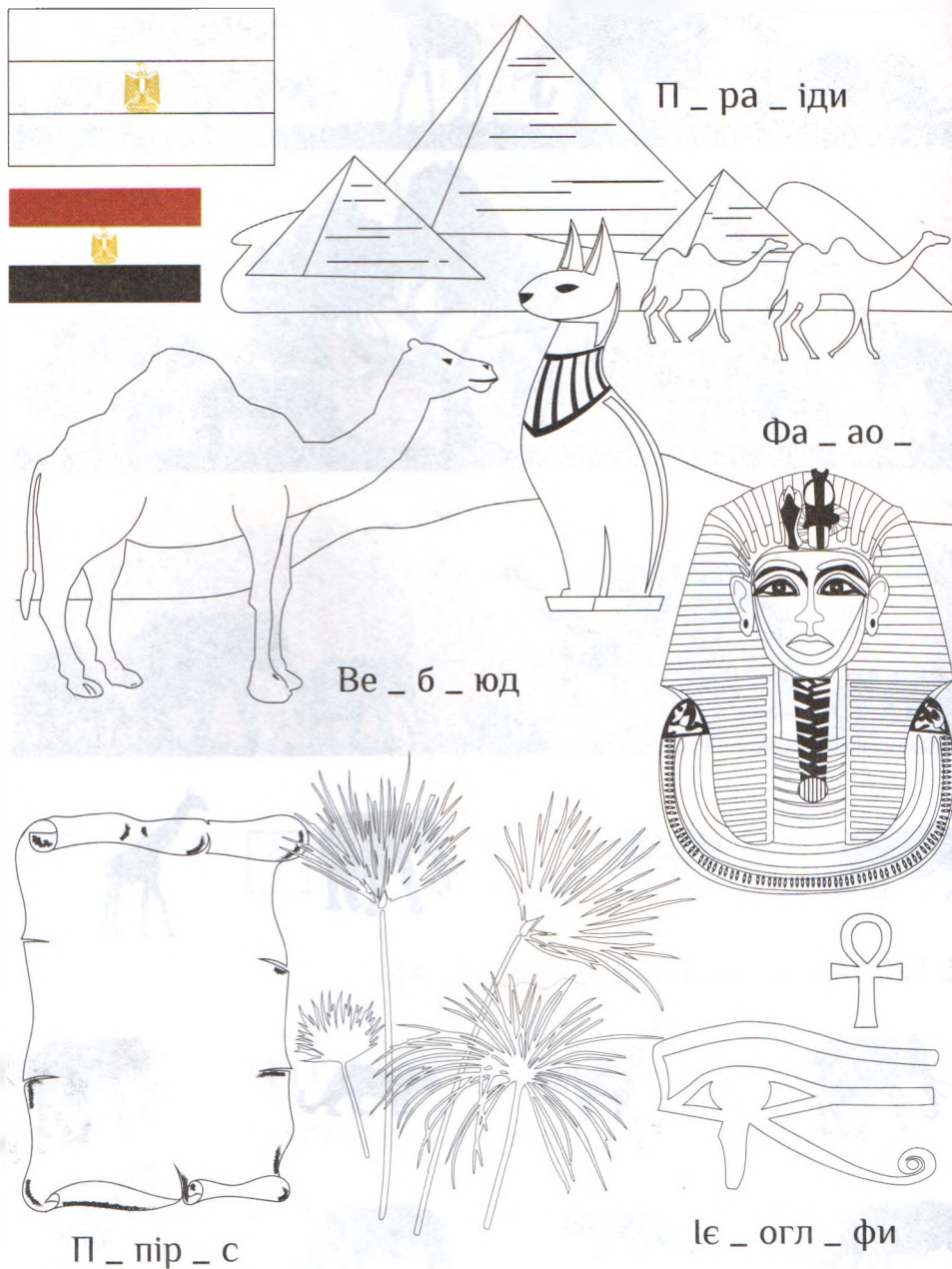


2. Постав відповідний знак (<, >, =).

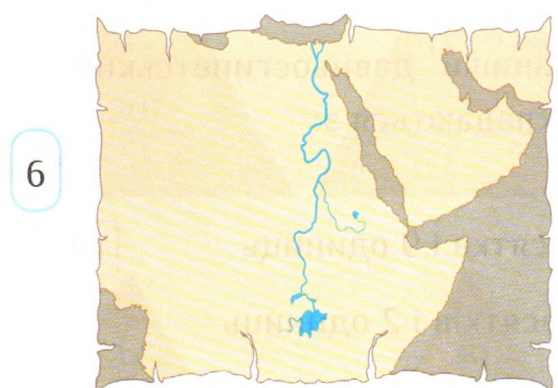



Стародавній Єгипет

Встав пропущені букви і розфарбуй символи Єгипту.



Розгадай кросворд і прочитай у блакитному стовпчику, як називали царя Стародавнього Єгипту.



Підказка: Ніл, папірус, саркофаг, картуш, ієрогліф, піраміда.

Підказка: I – 1; П – 10; Ф – 100

1. Запиши числа давньоєгипетськими цифрами і навпаки.

40 11 20

ПППІІІІ ПППП ППППППІІІІІІ

2. Постав відповідні знаки (<, >) між числами.

ПІІІІІ ПП ПППІ ПППП Ф І

ППІІІІ ППІІ ІІІІ П ППП ППІІІІІІ

3. Запиши давньоєгипетськими цифрами числа, які складаються з:

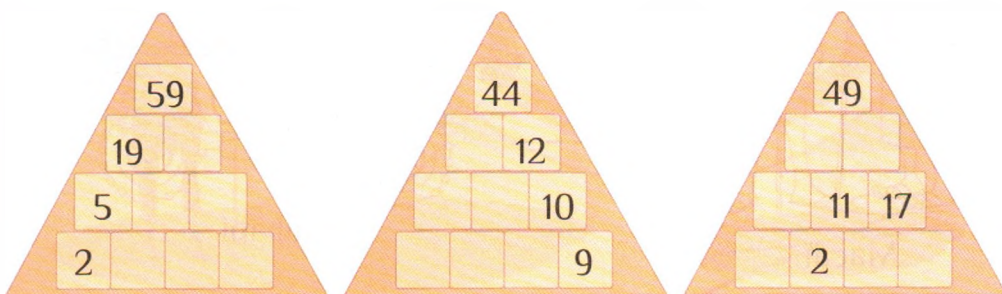

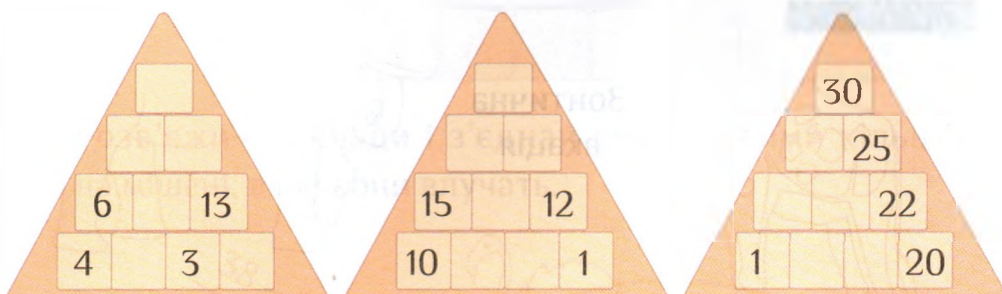

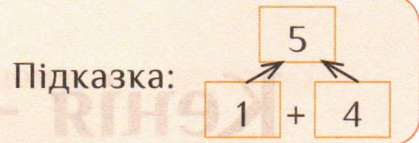
1 десятка і 9 одиниць

3 десятків і 2 одиниць

4 десятків і 5 одиниць



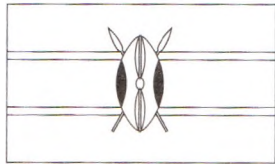
7 десятків і 3 одиниць

* Розв'яжи математичні піраміди.




Кенія — земля масаїв


Встав пропущені слова і розфарбуй символи Кенії.



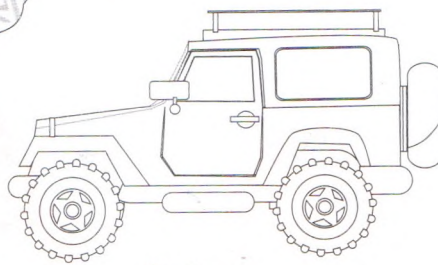
Зонтична
акація



Фламінго

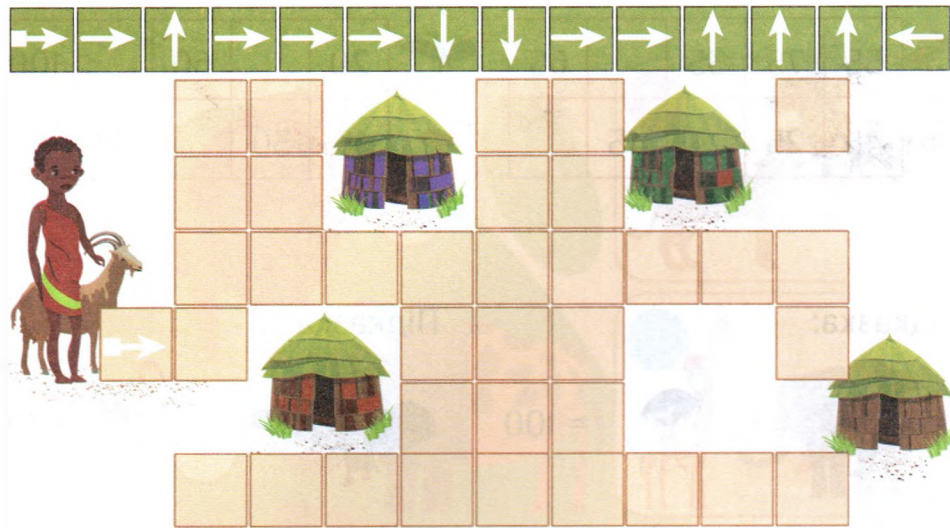


Масаї




Сафарі

1. Допоможи Нарісі дістатися до свого дому.





2. Розв'яжи приклади і з'єднай списи з тими кільцями на мішені, в які вони влучають.



1. Встав у таблиці пропущені числа.

	55	75	35		65
+					
	45	25		45	

	20		60		100
-					
	10	30		70	









Підказка:

 +  = 100

Підказка:

 -  = 10

2*. Розв'яжи математичний ребус. Запиши результати у порожні клітинки.

			8
			8
			9
15	6	4	← Сума

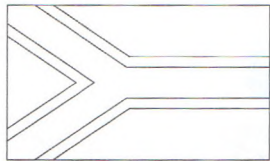


Визнач, які пари тварин поєднані між собою. Замалюй кружечки відповідним кольором на малюнку зліва.



Південна Африка і Мадагаскар

Розшифруй слова і розфарбуй символи Південної Африки.



усСтра

--	--	--	--	--	--



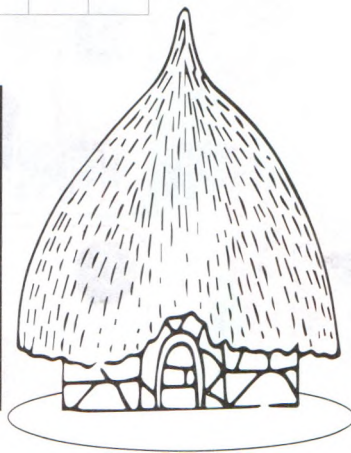
мурЛе

--	--	--	--	--	--

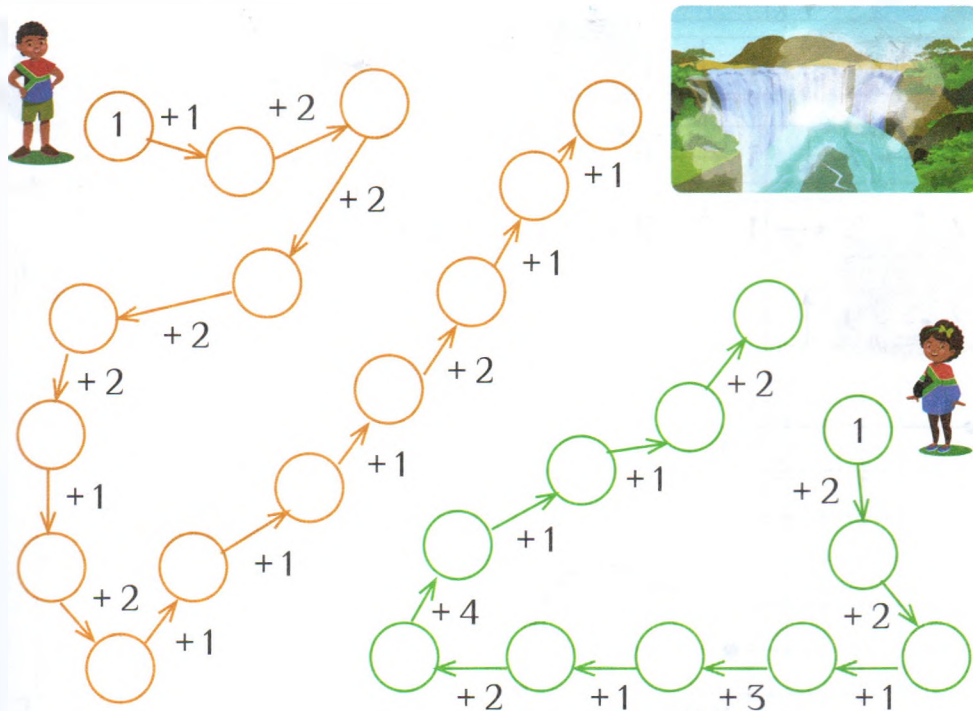


бабБао

--	--	--	--	--	--	--	--



1. Роз'яжи приклади і допоможи дітям дістатися водоспаду Вікторія.


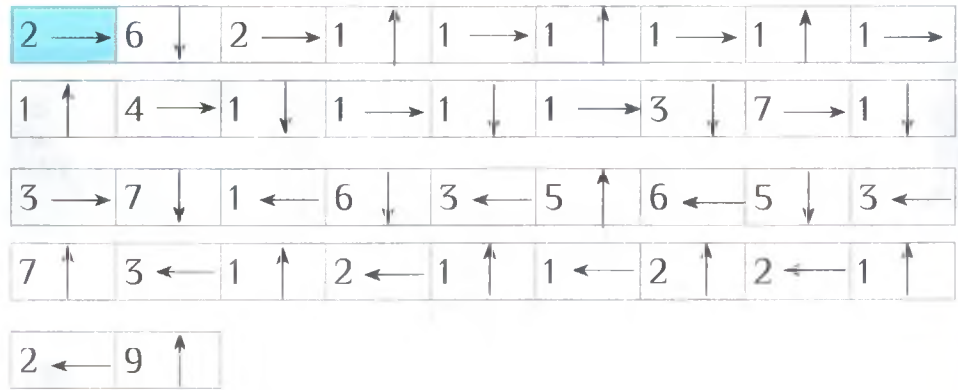


2. Потренуйся додавати і віднімати в межах 20. Заповни таблички.




+	12	8	11	9	5
1	13	9			
7	19	15			
3					
4					
8					

-	18	15	20	14	10
5	13	10			
8	10	7			
6					
4					
9					


Намалюй малюнок за допомогою підказок. Розфарбуй його.




1. Розгадай кросворд — і ти дізнаєшся, які тварини належать до «Великої п'ятірки».

2.  2.  3.  4.


1. Б І

1.  5. С Р

4. Г

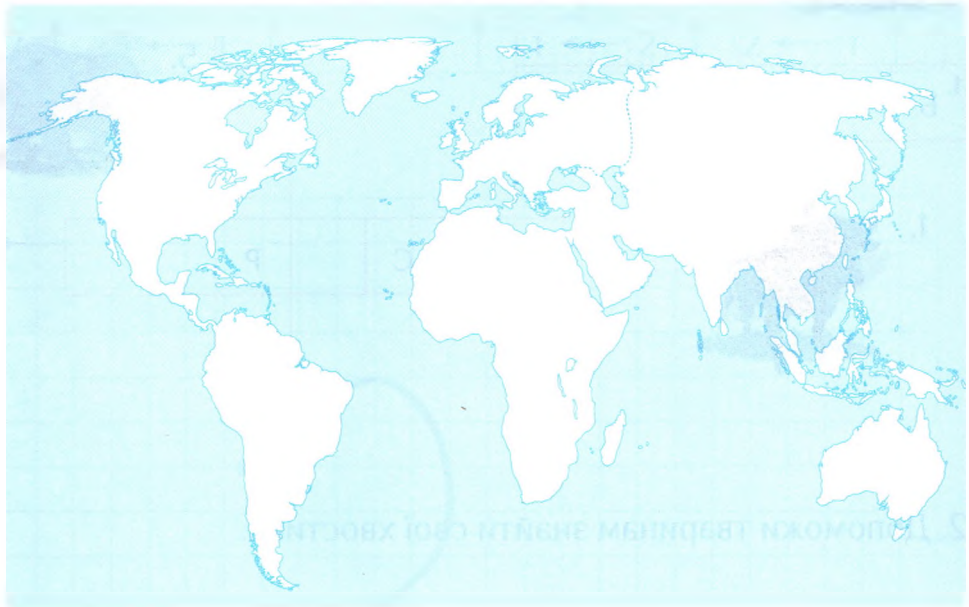
5. 

2. Допоможи тваринам знайти свої хвостики.



Головне про Азію

1. Розфарбуй Азійський континент.



2. Встав пропущені слова.

Найбільший континент планети — _____

Найвищі гори у світі — _____

Вершину Еверест ще називають — _____

Найглибше прісне озеро — _____

БАЙКАЛ АЗІЯ ДЖОМОЛУНГМА ГІМАЛАЇ

Знайди у таблиці наведені нижче слова та обведи їх.



ГІМАЛАЇ

ПАВИЧ

ПАГОДА

БАЙКАЛ

ТИГР

ПРЯНОЩІ

ЕВЕРЕСТ

КОБРА

ДРАКОН

АЛЬПІНІЗМ

ІНДІЯ

РИС

КИТАЙ

САКУРА

БАМБУК

ПАНДА

ЯПОНІЯ

КІМОНО

Встав пропущені слова. Розфарбуй малюнок.

Я

за африканського
слона.

Маю
чудовий
_____.


слугують мені
віялом.

Змінюю

6–7 разів за життя.

За допомогою

поливаю спину водою
від перегрівання.



НЮХ МЕНШИЙ ЗУБИ ХОБОТА ВУХА

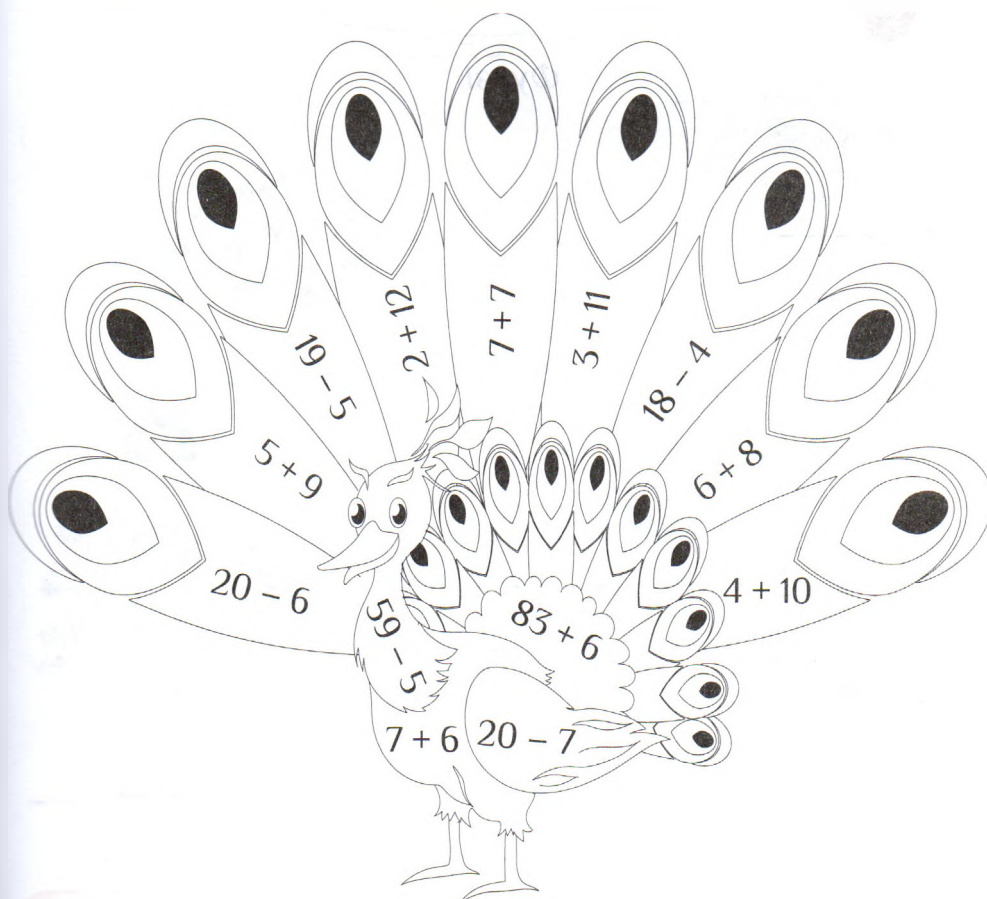
Розв'яжи приклади. Результат підкаже, яким кольором слід розфарбувати кожен елемент малюнка. Решту елементів розфарбуй на свій смак.

13 

54 

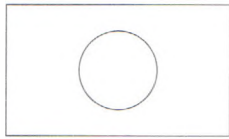
14 

89 

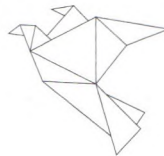

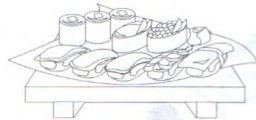


Подорож до Японії та Китаю

Підпиши і розфарбуй символи Японії.





Фудзі



Підказка: ~~Фудзі~~, сумо, робот, сакура, кімоно, бонсай, суші, пагода, оригамі.





Підпиши і розфарбуй символи Китаю.











Підказка: кунг-фу, рис, небесний ліхтар, панда, дракон, Великий китайський мур, чайна церемонія.





Полічи панд і виправ помилки у нерівностях.




 ○
  ○
  ○
  ○

 \neq 
  $<$ 

 $>$ 
  $<$ 

 $<$ 
  $<$ 

1. Розфарбуй дракона.



Дракон — це фантастична істота, яку шанують у Китаї. За легендами, дракони контролюють погоду і символізують силу, удачу та стійкість.

2. Прочитай інформацію в рамочці і дай відповіді на запитання.

Дракон — це

реальна істота

фантастична істота

Великий шовковий шлях

Розв'яжи задачі.

1. Перший верблюд випив 42 л води, а другий на 12 л менше. Скільки літрів води випив другий верблюд?



$$\square \square \square \square = \square \square$$

2. Великим шовковим шляхом йшов караван верблюдів. За перший день караван пройшов 9 км, за другий — на 2 км більше. А третього дня на 4 км менше, ніж другого. Скільки кілометрів шляху пройшов караван за три дні?

1) $\square \square = \square \square$ 2) $\square \square \square = \square \square$

3) $\square \square \square \square = \square \square$



- 3*. У каравані є 4 верблюди, які несуть вантаж. Весь вантаж важить 56 кг. Перший і другий верблюди несуть порівну — 30 кг на двох. Третій верблюд несе на 4 кг більше, ніж другий. А четвертий несе решту вантажу. Скільки кілограмів вантажу несе кожен верблюд?

1) $\square \square \square = \square \square$

2) $\square \square \square = \square \square$

3) $56 - \square - \square = \square$

Відповідь:

1-й верблюд несе $\square \square$ кг.

2-й верблюд несе $\square \square$ кг.

3-й верблюд несе $\square \square$ кг.

4-й верблюд несе $\square \square$ кг.

1. Розв'яжи приклади. Розшифруй назви континенту, країни та її столиці за допомогою коду.

0	1	2	3	4	5	6	7	8	9	10
А	Б	В	Г	Ґ	Д	Е	Є	Ж	З	И
11	12	13	14	15	16	17	18	19	20	21
І	Ї	Й	К	Л	М	Н	О	П	Р	С
22	23	24	25	26	27	28	29	30	31	32
Т	У	Ф	Х	Ц	Ч	Ш	Щ	Ь	Ю	Я

5 - 5	18 - 9	5 + 6	25 + 7
0			
А			


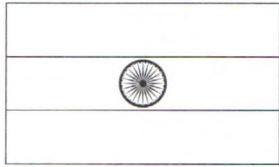
20 - 9	12 + 5	27 - 22	7 + 4	38 - 6

13 + 4	60 - 30	52 - 21	-	1 + 4	17 - 11	1 + 14	34 - 23
			-				
			-				

2. Зафарбуй цей континент на карті.



Розшифруй і розфарбуй символи Індії.




ригТ

--	--	--	--



іСаp

--	--	--	--



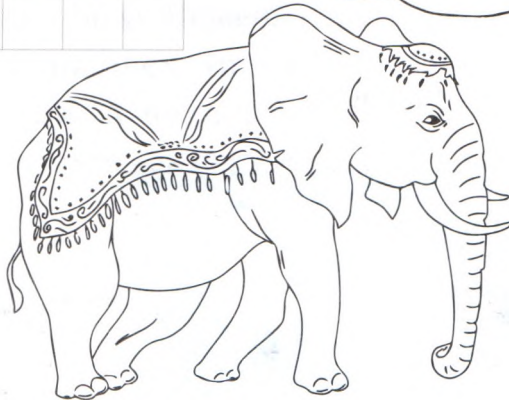
иачПв

--	--	--	--



обКаp

--	--	--	--



йдіІнкисьй лонс

--	--	--	--	--	--



сЛоот

--	--	--	--

--	--	--	--

1. Роз

3 4 -

5 8 -

3 1 -

6 2 -

5

5

2. Роз

відп

бирІм

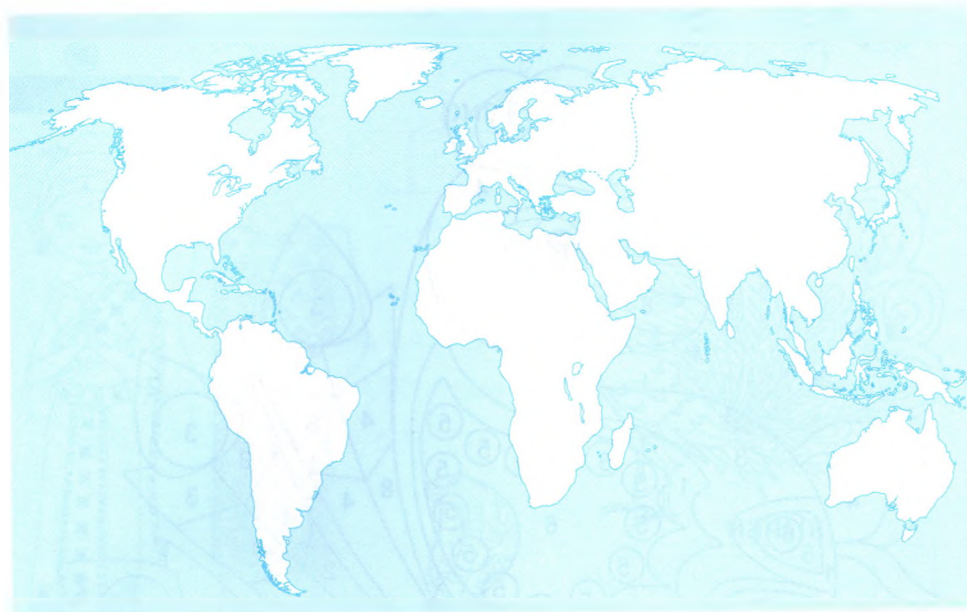
риКои

нийЧо

дизГв

Головне про Європу

1. Розфарбуй Європейський континент.



2. Встав пропущені слова.

Найбільша держава на території Європи — _____

Найменша держава світу — _____

Континент із найбільшою густиною населення — _____

ВАТИКАН УКРАЇНА ЄВРОПА

Знайди у таблиці наведені нижче слова та обведи їх.



ПІЦА

ЄВРОПА

ПОЛЬЩА

ФІОРД

ЧЕХІЯ

ЄВРОСОЮЗ

ГРЕЦІЯ

СПІЛЬНОТА

УКРАЇНА

ІСПАНІЯ

АЛЬПИ

КЛОМПИ

ФІНЛЯНДІЯ

ФРАНЦІЯ

ВІТРЯК

1. Встав пропущені слова.

2. Розв'яжи приклади. Результат підкаже, яким кольором слід розфарбувати кожен елемент малюнка.

15



46

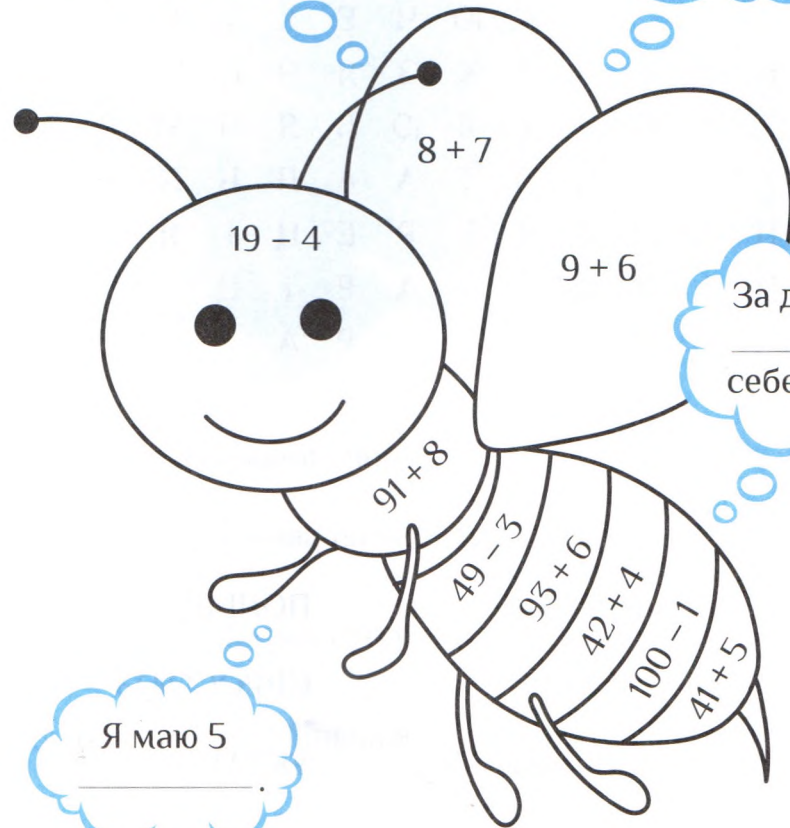


99



За допомогою
_____ захищаю
себе і нападаю в разі
небезпеки.

Я відчуваю
_____ квітів за кілометр.



За допомогою
_____ я чищу
себе від пилку.

Я маю 5
_____.

ЛАПОК АРОМАТ ОЧЕЙ ЖАЛА

1. Розглянь родинне дерево Даринки і пронумеруй її родичів.

- 1) тітка; 2) мама; 3) дідусь;
4) тато; 5) бабуся; 6) брат;
7) дядько; 8) кузина.

Сім'я Даринки

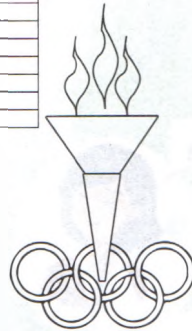




2. Продовж речення.

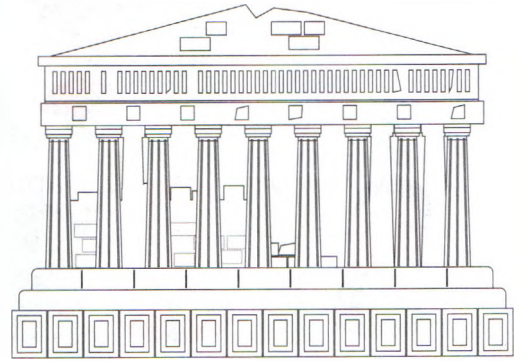
- 1) Марина для Оксани є _____
2) Віктор є Ользі _____
3) Дарина називає Ольгу _____
4) Даринка називає мамою _____

Вивчаємо історію Південної Європи

Розфарбуй символи Греції та виклади прапор із цеглинок лего.



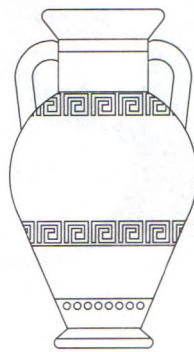
Олімпійський вогонь



Храм



Ліра



Амфора

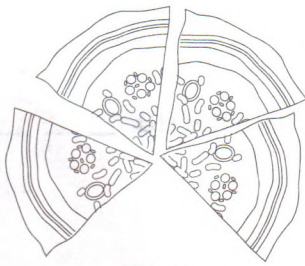


Олива




Хітон

Розфарбуй символи Італії та виклади прапор із цеглинок лего.



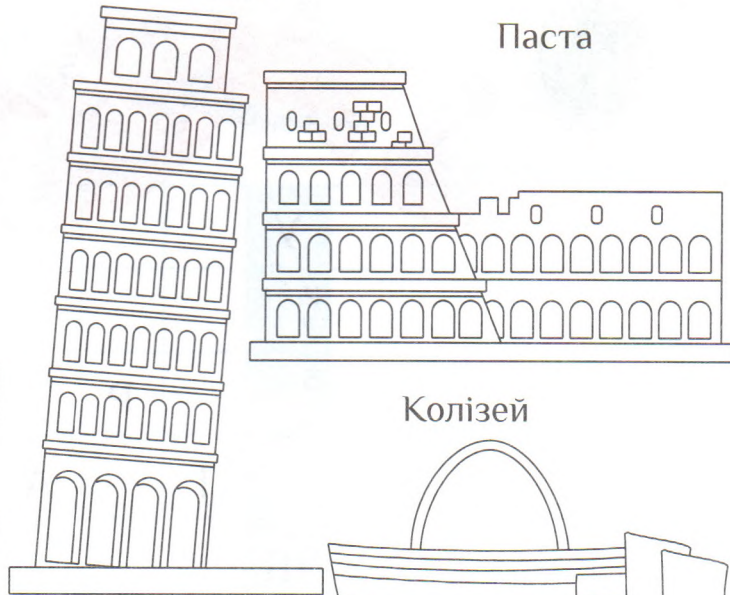
Піца



Паста

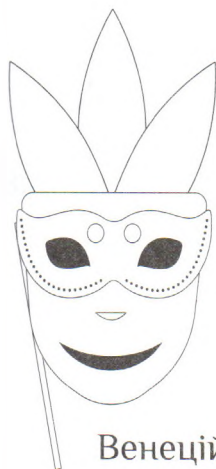


Футбол




Колізей

Пізанська вежа



Венеційський
карнавал



Мода



Гондóла


1. Розгадай кросворд і прочитай слово, яке утворилося по вертикалі.
2. Допиши його в назві кросворда. Як ти думаєш, чому він так називається?

Кросворд «Білосніжна _ _ _ _ _»



рилося
ому він

Олег запросив 11 гостей на свій день народження. Він замовив 2 піци, адже знає, що кожен захоче шматочок. Скільки гостей зможуть пригоститися другим шматочком піци?



--	--	--	--	--	--	--	--


А

Відповідь: _____



Пам'ятки Центральної Європи

Розшифруй слова і розфарбуй символи Центральної Європи.



тгеБа

--	--	--	--





льАпи

--	--	--	--

руКасан

--	--	--	--	--





раФнція

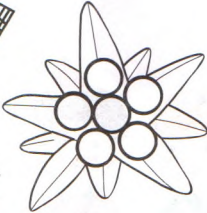
--	--	--	--	--



ломКпи

--	--	--	--





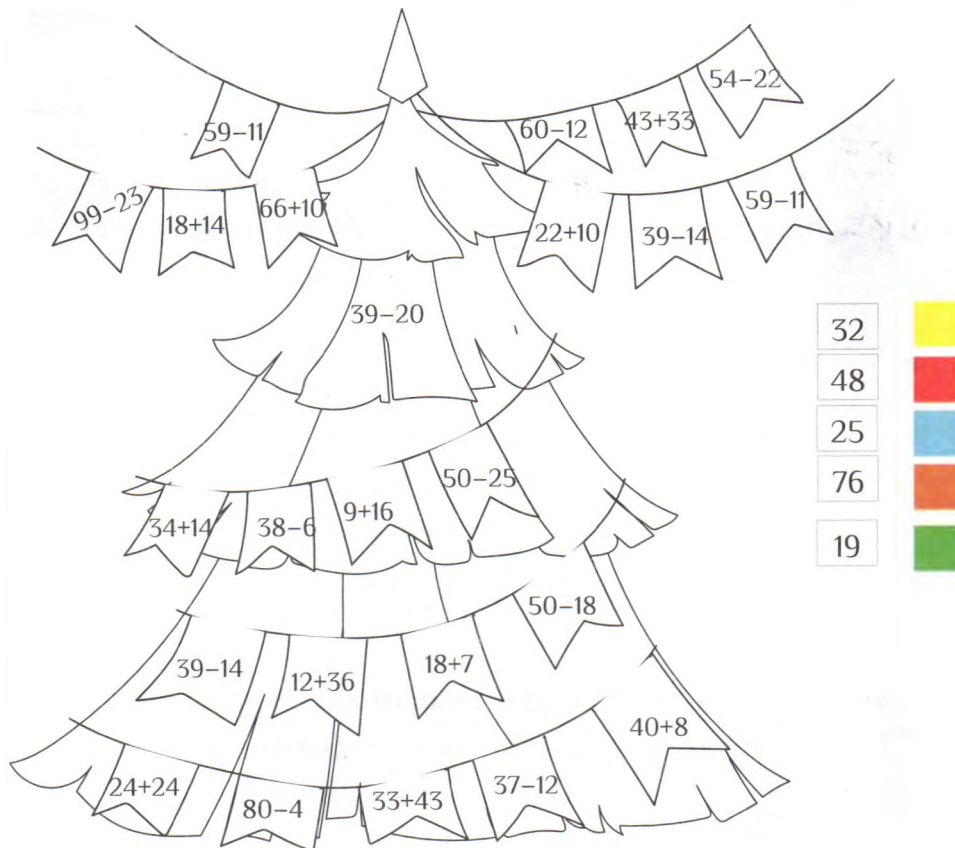
дидерНілан

--	--	--	--	--	--

льЕдевейс

--	--	--	--	--	--


1. Розв'яжи приклади. Розфарбуй малюнок.



2. Полічи прапорці кожного кольору на ялинці. Намалюй стовпчикову діаграму за зразком.



Розгадай казковий кросворд.



1. Вона врятувала друга від Снігової Королеви.
2. Вона загубила кришталеву туфельку.
3. Це взуття прославило Кота.
4. Героїня казки, яка живе під водою.
5. Ця казкова героїня має довге волосся.
6. У будинку цих маленьких чоловічків жила Білосніжка.
7. Дівчинка, яка товаришувала з ластівкою.
8. Цей персонаж перестрів Червону Шапочку в лісі.
9. Його викрала Снігова королева.

Розв'яжи задачі.

1. У виставі «Снігова королева» взяли участь Олег, Ангеліна, Марина і Матвій. Вони виконували ролі Кая, Герди, Снігової королеви, Північного оленя. Гердою була одна з дівчаток, але не Марина. Олег не Кай і не Снігова королева. Запиши, кого грала кожна дитина, якщо Снігову королеву грала дівчинка.

	Кай	Герда	Снігова королева	Північний олень
Ангеліна				
Олег				
Марина				
Матвій				

- 2*. У Попелюшки в двох мішках зерно. Після того, як з одного мішка вона висипала 6 кг зерна, в обох мішках стало по 18 кг. Скільки кілограмів зерна було в мішках спочатку?




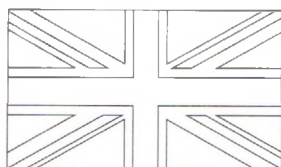
$$\square \square \square \square = \square \square \square \square$$

3. Познач смайликами правильні 😊 і неправильні ☹️ твердження.


- Кломпи — це дерев'яні ложки.
- Сода і пісок є основними компонентами скла.
- Тюльпани — квітковий символ Альп.
- Брати Грім — німецькі казкарі.

Різдво у Північній Європі


Розфарбуй символи Великої Британії.



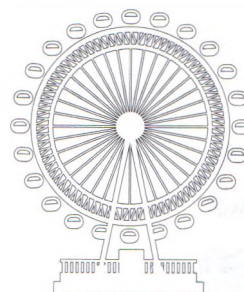
Біг-Бен




Автобус



Телефонна
кабінка



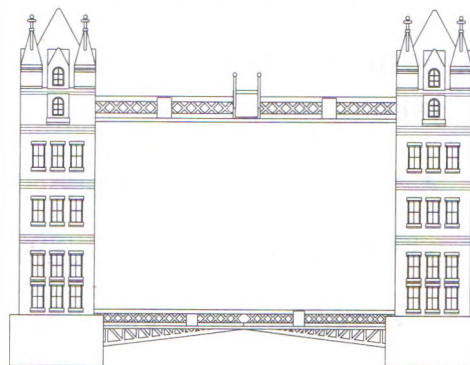
Лондонське око



Королева




Гвардієць




Лондонський міст


Розфарбуй символи Фінляндії та виклади прапор з цеглинок лего.



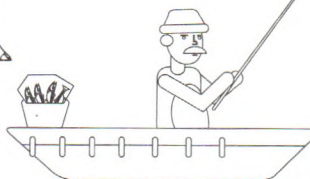
Мумі-троль



Селище
Санта-Клауса



Карибу




Риболовля



Хокей




















Фінська баня



Бурий ведмідь

Заповни порожні клітинки так, щоб у кожному рядку і стовпчику одна фігура траплялася один раз.

ЗМІСТ



Про мене.....	3
Знову разом	4
Безпека на дорогах	8
Бережемо здоров'я	11
Наша планета Земля.....	16
Головне про Африку	20
Стародавній Єгипет.....	24
Кенія — земля масаїв	28
Південна Африка і Мадагаскар	32
Головне про Азію	36
Подорож до Японії та Китаю	40
Великий шовковий шлях.....	44
Головне про Європу.....	48
Вивчаємо історію Південної Європи	52
Пам'ятки Центральної Європи	56
Різдво у Північній Європі	60