

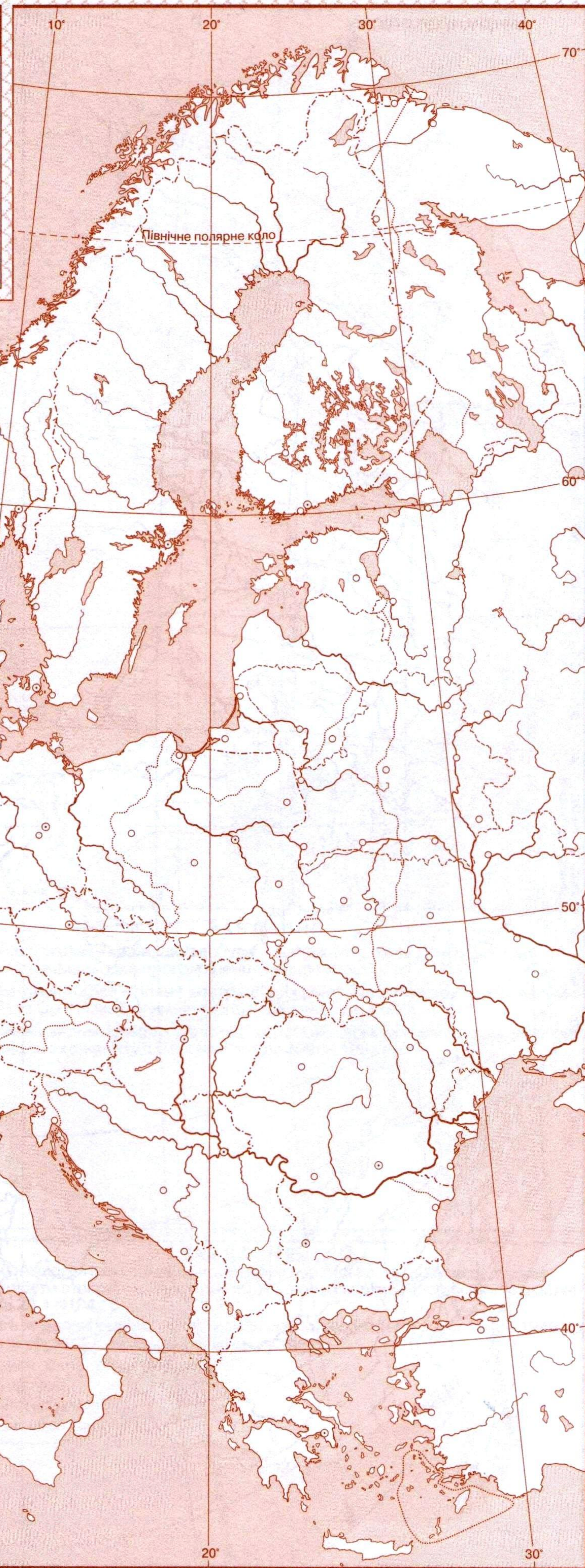
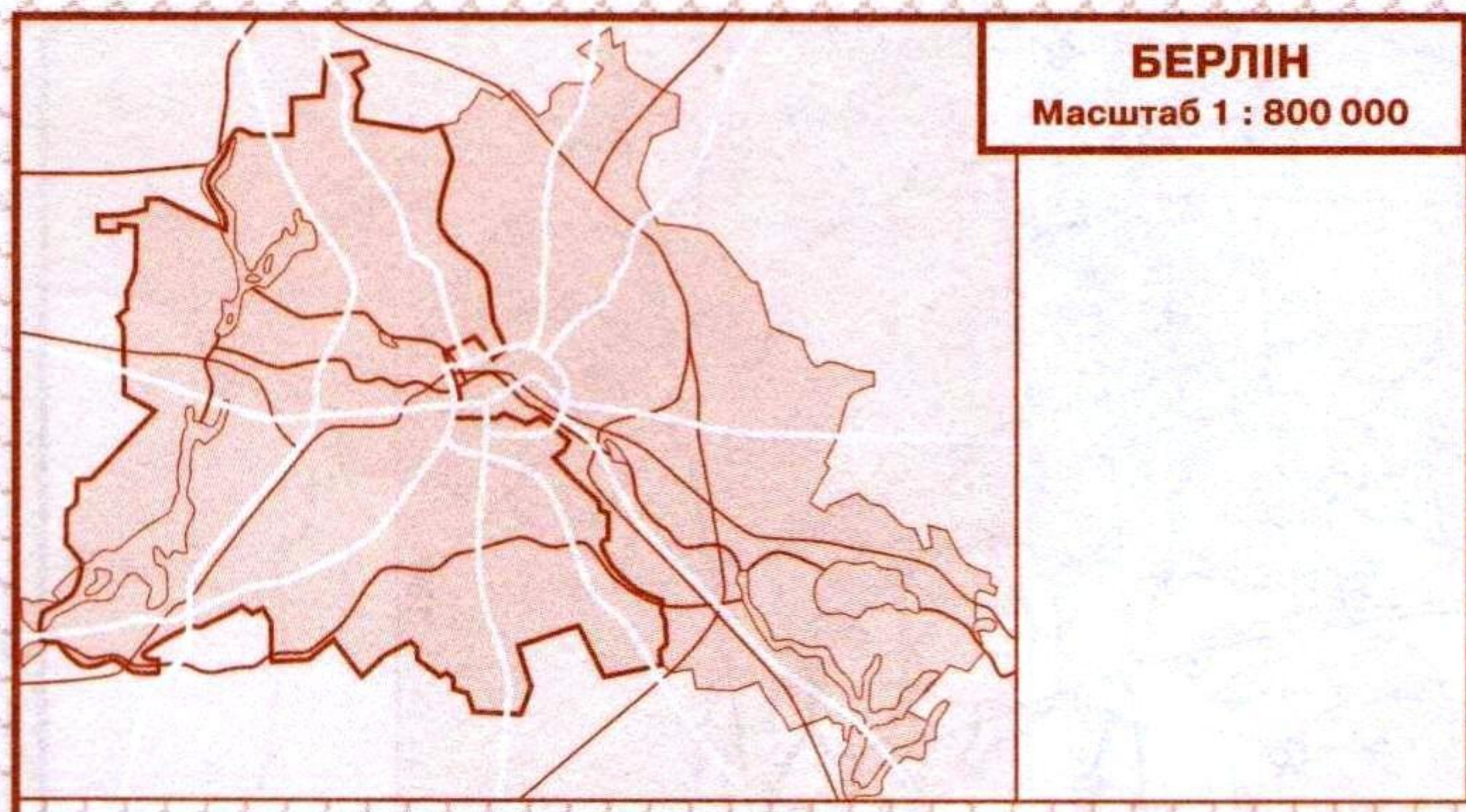
Всесвітня історія

# КОНТУРНІ КАРТКИ

## Новітня історія (середина ХХ – початок ХХІ ст.)



# ТЕРИТОРІАЛЬНІ ЗМІНИ в ЄВРОПІ за ПІДСУМКАМИ ДРУГОЇ СВІТОВОЇ ВІЙНИ



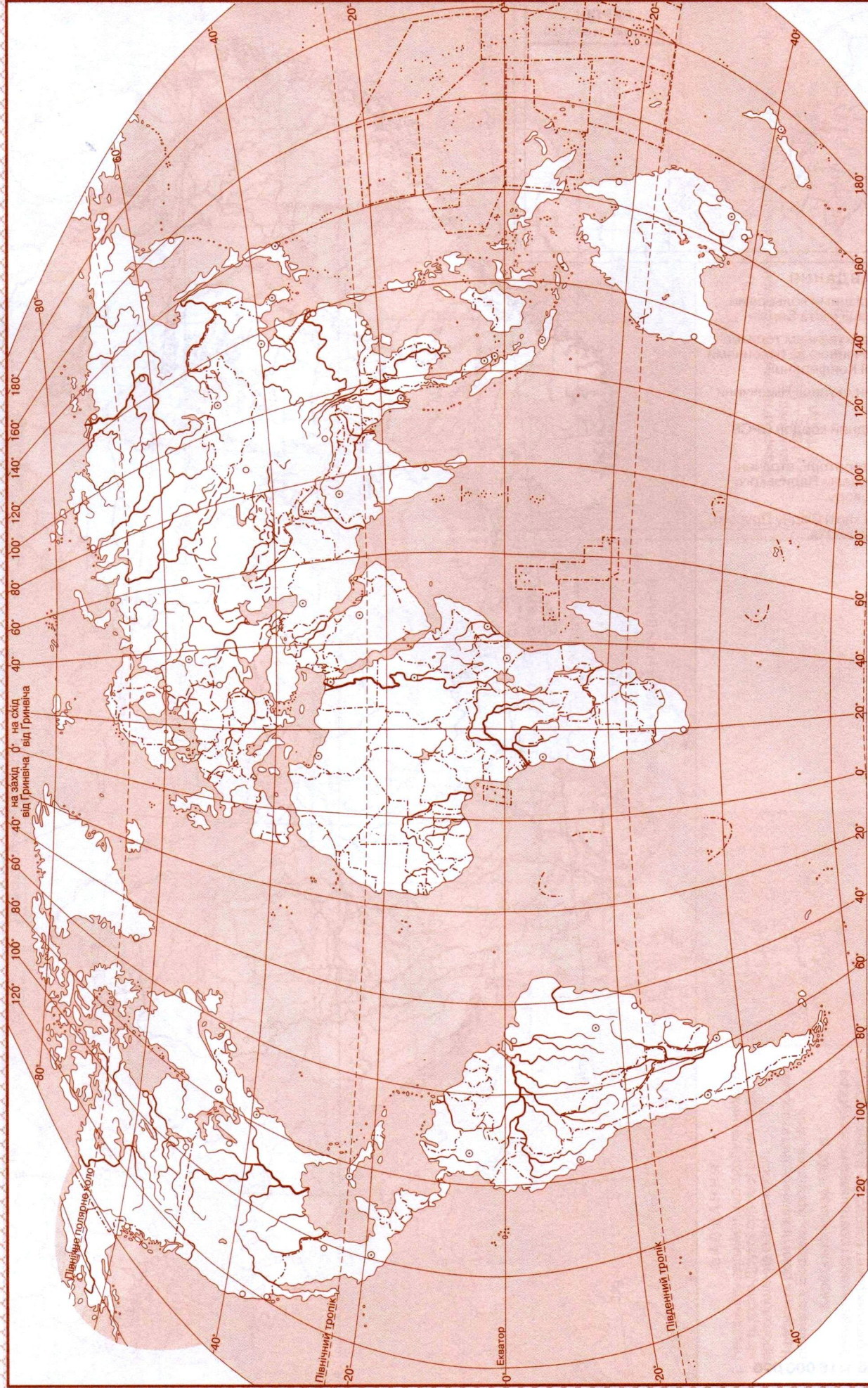
## ЗАВДАННЯ

1. Зафарбуйте різними кольорами сектори окупації міста Берлін.
2. Позначте штрихуванням території, втрачені Німеччиною за рішеннями Потсдамської Конференції.
3. Позначте зони окупації Німеччини та Австрії.
4. Обведіть західний кордон СРСР в 1947 році.
5. Зафарбуйте території, втрачені Італією за умовами Паризького мирного договору.
6. Надпишіть на карті Східну Пруссію, Силезію, Закарпаття.

Масштаб 1:16 000 000

# СВІТ ПІСЛЯ ДРУГОЇ СВІТОВОЇ ВІЙНИ (1945 – 1991 рр.)

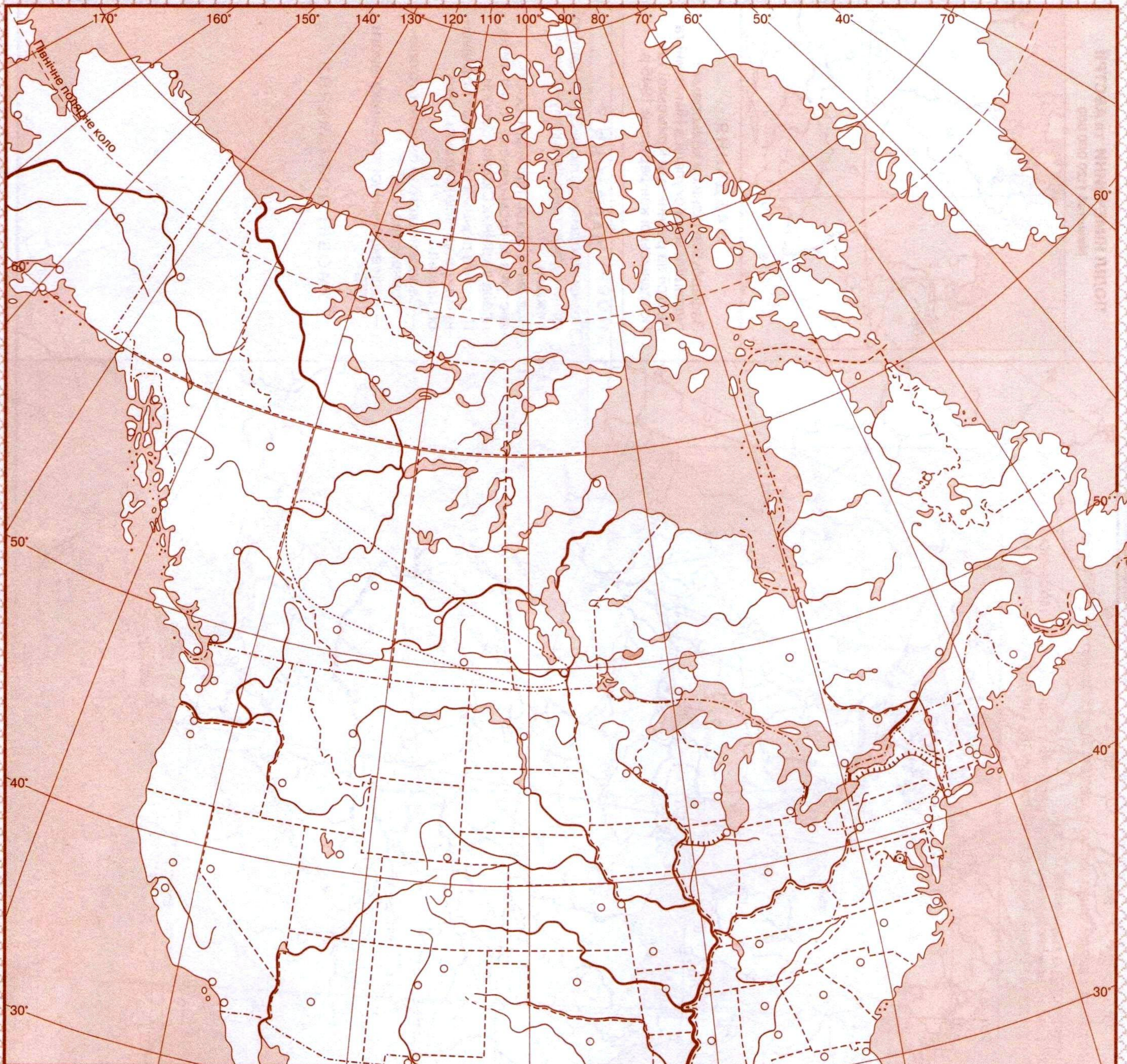
Масштаб 1:120 000 000



## ЗАВДАННЯ

1. Зафарбуйте різними кольорами території держав – учасниць держав – членів воєнно-політичних союзів:
  - НАТО;
  - Організації Варшавського договору.
2. Позначте території держав – учасниць руху неприєднання.

## УМОВНІ ПОЗНАЧЕННЯ



**ЗАВДАННЯ**

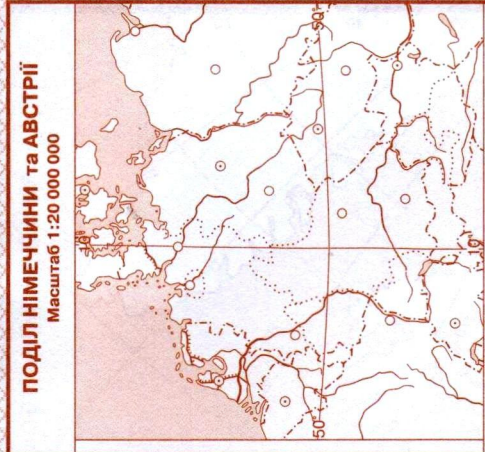
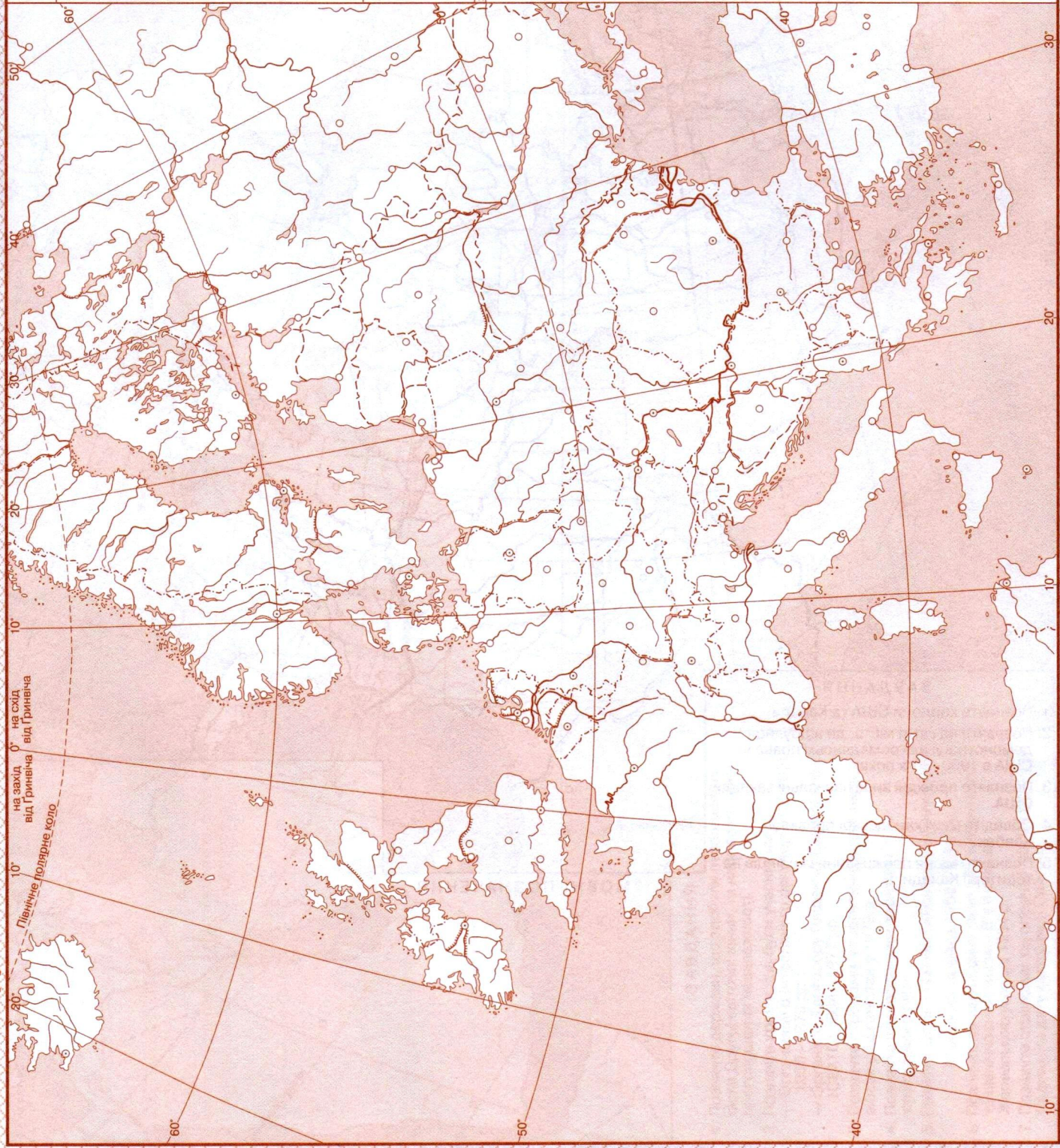
1. Позначте кордони США та Канади.
2. Позначте на карті міста, де відбулися демонстрації за громадянські права у США в 1950–60-х роках.
3. Позначте провідні вищі навчальні заклади США.
4. Обведіть межі канадської провінції Квебек.
5. Позначте місця проживання українців на території Канади.



**УМОВНІ ПОЗНАЧЕННЯ**

# 4 Європа в другій половині XX ст.

Масштаб 1:20 000 000



## ПОДІЛ НІМЕЧЧИНИ ТА АВСТРІЇ

Масштаб 1:20 000 000

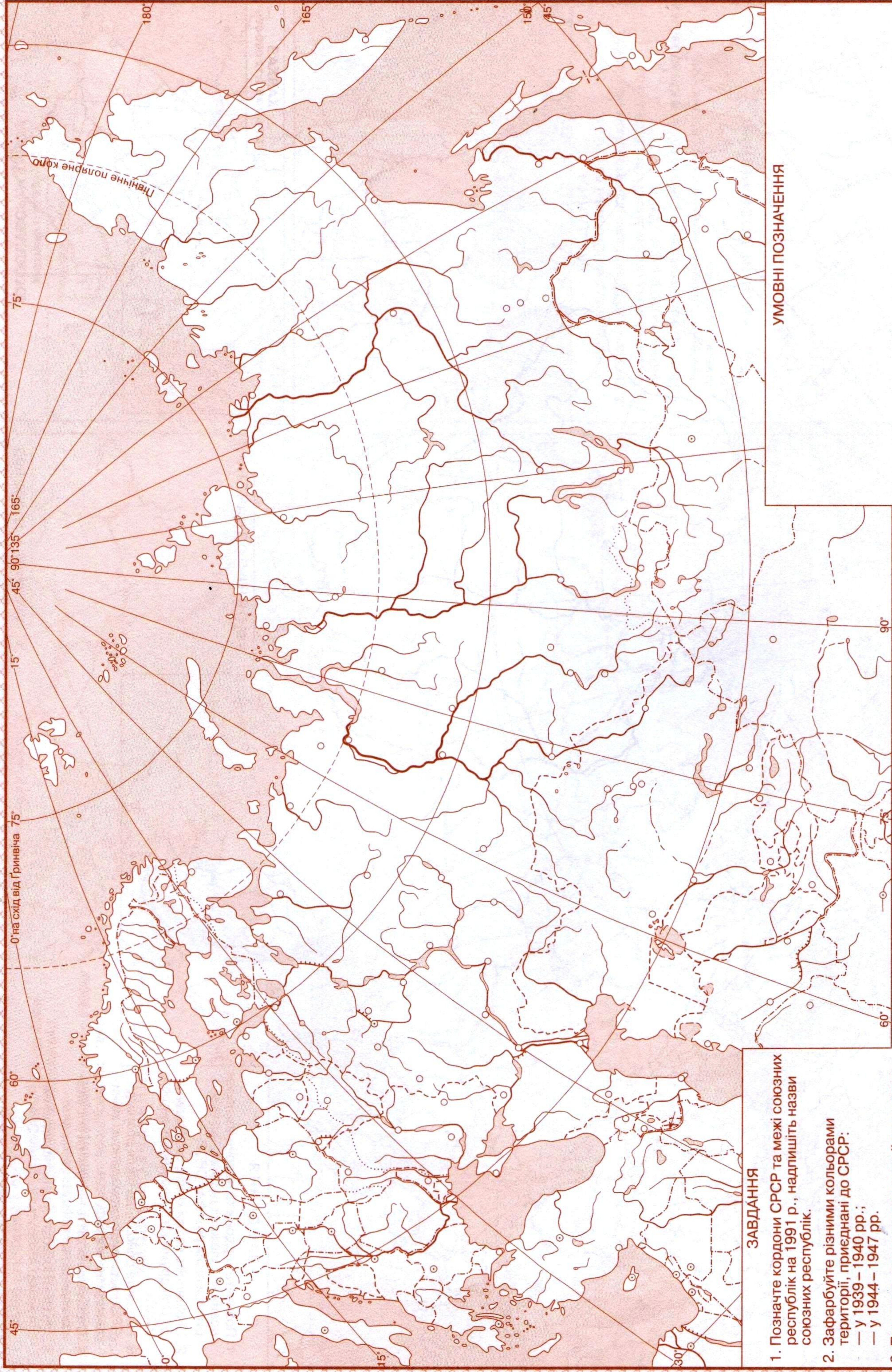
### ЗАВДАННЯ

Зафарбуйте різніми кольорами і підпишіть зони окупації в Німеччині та Австрії за рішеннями Кримської та Потсдамської конференцій 1945 р.

### ЗАВДАННЯ

1. Позначте країни, де після Другої світової війни були встановлені комуністичні режими.
2. Позначте місця і підпишіть роки виступів за громадянські та політичні права в країнах Східної Європи.
3. Позначте різніми умовними позначеннями країни-члени економічних об'єднань:
  - Європейського економічного співтовариства (ЄЕС);
  - Ради економічної взаємодопомоги (РЕВ).

### УМОВНІ ПОЗНАЧЕННЯ



**ЗАВДАННЯ**

1. Позначте кордони СРСР та межі союзних республік на 1991 р., надпишіть назви союзних республік.
2. Зафарбуйте різними кольорами території, приєднані до СРСР:  
— у 1939 – 1940 рр.;  
— у 1944 – 1947 рр.
3. Позначте штрихуванням райони, з яких масово депортували населення впродовж 1940-х років.

**УМОВНІ ПОЗНАЧЕННЯ**



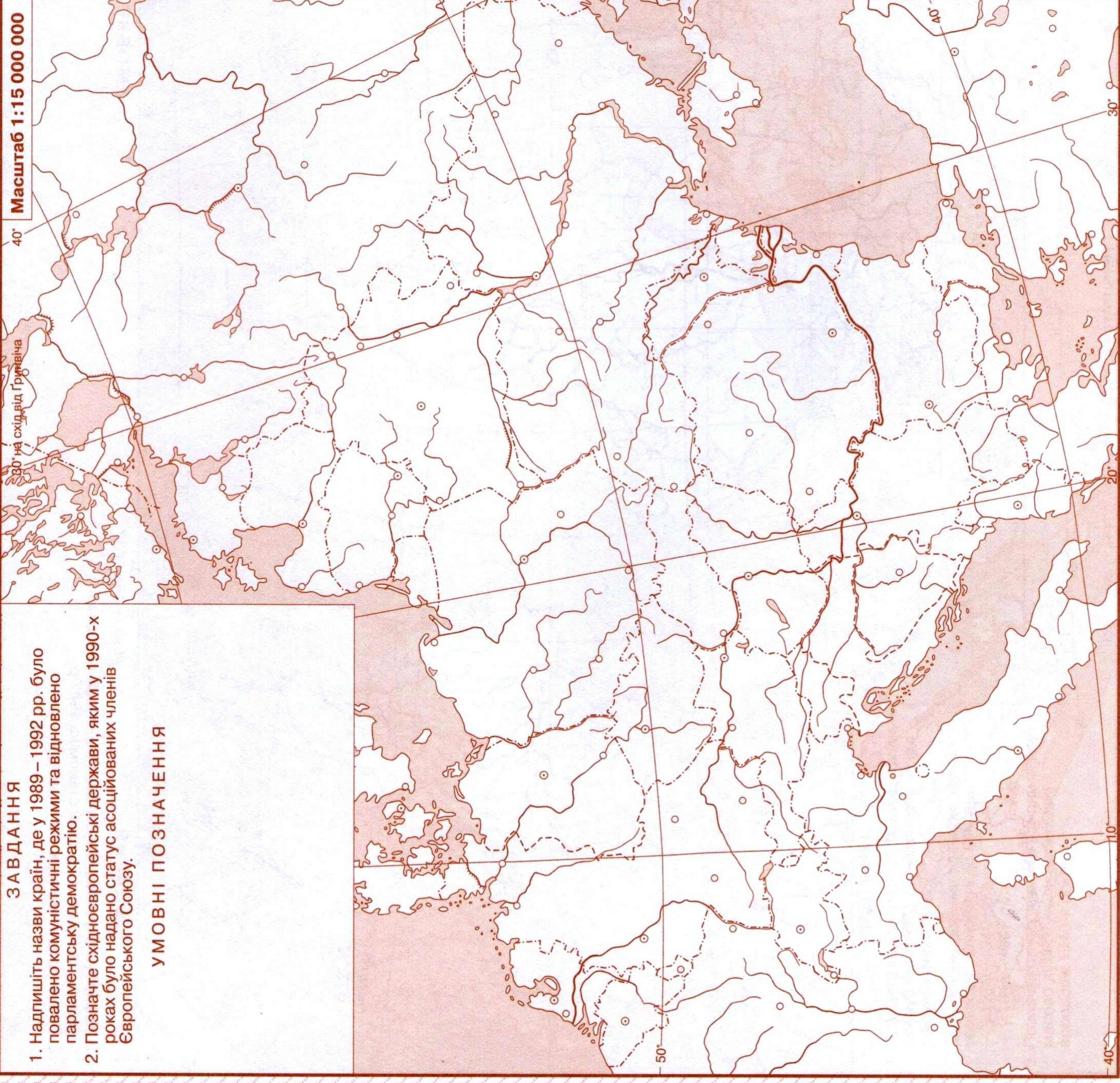
# РЕВОЛЮЦІЯ 1989 – 1992 рр. у КРАЇНАХ ЦЕНТРАЛЬНО-СХІДНОЇ ЄВРОПИ

## ЗАВДАННЯ

1. Надлишіть назви країн, де у 1989 – 1992 рр. було повалено комуністичні режими та відновлено парламентську демократію.
2. Позначте східноєвропейські держави, яким у 1990-х роках було надано статус асоційованих членів Європейського Союзу.

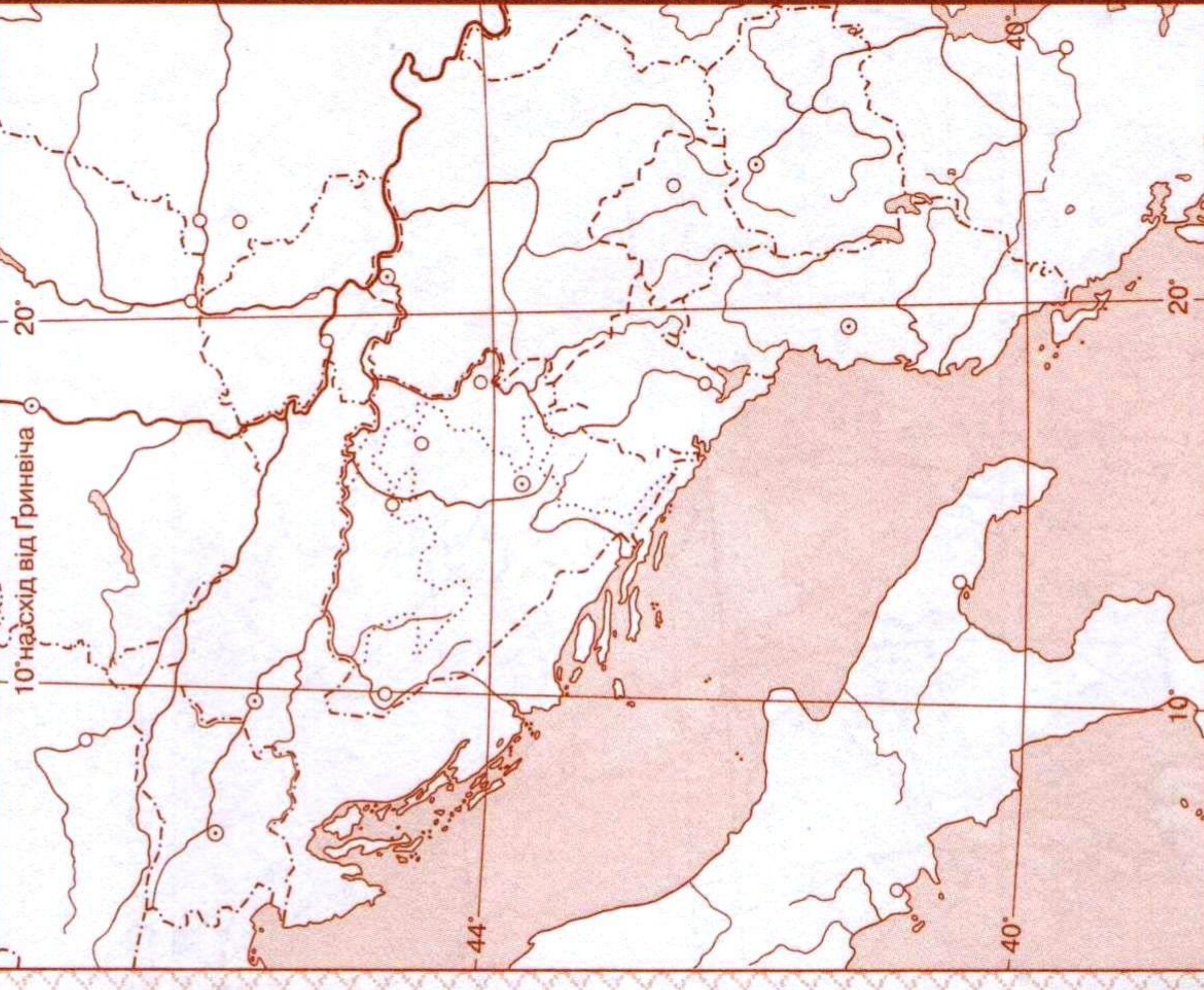
## УМОВНІ ПОЗНАЧЕННЯ

Масштаб 1:15 000 000



## ЮГОСЛАВСЬКА КРИЗА

Масштаб 1:10 000 000



## ЗАВДАННЯ

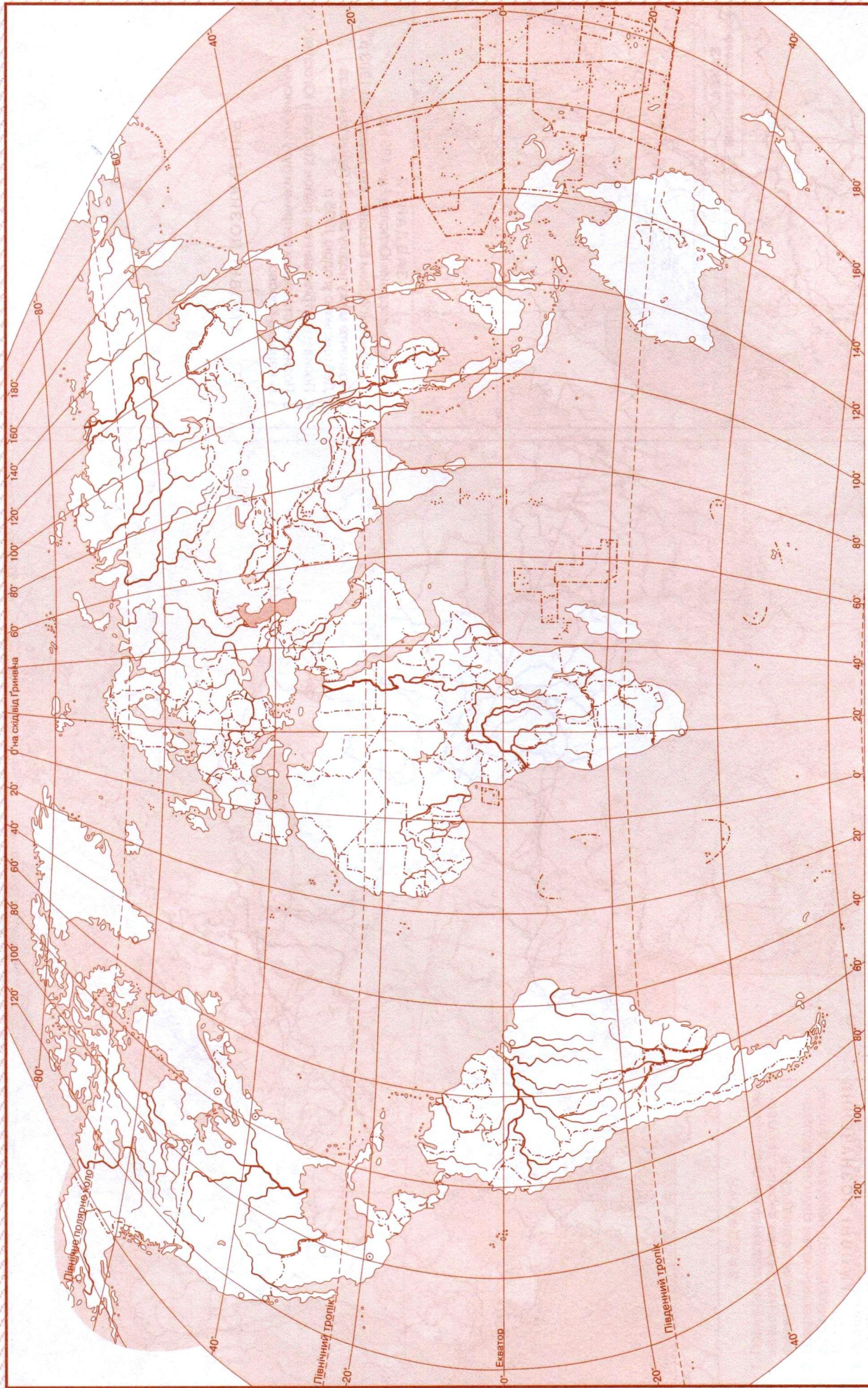
1. Обведіть кордони Югославії до 1991 р.
2. Позначте кордони балканських держав на 1993 р.
3. Позначте межу поділу Боснії і Герцеговини за Дейтонською угодою 1995 р.
4. Позначте штрихуванням район Косово в Югославії.
5. Позначте стрілками напрямки руху албанських біженців з Косово.

## УМОВНІ ПОЗНАЧЕННЯ



# РОЗПАД СВІТОВОЇ КОЛОНІАЛЬНОЇ СИСТЕМИ

Масштаб 1:120 000 000



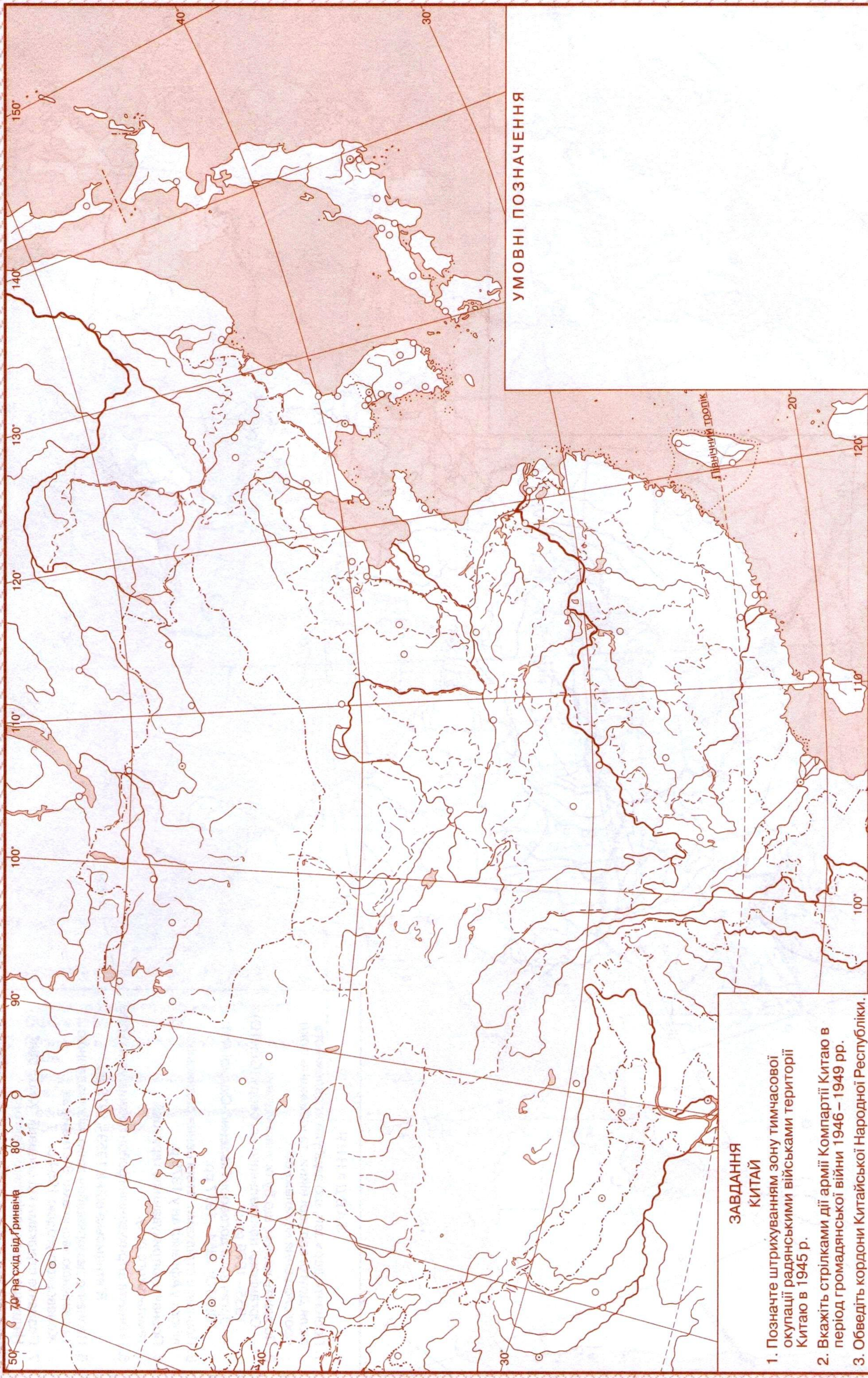
## УМОВНІ ПОЗНАЧЕННЯ

## ЗАВДАННЯ

1. Зафарбуйте різними кольорами колоніальні володіння Франції та Великої Британії станом на 1947 р.
2. Позначте залежні території в сучасному світі.

# КРАЇНИ СХІДНОЇ АЗІЇ в другій половині ХХ ст.

Масштаб 1:25 000 000

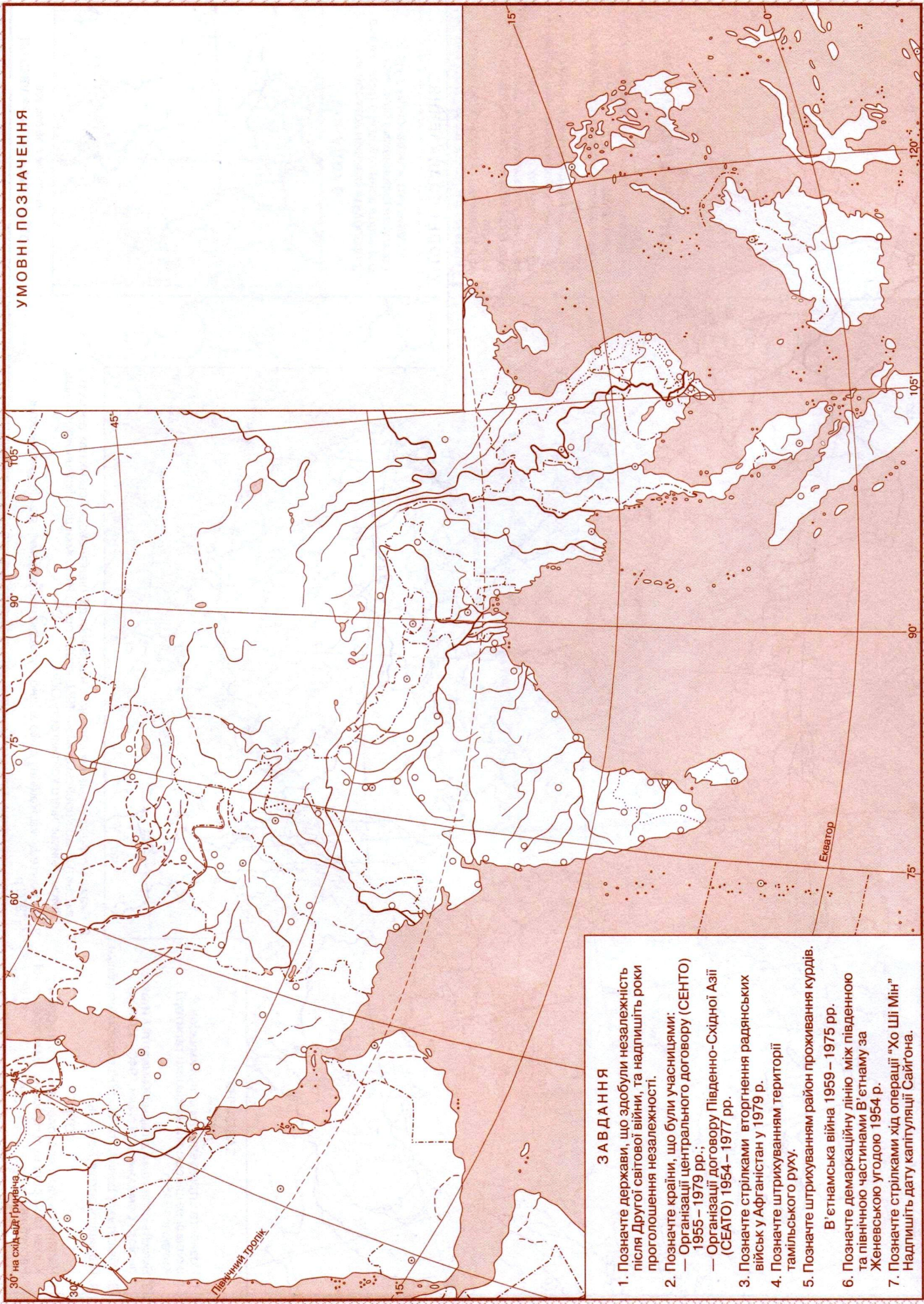


## ЗАВДАННЯ КИТАЙ

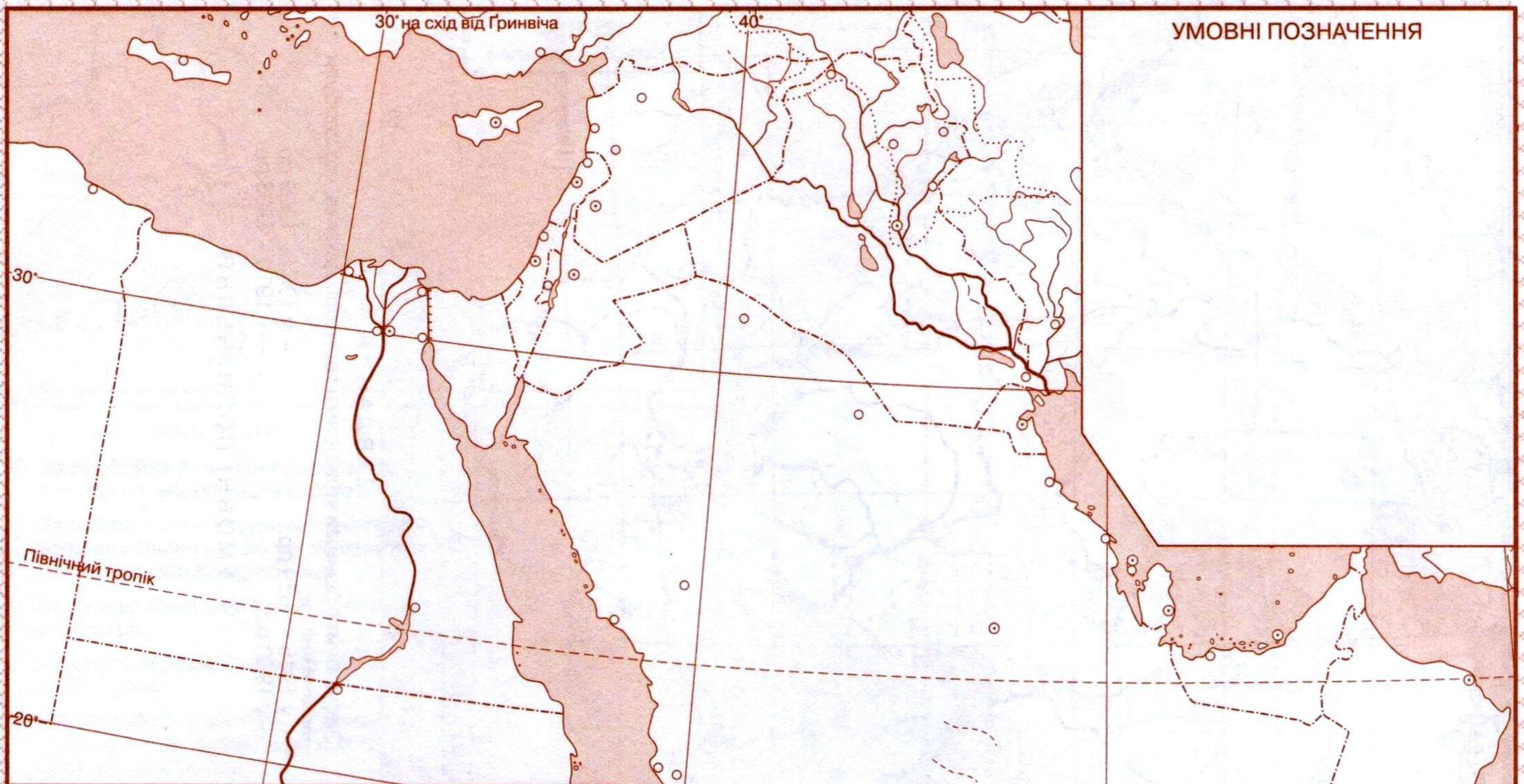
1. Позначте штрихуванням зону тимчасової окупації радянськими військами території Китаю в 1945 р.
2. Вкажіть стрілками дії армії Компартії Китаю в період громадянської війни 1946 – 1949 рр.
3. Обведіть кордони Китайської Народної Республіки.
4. Підпишіть острів Тайвань.

1. Надпишіть дати проголошення Республіки Корея та Кореїської Народно-Демократичної Республіки.

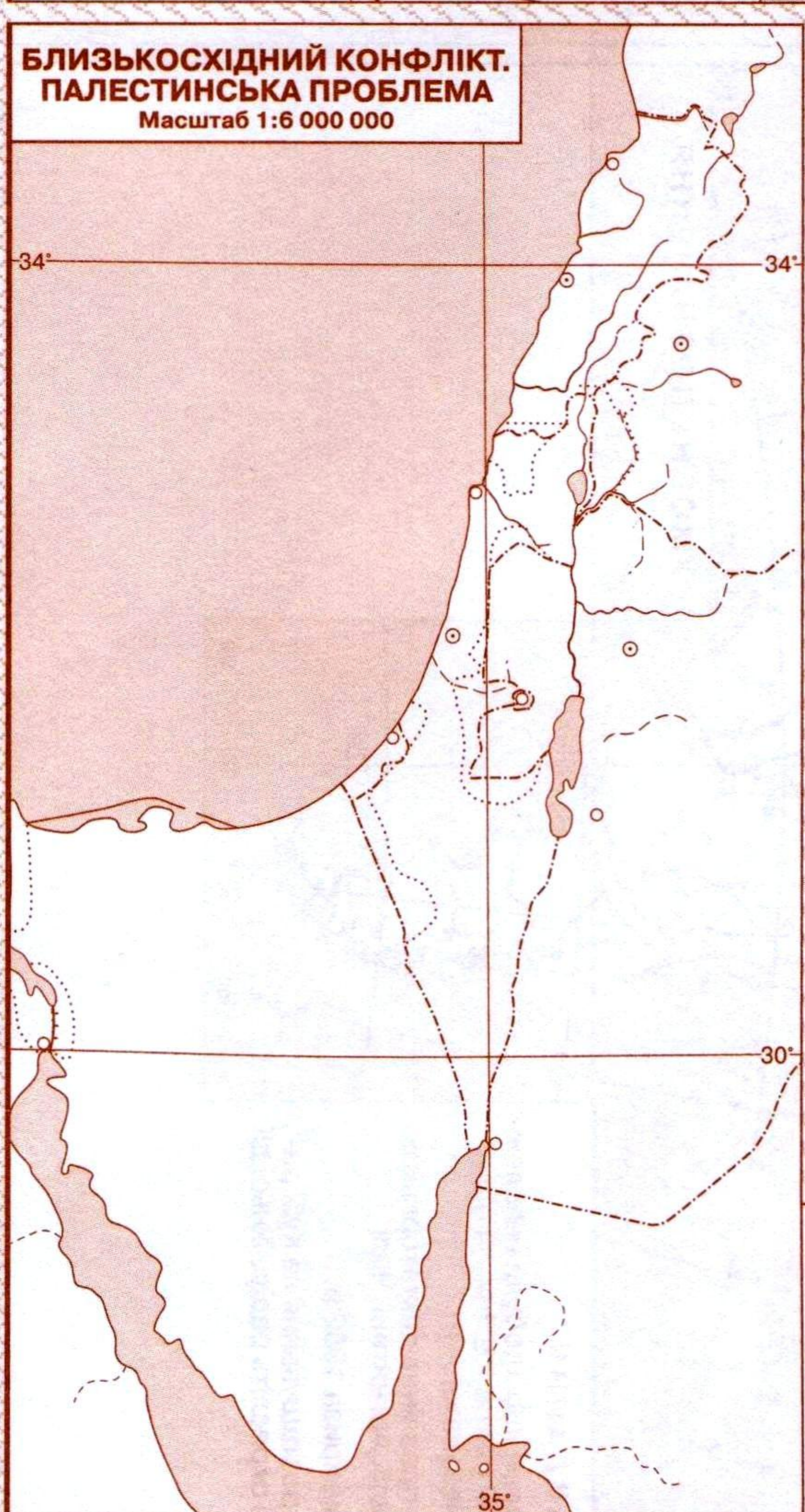
2. Вкажіть стрілками різних кольорів: напрямки дій північнокорейських і китайських військ під час Кореїської війни 1950 – 1953 рр. та напрямки дій південнокорейських військ і військового контингенту ООН.
3. Позначте демаркаційну лінію згідно з угодою про перемир'я в Паньмінчжоні 1953 р.



- ЗАВДАННЯ**
1. Позначте держави, що здобули незалежність після Другої світової війни, та надпишіть роки проголошення незалежності.
  2. Позначте країни, що були учасницями:
    - Організації центрального договору (СЕНТО) 1955 – 1979 рр.;
    - Організації договору Південно-Східної Азії (СЕАТО) 1954 – 1977 рр.
  3. Позначте стрілками вторгнення радянських військ у Афганістан у 1979 р.
  4. Позначте штрихуванням території тамільського руху.
  5. Позначте штрихуванням район проживання курдів. В'єтнамська війна 1959 – 1975 рр.
  6. Позначте демаркаційну лінію між південною та північною частинами В'єтнаму за Женевською угодою 1954 р.
  7. Позначте стрілками хід операції "Хо Ші Мін". Надпишіть дату капітуляції Сайгона.

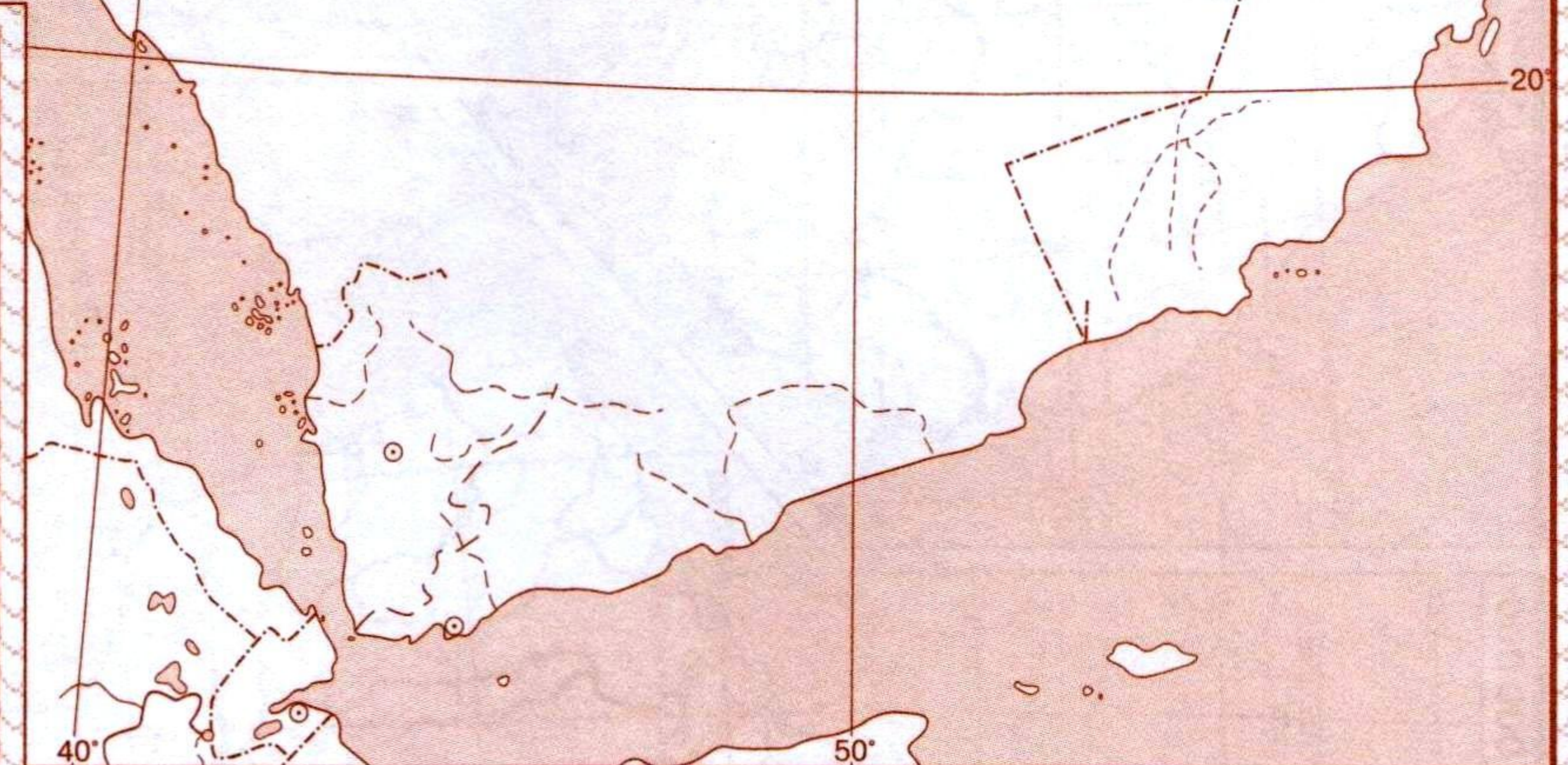


УМОВНІ ПОЗНАЧЕННЯ



**БЛИЗЬКОСХІДНИЙ КОНФЛІКТ.  
ПАЛЕСТИНСЬКА ПРОБЛЕМА**  
Масштаб 1:6 000 000

УМОВНІ ПОЗНАЧЕННЯ



**ЗАВДАННЯ**

1. Надпишіть назви країн, що здобули незалежність після Другої світової війни та вкажіть роки проголошення незалежності.
2. Позначте держави – члени інтеграційних об'єднань: Ліги арабських держав (ЛАД) та Організації держав-експортерів нафти (ОПЕК).
3. Стрілками різних кольорів укажіть дії іракських військ та міжнародних збройних сил під час конфлікту в Перській затоці 1990–1991 рр.

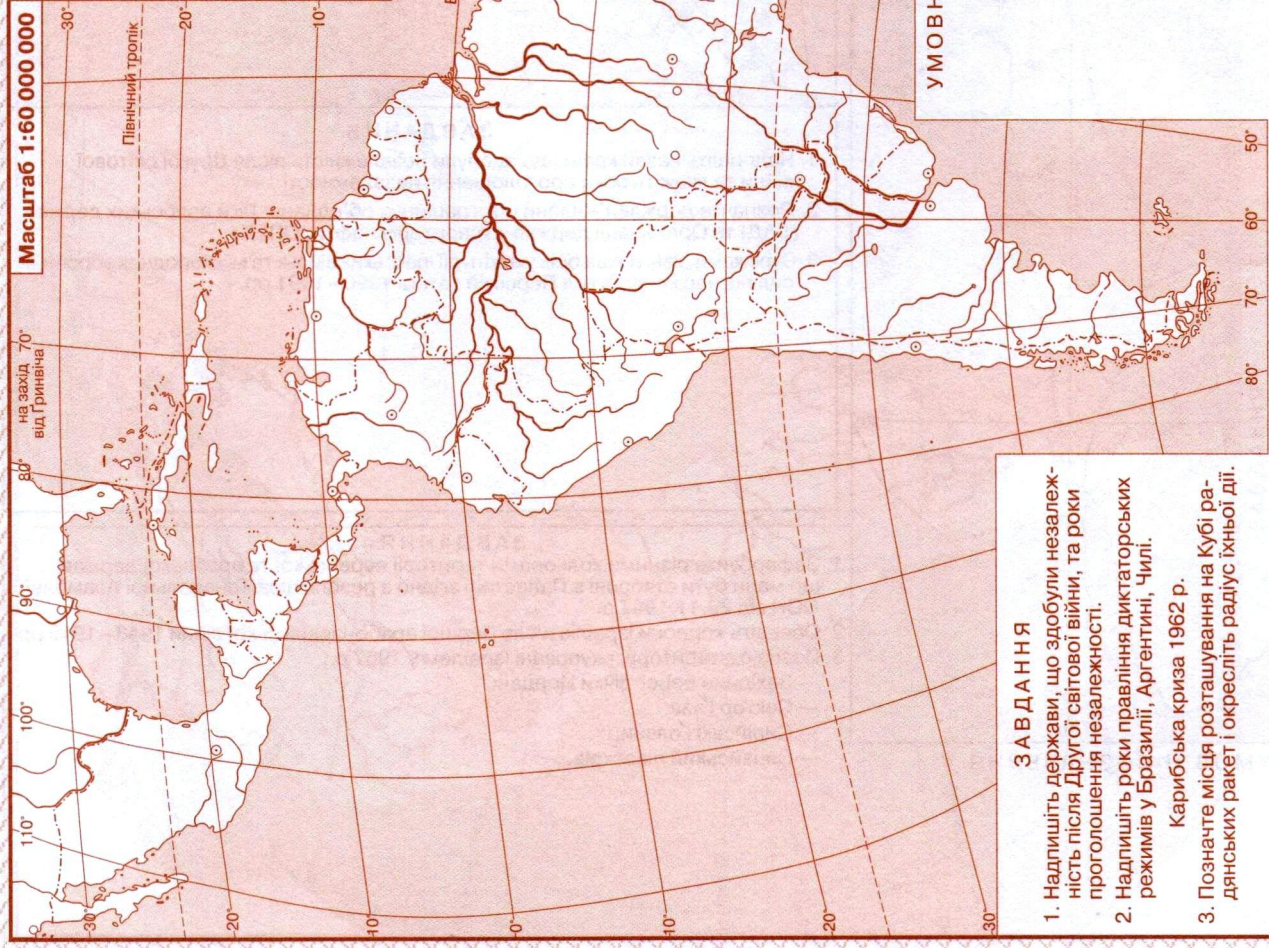
**ЗАВДАННЯ**

1. Зафарбуйте різними кольорами території єврейської та арабської держав, що мали бути створені в Палестині згідно з резолюцією Генеральної Асамблеї ООН від 29.11.1947 р.
2. Обведіть кордони Ізраїлю після Першої арабо-ізраїльської війни 1948–1949 рр.
3. Позначте території, окуповані Ізраїлем у 1967 р.:
  - Західний берег річки Йордан;
  - Сектор Газа;
  - Сирійські Голани;
  - Синайський півострів.

**ЛАТИНСЬКА АМЕРИКА в другій половині ХХ – на початку ХХІ ст.**

Масштаб 1:60 000 000

110° на захід від Гринвіча



**ЗАВДАННЯ**

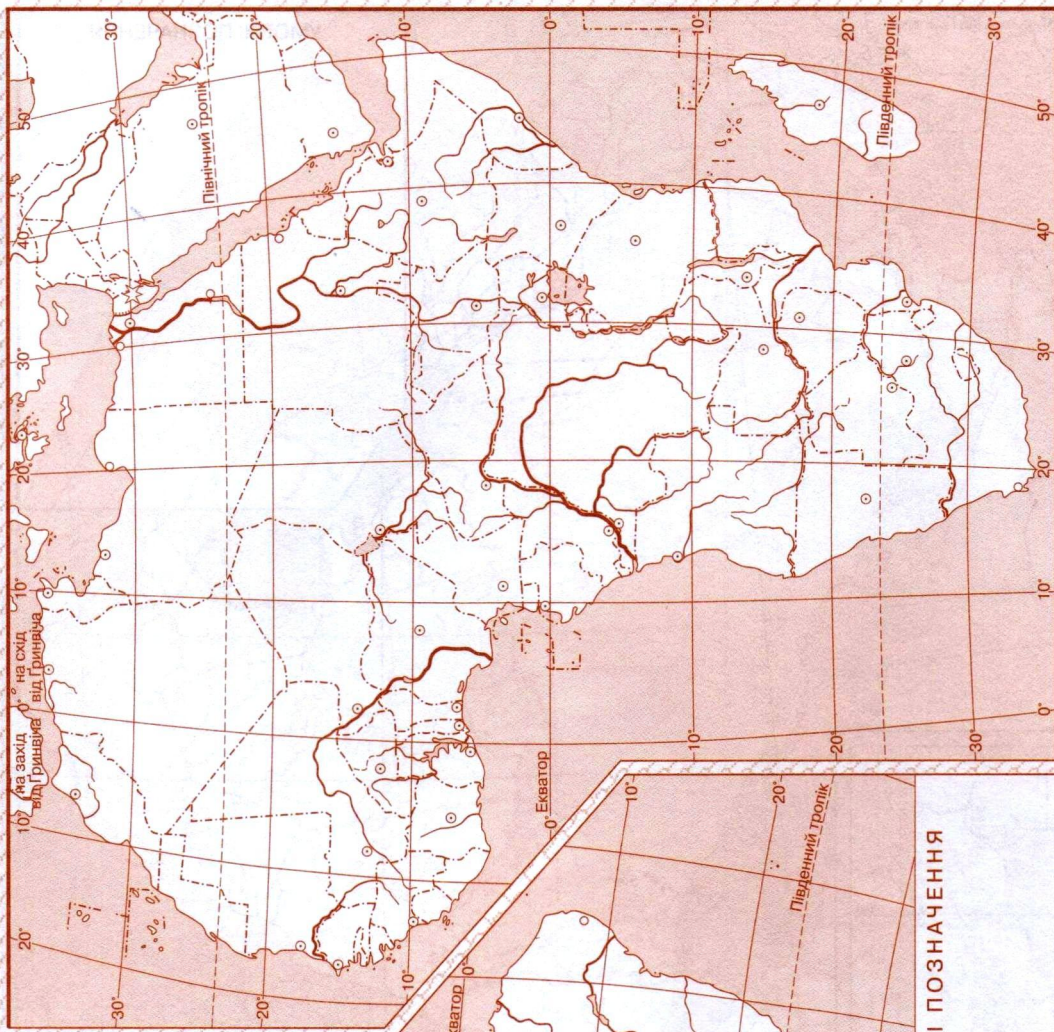
1. Надпишіть держави, що здобули незалежність після Другої світової війни, та роки проголошення незалежності.
2. Надпишіть роки правління диктаторських режимів у Бразилії, Аргентині, Чилі.  
Карибська криза 1962 р.
3. Позначте місця розташування на Кубі радянських ракет і окресліть радіус їхньої дії.

**УМОВНІ ПОЗНАЧЕННЯ**

**АФРИКА в другій половині ХХ – на початку ХХІ ст.**

Масштаб 1:60 000 000

10° на захід від Гринвіча



**ЗАВДАННЯ**

- Зафарбуйте різними кольорами території держав, що здобули незалежність:
- у 1961 – 1969 рр.;
  - у 1945 – 1959 рр.;
  - у 1970 – 1993 рр.;
  - у 1960 р.;

**УМОВНІ ПОЗНАЧЕННЯ**

Сторінки	Масштаби
1 ТЕРИТОРІАЛЬНІ ЗМІНИ в ЄВРОПІ за ПІДСУМКАМИ ДРУГОЇ СВІТОВОЇ ВІЙНИ.....	1:16 000 000
БЕРЛІН.....	1:800 000
2 СВІТ після ДРУГОЇ СВІТОВОЇ ВІЙНИ (1945–1991 рр.).....	1:120 000 000
3 США та КАНАДА в другій половині ХХ – на початку ХХІ ст.....	1:30 000 000
4 ЄВРОПА в другій половині ХХ ст.....	1:20 000 000
ПОДІЛ НІМЕЧЧИНИ ТА АВСТРІЇ.....	1:20 000 000
5 СРСР у 1945–1991 рр.....	1:35 000 000
6 РОЗПАД СРСР. НОВІ НЕЗАЛЕЖНІ ДЕРЖАВИ у 1991–2018 рр.....	1:35 000 000
КАВКАЗ.....	1:12 000 000
7 РЕВОЛЮЦІЇ 1989–1992 рр. у КРАЇНАХ ЦЕНТРАЛЬНО-СХІДНОЇ ЄВРОПИ.....	1:15 000 000
ЮГОСЛАВСЬКА КРИЗА.....	1:10 000 000
8 РОЗПАД СВІТОВОЇ КОЛОНІАЛЬНОЇ СИСТЕМИ.....	1:120 000 000
9 КРАЇНИ СХІДНОЇ АЗІЇ в другій половині ХХ ст.....	1:25 000 000
10 КРАЇНИ СЕРЕДЬНОГО СХОДУ та ПІВДЕННО-СХІДНОЇ АЗІЇ в другій половині ХХ ст.....	1:35 000 000
11 КРАЇНИ БЛИЗЬКОГО СХОДУ в другій половині ХХ – на початку ХХІ ст.....	1:20 000 000
БЛИЗЬКОСХІДНИЙ КОНФЛІКТ. ПАЛЕСТИНСЬКА ПРОБЛЕМА.....	1:6 000 000
12 ЛАТИНСЬКА АМЕРИКА в другій половині ХХ – на початку ХХІ ст.....	1:60 000 000
АФРИКА в другій половині ХХ – на початку ХХІ ст.....	1:60 000 000




Навчальні атласи, стінні та контурні карти з історії в магазинах «Атласи та карти»

Київ, вул. Попудренка, 54. Тел. (044) 292-31-24, 292-02-15, 498-29-70

Київ, Велика Васильківська вул., 69. Тел. (044) 537-06-18

РЕКОМЕНДОВАНО МІНІСТЕРСТВОМ ОСВІТИ І НАУКИ УКРАЇНИ

(№ 1/11-5793 від 15.06.2017)

Контурні карти відповідають санітарному законодавству України (висновок № 602-123-20-1/5859 від 20.02.2018)

ДЕРЖАВНА СЛУЖБА УКРАЇНИ З ПИТАНЬ ГЕОДЕЗІЇ, КАРТОГРАФІЇ ТА КАДАСТРУ

ДЕРЖАВНЕ НАУКОВО-ВИРОБНИЧЕ ПІДПРИЄМСТВО «КАРТОГРАФІЯ»

вул. Попудренка, 54, м. Київ-94, 02094  
Свідоцтво суб'єкта видавничої справи  
ДК №398 від 03.04.2001

Редактори: Д.В. Ісаєв, В.М. Соколова  
Технічний редактор С.М. Полторако

Формат паперу 60x90/8

Ум. друк. арк. 1,5

Зам. № 03948

Видруковано Printstore Group

вул. Данила Щербаківського, 4, м. Київ, 03190

©ДНВП «Картографія», 2001 – 2019

ISBN 978-966-946-164-3



9 789669 461643 >