

Рекомендовано МОН



10
Клас

Контурні Карти

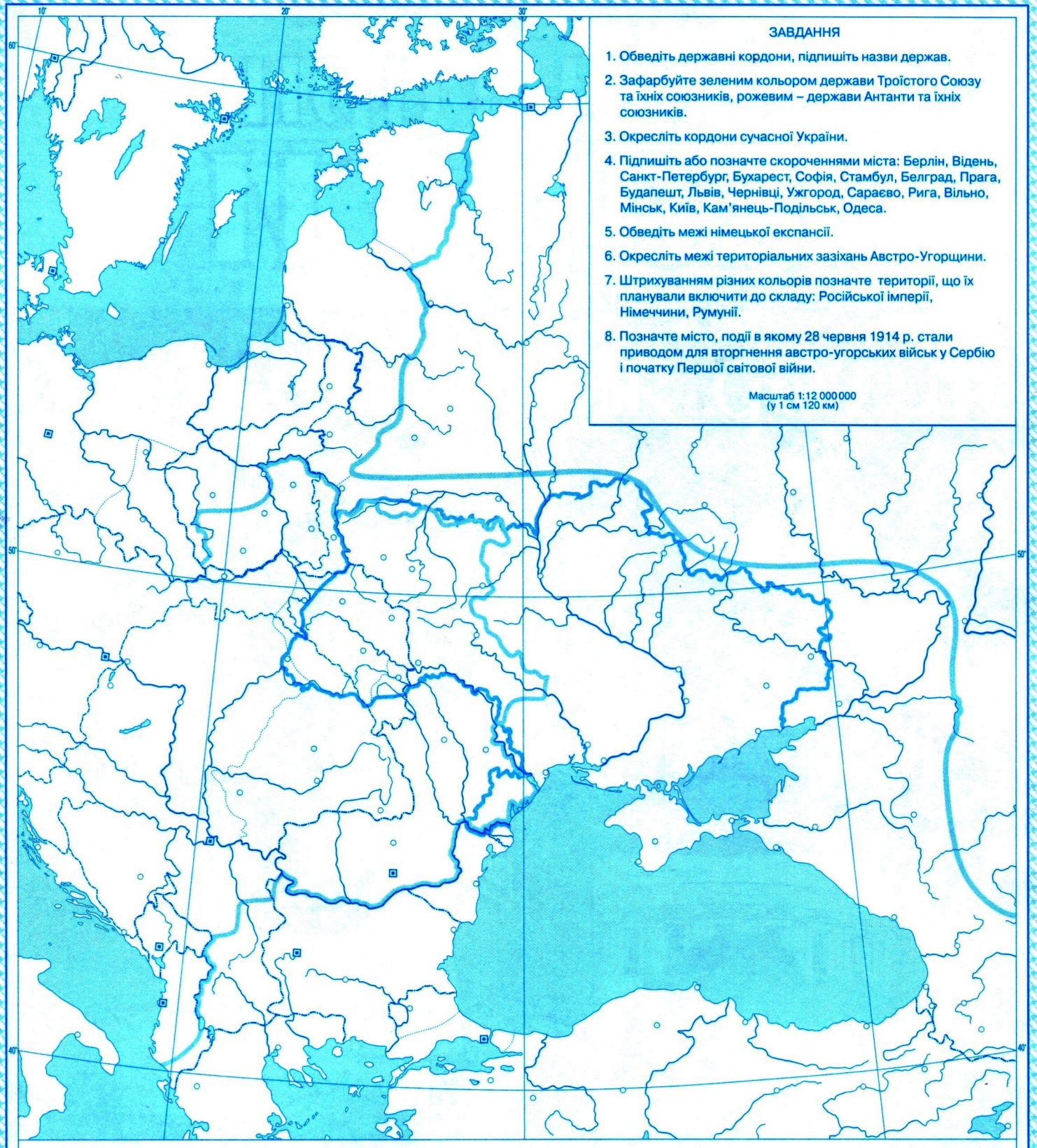
Історія України



КАРТОГРАФІЯ

ukrmap.com.ua
kartographia.com.ua

ГЕОПОЛІТИЧНІ ПЛАНИ ДЕРЖАВ НАПЕРЕДОДНІ ПЕРШОЇ СВІТОВОЇ ВІЙНИ



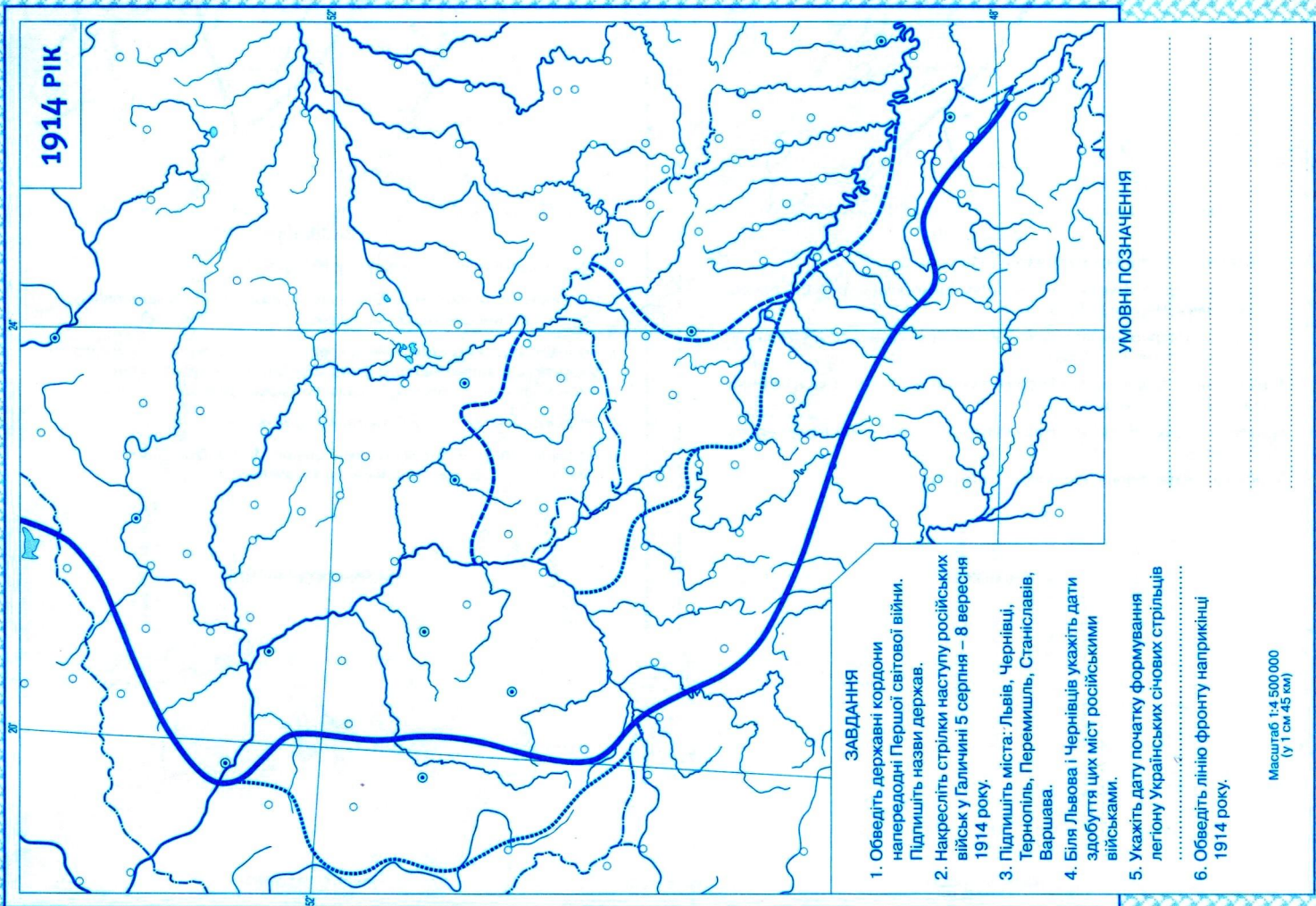
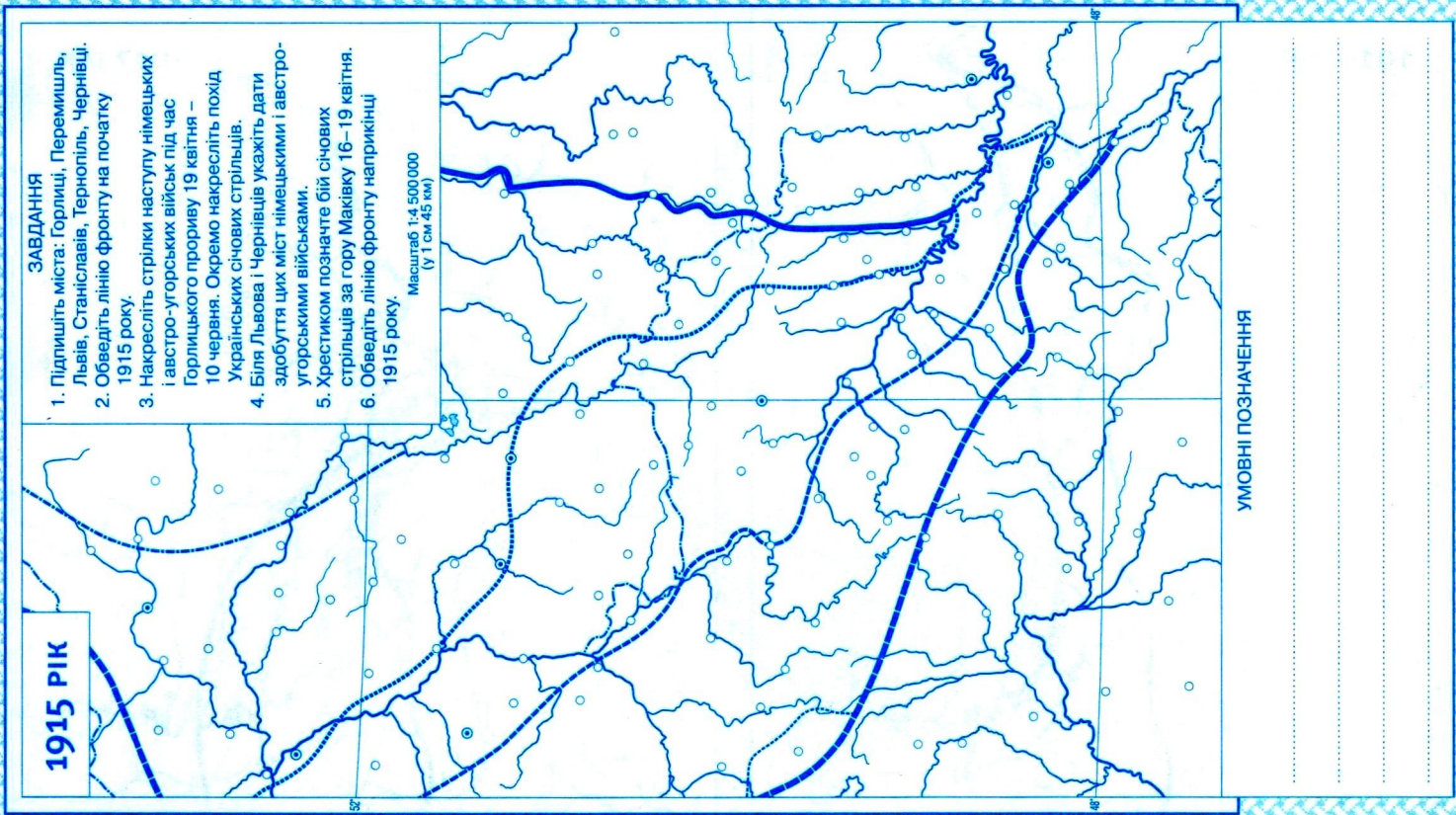
ЗАВДАННЯ

1. Обведіть державні кордони, підпишіть назви держав.
2. Зафарбуйте зеленим кольором держави Троїстого Союзу та їхніх союзників, рожевим – держави Антанти та їхніх союзників.
3. Окресліть кордони сучасної України.
4. Підпишіть або позначте скороченнями міста: Берлін, Відень, Санкт-Петербург, Бухарест, Софія, Стамбул, Белград, Прага, Будапешт, Львів, Чернівці, Ужгород, Сараєво, Рига, Вільно, Мінськ, Київ, Кам'янець-Подільський, Одеса.
5. Обведіть межі німецької експансії.
6. Окресліть межі територіальних зазіхань Австро-Угорщини.
7. Штрихуванням різних кольорів позначте території, що їх планували включити до складу: Російської імперії, Німеччини, Румунії.
8. Позначте місто, події в якому 28 червня 1914 р. стали приводом для вторгнення австро-угорських військ у Сербію і початку Першої світової війни.

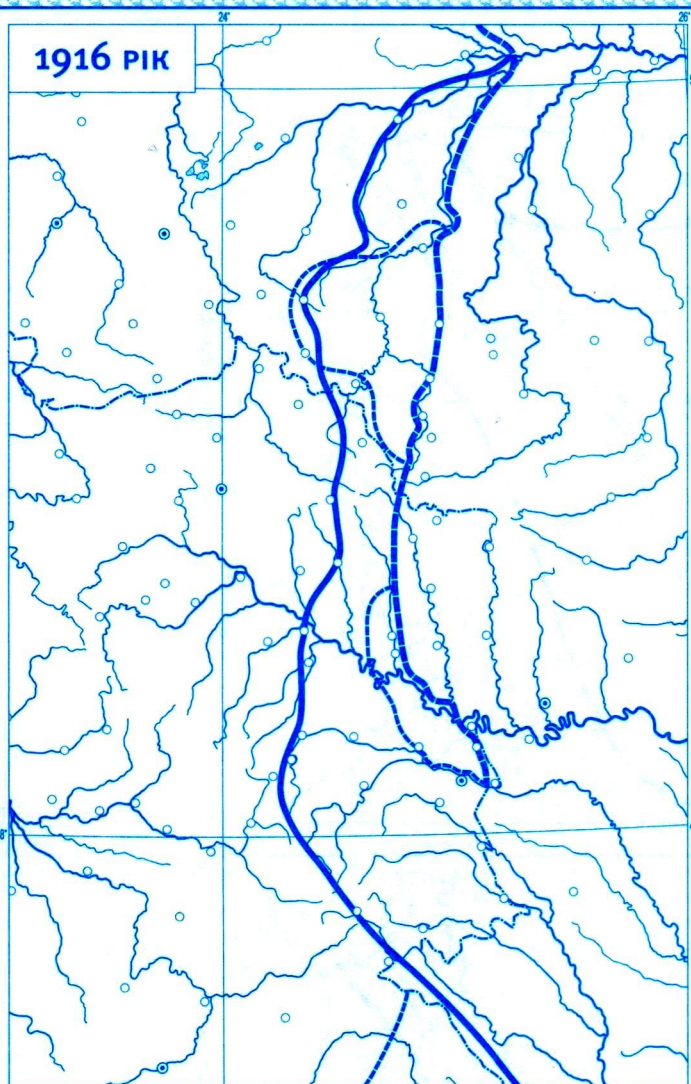
Масштаб 1:12 000 000
(у 1 см 120 км)

УМОВНІ ПОЗНАЧЕННЯ

.....
.....
.....
.....



1916 РІК



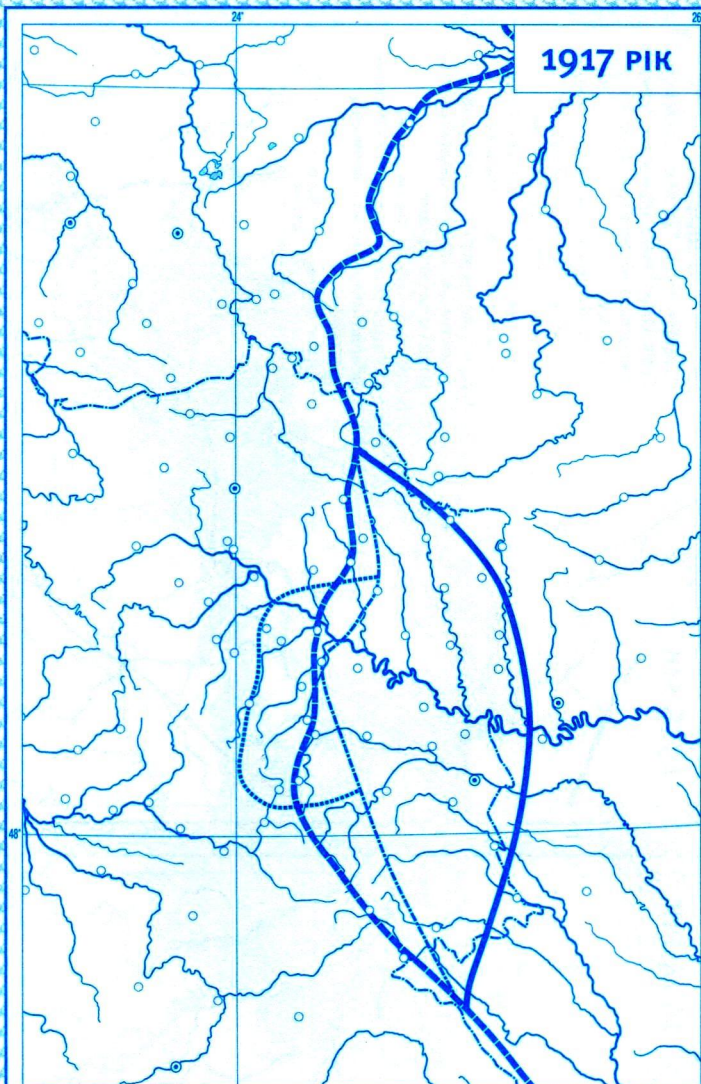
ЗАВДАННЯ

1. Обведіть лінію фронту на початку 1916 року.
2. Підпишіть міста: Кам'янець-Подільськ, Рівне, Луцьк, Броди, Тернопіль, Станіславів, Чернівці, Львів.
3. Накресліть стрілки наступу російських військ під час Брусиловського прориву 22 травня – 31 липня.
4. Біля Луцька, Станіславава і Чернівців укажіть дати здобуття цих міст російськими військами.
5. Позначте хрестиком бій січових стрільців за гору Лисоню 19 серпня 1916 року.
6. Обведіть лінію фронту наприкінці 1916 року.

УМОВНІ ПОЗНАЧЕННЯ

Масштаб 1:4 500 000
(у 1 см 45 км)

1917 РІК

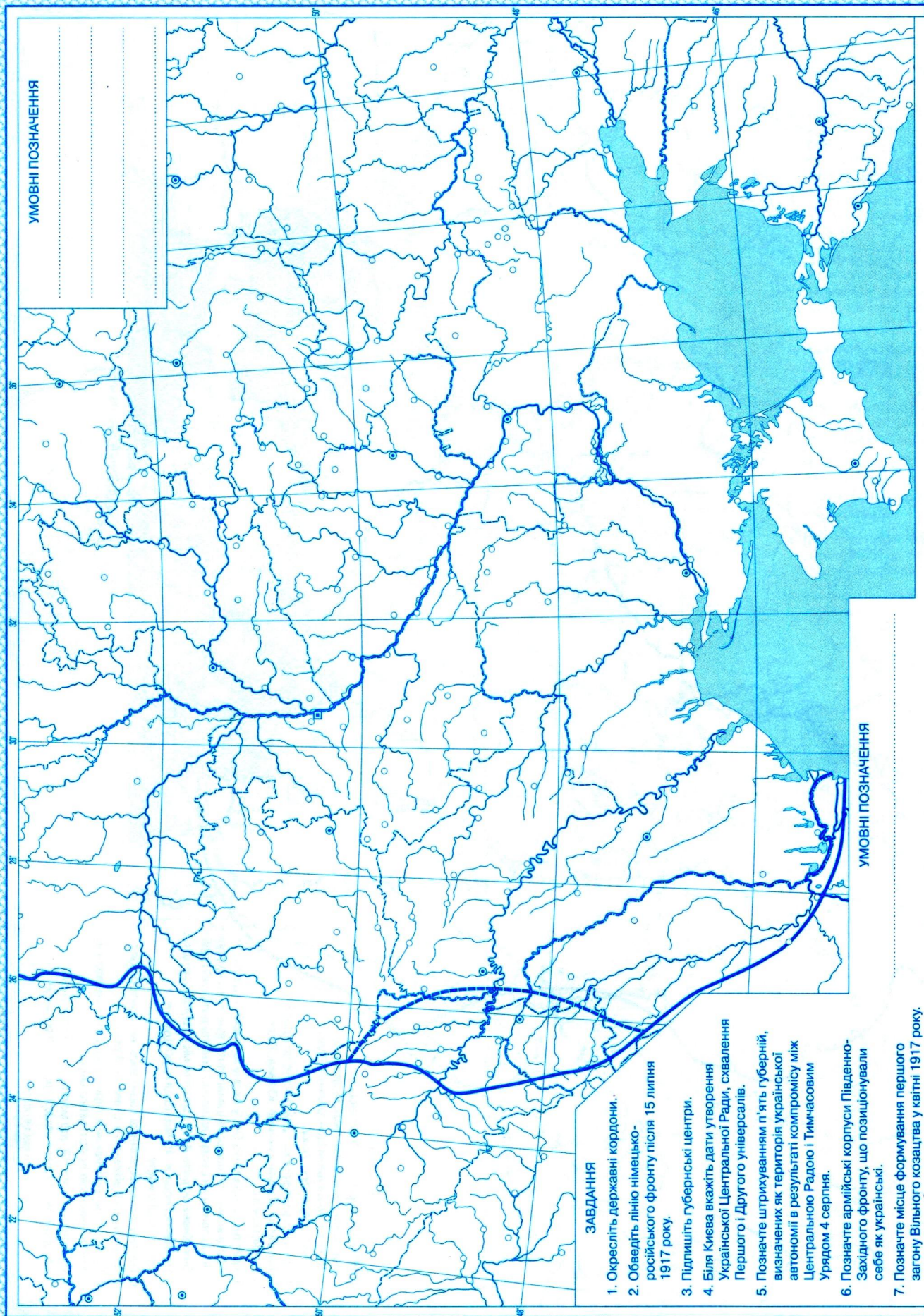


ЗАВДАННЯ

1. Обведіть лінію фронту на початку 1917 року.
2. Підпишіть міста: Коломия, Станіславів, Чернівці, Львів, Тернопіль, Броди, Кам'янець-Подільськ, Луцьк.
3. Різнокольоровими стрілками накресліть напрямки російського наступу в червні та німецько-австро-угорського контрнаступу в липні. Окремо позначте похід Українських січових стрільців.
4. Обведіть лінію фронту за станом на 15 липня.
5. Підпишіть і підкресліть місто, де 2 грудня 1917 р. було підписано Тимчасову угоду про припинення військових дій.

УМОВНІ ПОЗНАЧЕННЯ

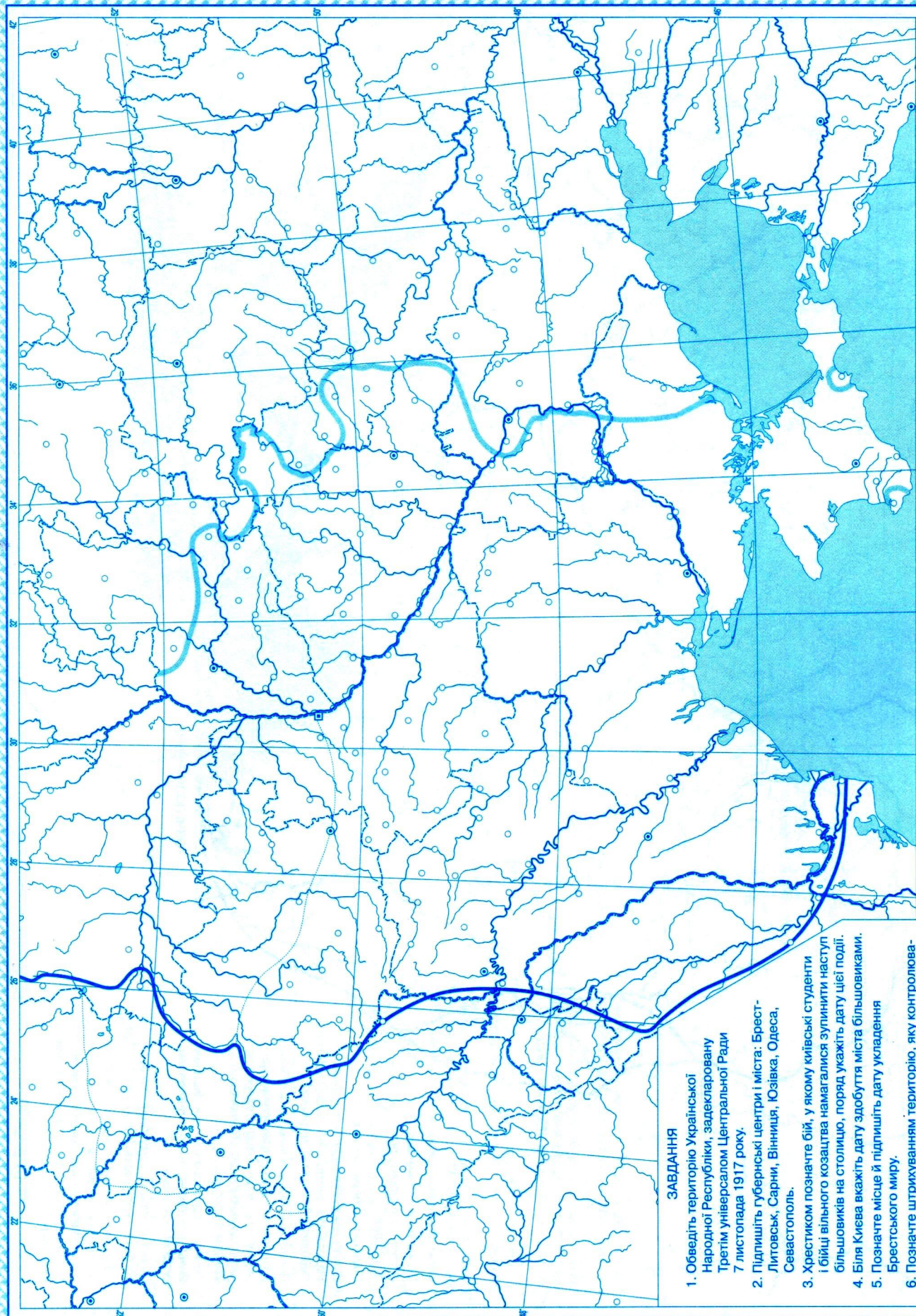
Масштаб 1:4 500 000
(у 1 см 45 км)



ЗАВДАННЯ

1. Окресліть державні кордони.
2. Обведіть лінію німецько-російського фронту після 15 липня 1917 року.
3. Підпишіть губернські центри.
4. Біля Києва вкажіть дати утворення Української Центральної Ради, схвалення Першого і Другого універсалів.
5. Позначте штрихуванням п'ять губерній, визначених як територія української автономії в результаті компромісу між Центральною Радою і Тимчасовим Урядом 4 серпня.
6. Позначте армійські корпуси Південно-Західного фронту, що позиціонували себе як українські.
7. Позначте місце формування першого загону Вільного козацтва у квітні 1917 року.
8. Позначте різними кольорами населені пункти: у яких земств і ради першими підтримали проголошення автономії України, у яких ради підпали під вплив більшовиків.

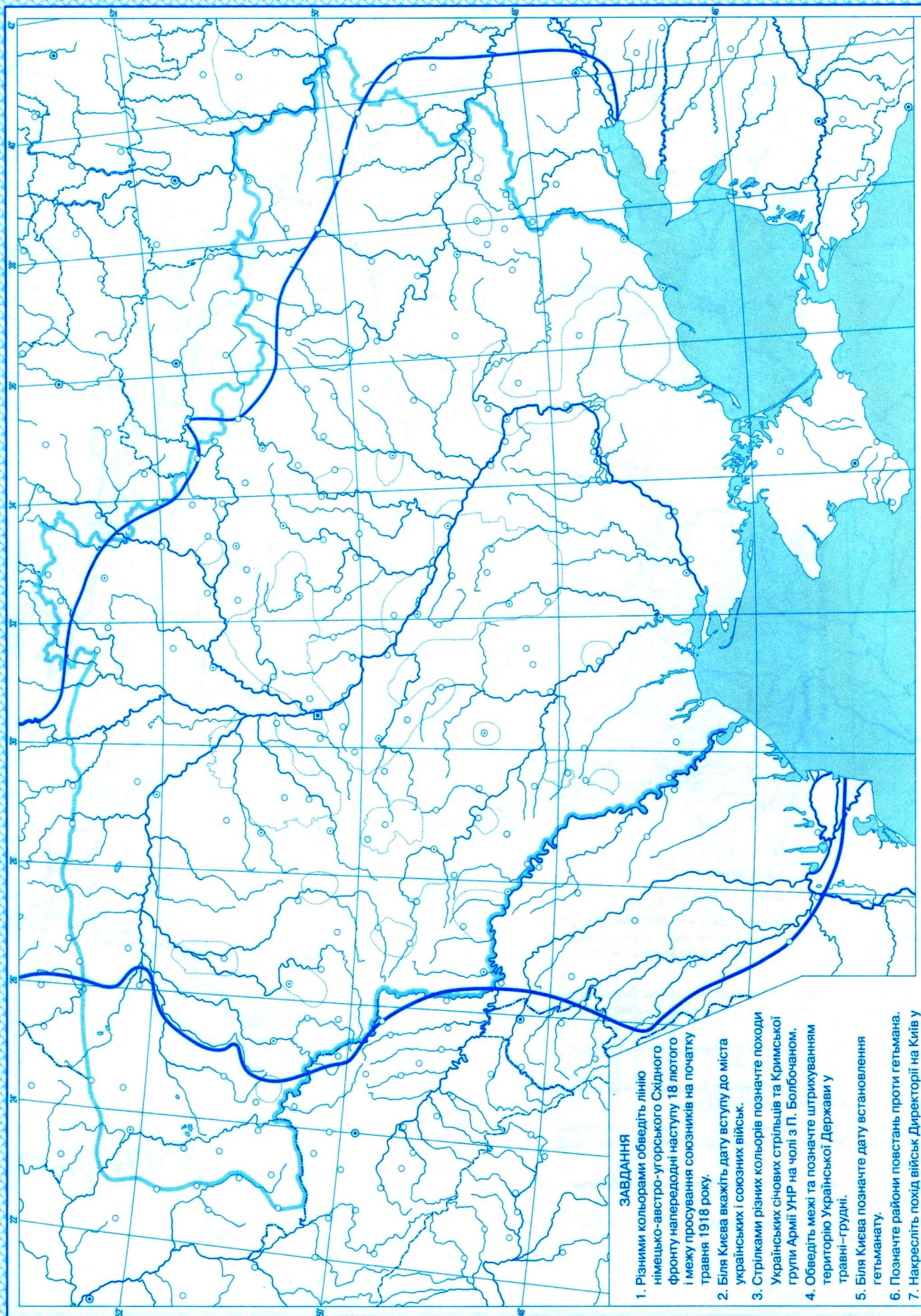
Масштаб 1:6 000 000
(у 1 см 60 км)



ЗАВДАННЯ

1. Обведіть територію Української Народної Республіки, задекларовану Третім універсалом Центральної Ради 7 листопада 1917 року.
2. Підлишіть губернські центри і міста: Брест-Литовськ, Сарни, Вінниця, Юзівка, Одеса, Севастополь.
3. Хрестиком позначте бій, у якому київські студенти і бійці вільного козацтва намагалися зупинити наступ більшовиків на столицю, поряд укажіть дату цієї події.
4. Біля Києва вкажіть дату здобуття міста більшовиками.
5. Позначте місце й підлишіть дату укладення Брестського миру.
6. Позначте штрихуванням територію, яку контролювали українські війська 27 січня 1918 року.
7. Позначте штрихуванням територію, що передавалась УНР за ухвалою Брестського миру.
8. Підлишіть території, що мали стати українським автономним краєм у складі Австро-Угорщини.

УМОВНІ ПОЗНАЧЕННЯ

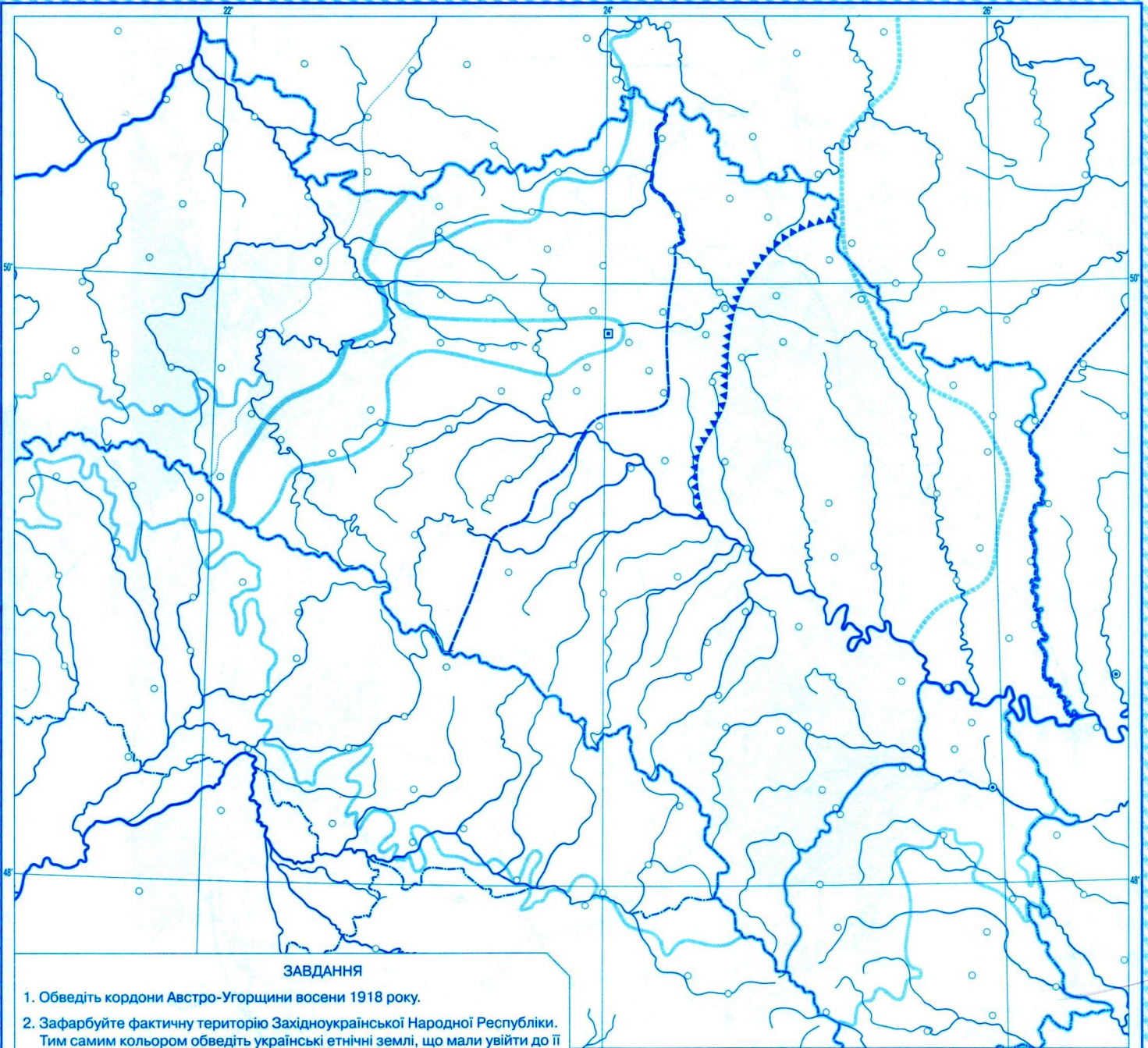


ЗАВДАННЯ

1. Різними кольорами обведіть лінію німецько-австро-угорського Східного фронту напередодні наступу 18 лютого і межу просування союзників на початку травня 1918 року.
2. Біля Києва вкажіть дату вступу до міста українських і союзних військ.
3. Стрілками різних кольорів позначте походи Українських січових стрільців та Кримської групи Армії УНР на чолі з П. Болбочаном.
4. Обведіть межі та позначте штрихуванням територію Української Держави у травні–грудні.
5. Біля Києва позначте дату встановлення гетьманату.
6. Позначте райони повстань проти гетьмана.
7. Накресліть похід військ Директорії на Київ у листопаді–грудні 1918 року.
8. Стрілками різних кольорів укажіть початок наступу на Україну більшовицьких, білогвардійських і польських військ.

УМОВНІ ПОЗНАЧЕННЯ

Масштаб 1:6 000 000
(у 1 см 60 км)



ЗАВДАННЯ

1. Обведіть кордони Австро-Угорщини восени 1918 року.
2. Зафарбуйте фактичну територію Західноукраїнської Народної Республіки. Тим самим кольором обведіть українські етнічні землі, що мали увійти до її складу за постановою Української Національної Ради від 18 жовтня 1918 року.
3. Підлишіть населені пункти: Львів, Станіславів, Тернопіль, Перемишль, Дрогобич, Броди, Бучач, Чортків, Коломия, Чернівці, Кам'янець-Подільськ, Луцьк, Хуст, Мукачево, Ужгород, Пряшів.
4. Біля Львова вкажіть дати проголошення Західноукраїнської Народної Республіки і здобуття міста польськими військами.
5. Обведіть різними кольорами лінії просування польських військ у Галичині за станом на 22 січня і на початок червня 1919 року.
6. Накресліть стрілки Чортківської офензиви Української Галицької армії 8–24 червня 1919 року. Обведіть рубіж, що його досягла УГА внаслідок наступу.
7. Окресліть території, що перебували під контролем польських військ на початку вересня 1919 року.
8. Штрихуванням різних кольорів позначте українські етнічні землі, що увійшли до складу Чехословаччини та Румунії.

УМОВНІ ПОЗНАЧЕННЯ

.....

.....

.....

.....

.....

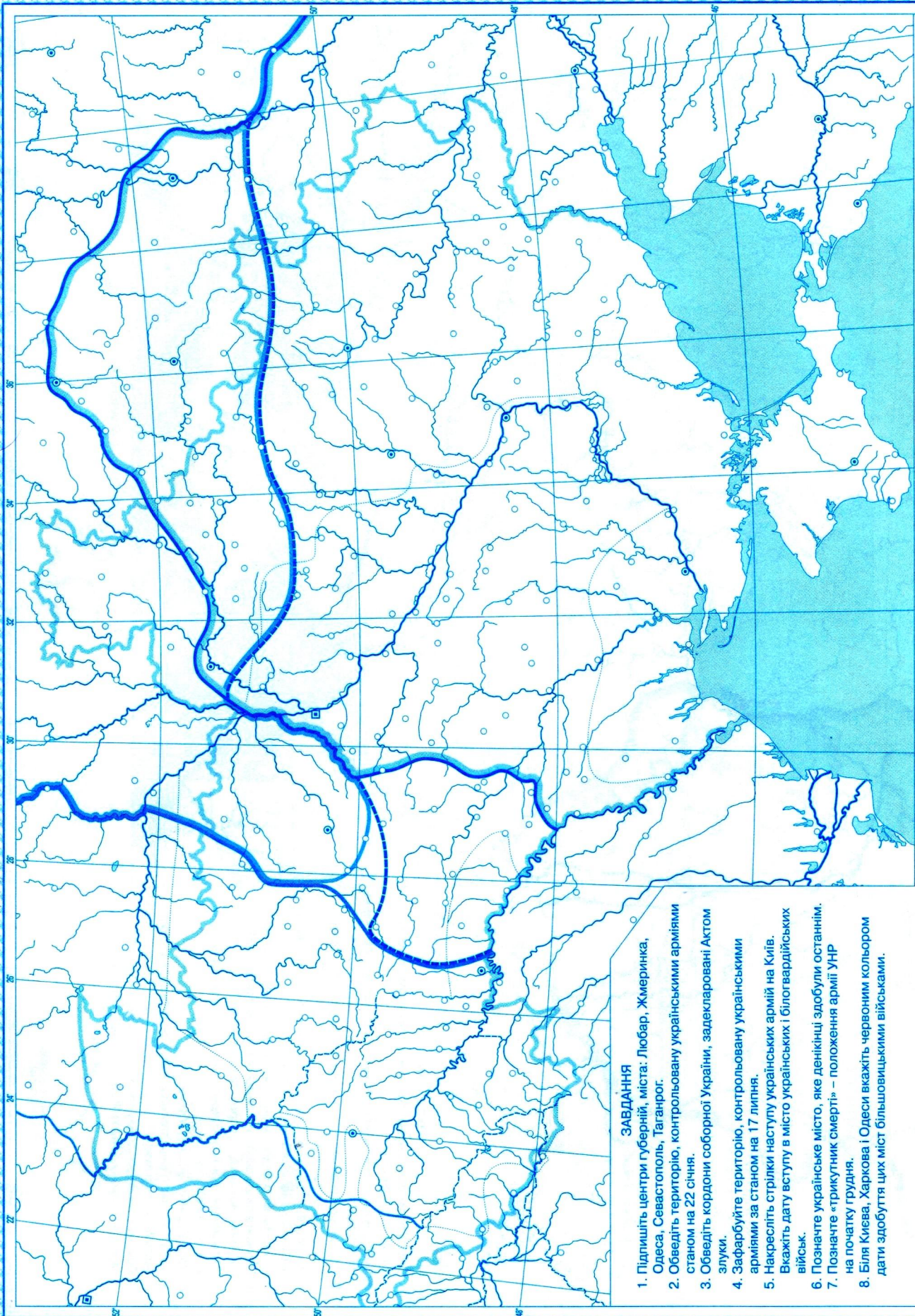
.....

.....

.....

.....

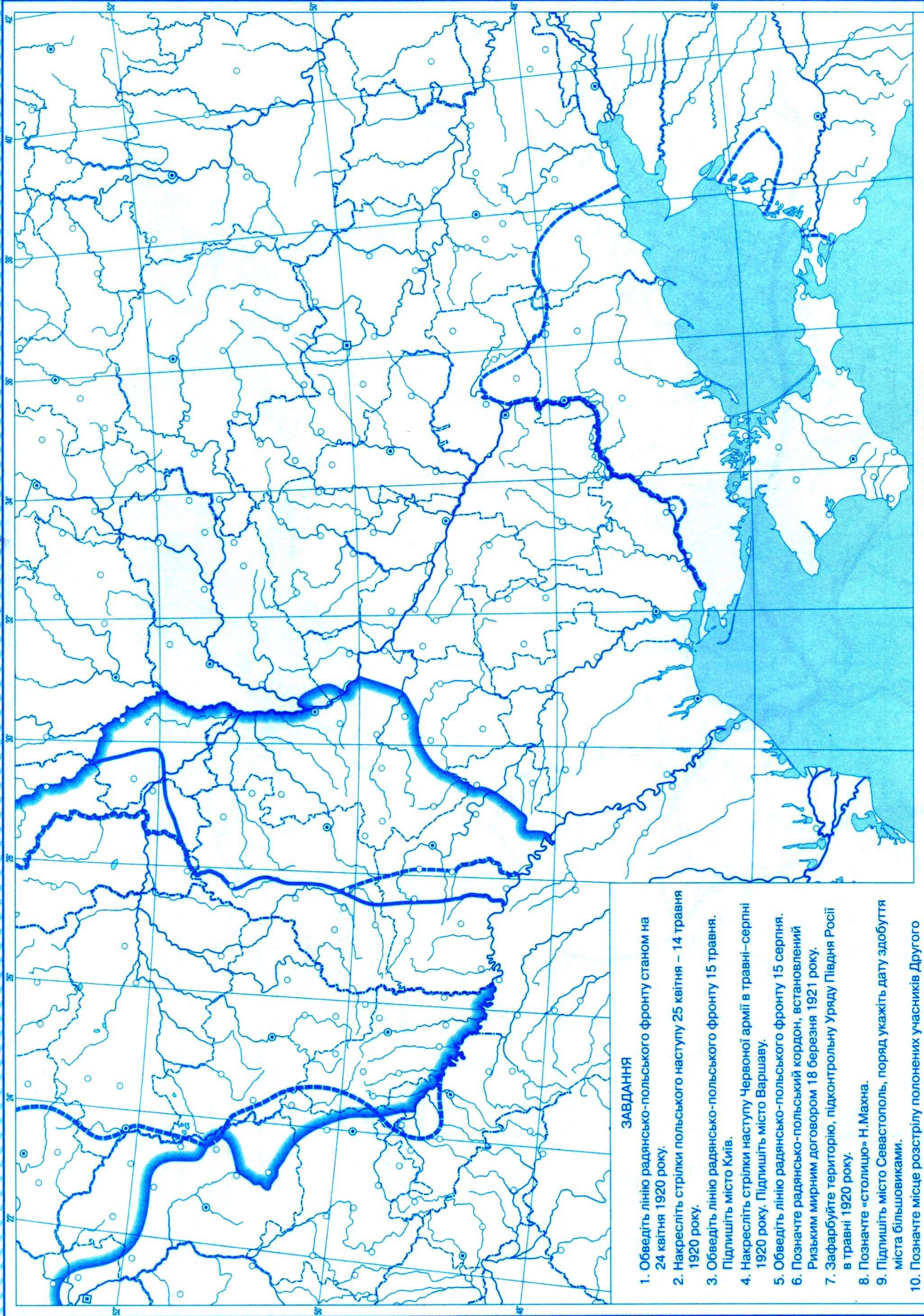
.....



УМОВНІ ПОЗНАЧЕННЯ

ЗАВДАННЯ

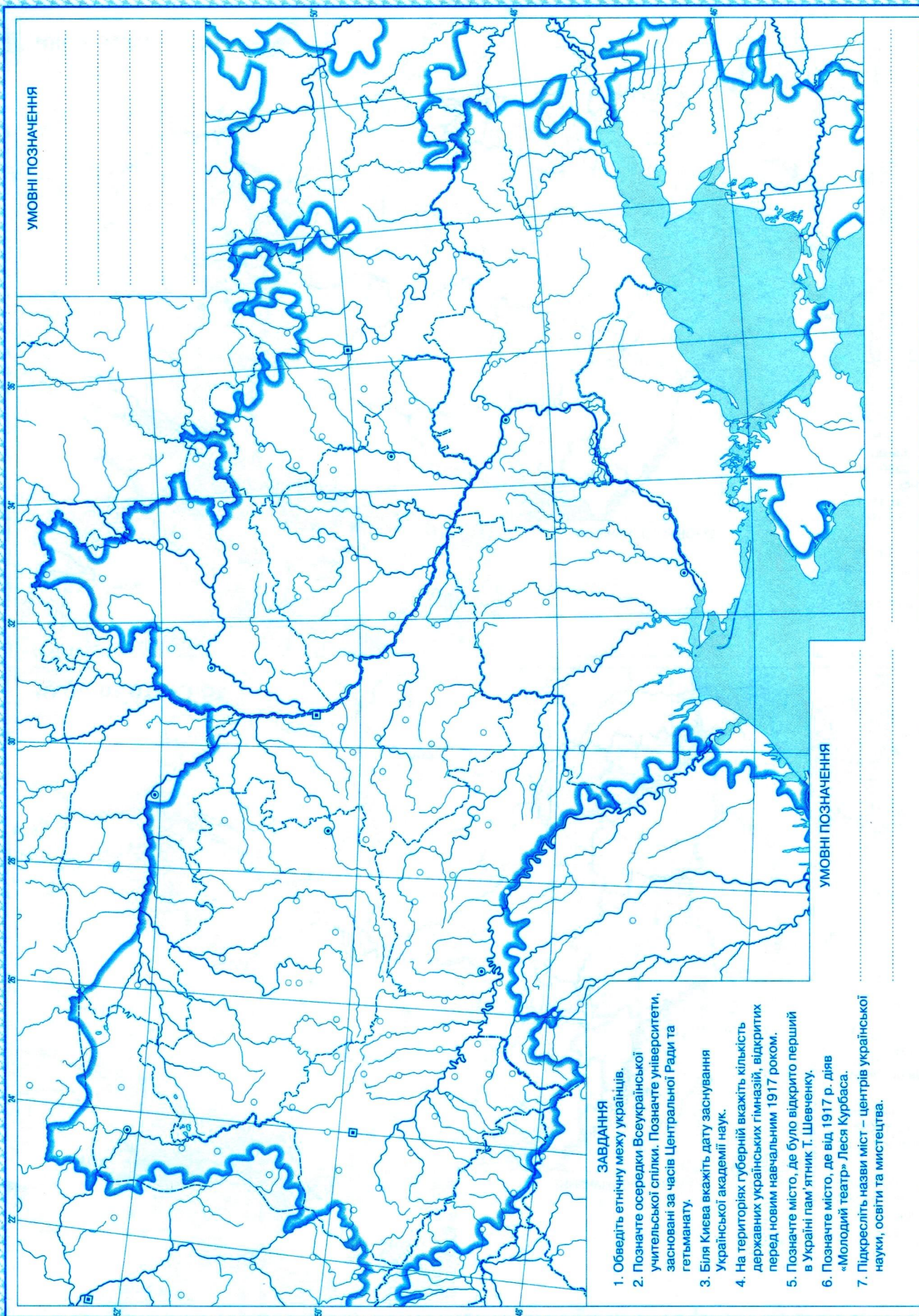
1. Підпишіть центри губерній, міста: Любар, Жмеринка, Одеса, Севастополь, Таганрог.
2. Обведіть територію, контрольовану українськими арміями станом на 22 січня.
3. Обведіть кордони соборної України, задекларовані Актом злуки.
4. Зафарбуйте територію, контрольовану українськими арміями за станом на 17 липня.
5. Накресліть стрілки наступу українських армій на Київ. Вкажіть дату вступу в місто українських і білогвардійських військ.
6. Позначте українське місто, яке денікінці здобули останнім.
7. Позначте «трикутник смерті» – положення армії УНР на початку грудня.
8. Біля Києва, Харкова і Одеси вкажіть червоним кольором дати здобуття цих міст більшовицькими військами.



ЗАВДАННЯ

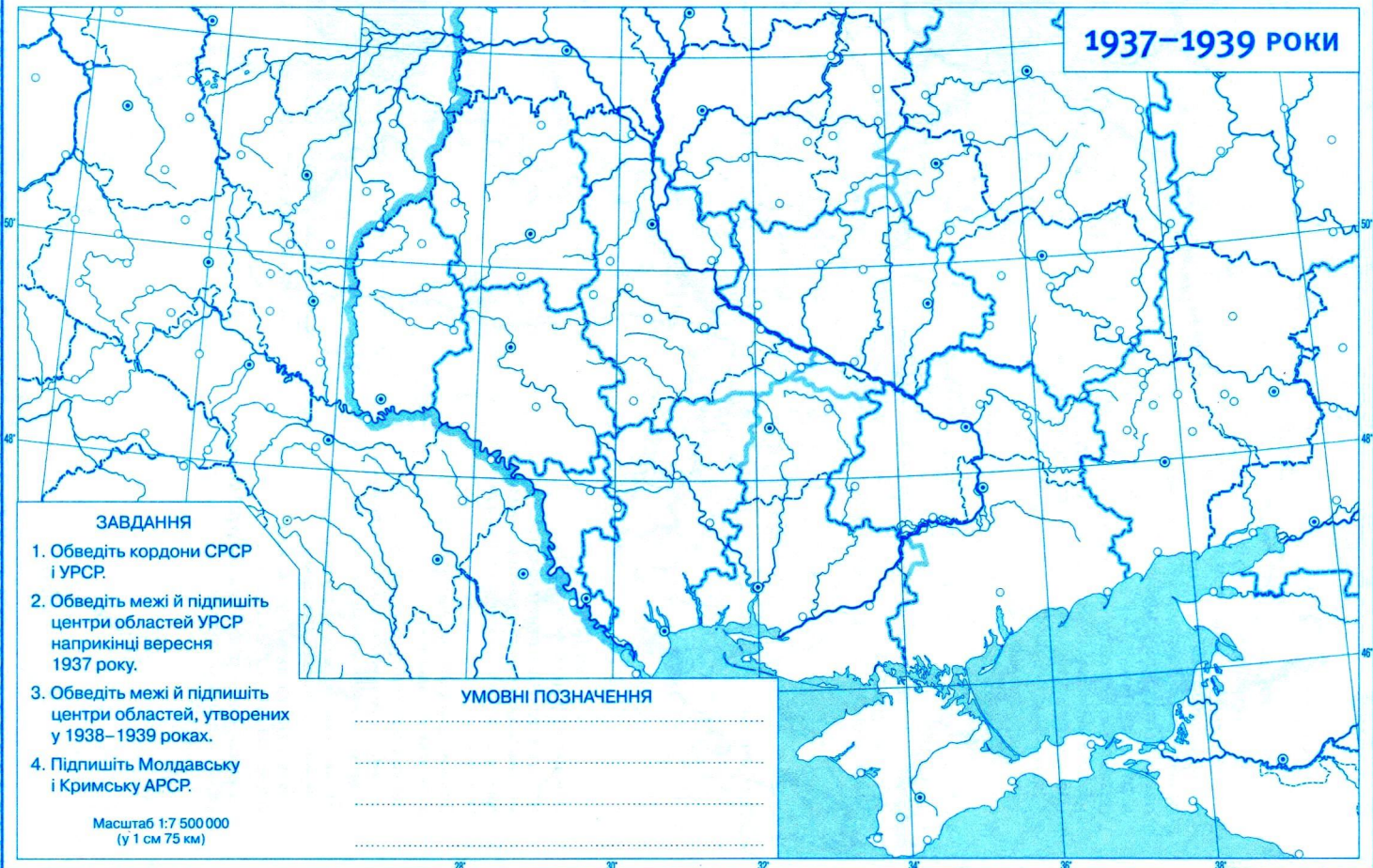
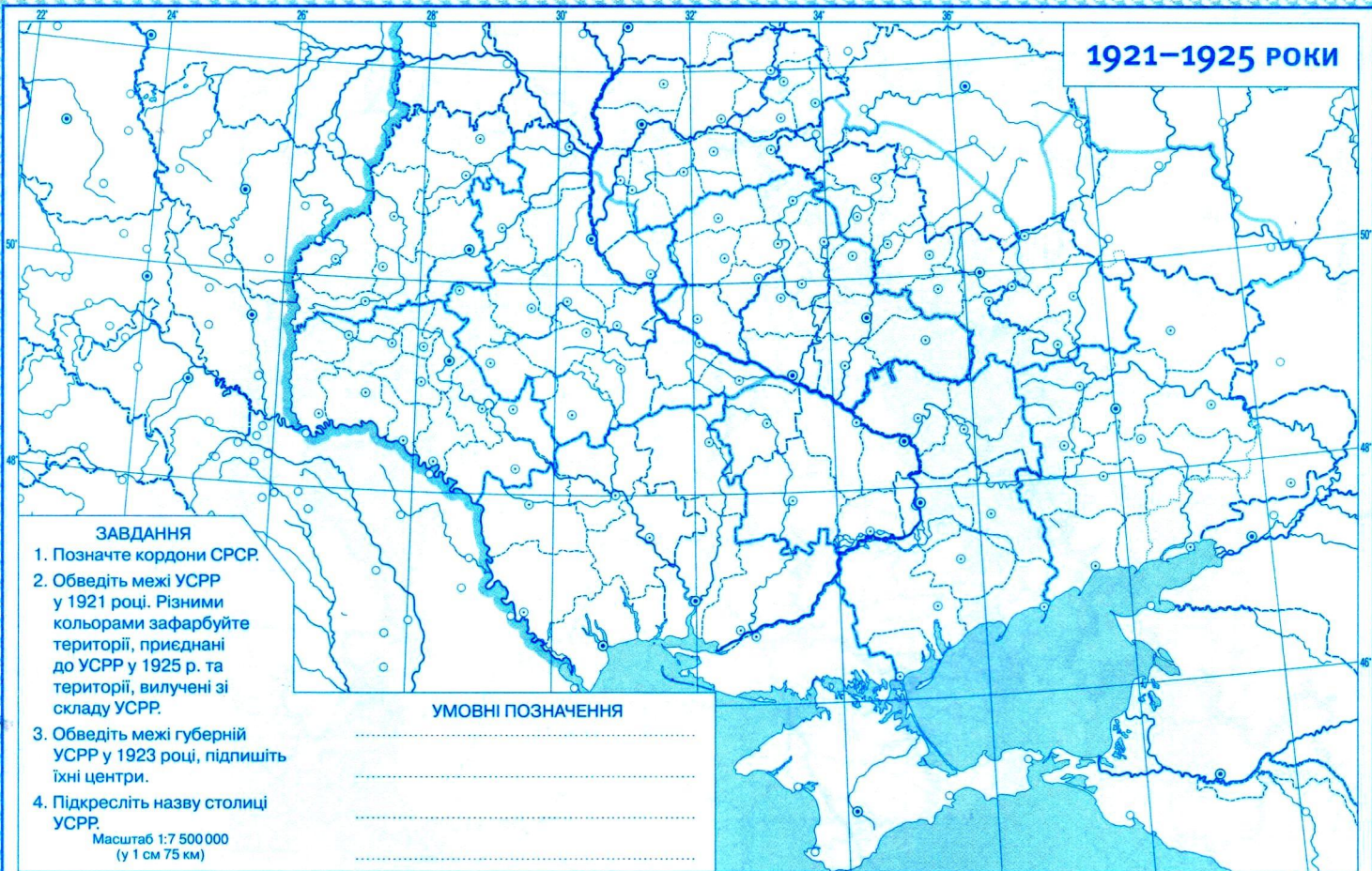
1. Обведіть лінію радянсько-польського фронту станом на 24 квітня 1920 року.
2. Накресліть стрілки польського наступу 25 квітня – 14 травня 1920 року.
3. Обведіть лінію радянсько-польського фронту 15 травня. Підпишіть місто Київ.
4. Накресліть стрілки наступу Червоної армії в травні–серпні 1920 року. Підпишіть місто Варшаву.
5. Обведіть лінію радянсько-польського фронту 15 серпня.
6. Позначте радянсько-польський кордон, встановлений Ризьким мирним договором 18 березня 1921 року.
7. Зафарбуйте територію, підконтрольну Уряду Півдня Росії в травні 1920 року.
8. Позначте «столицю» Н.Махна.
9. Підпишіть місто Севастополь, поряд укажіть дату здобуття міста більшовиками.
10. Позначте місце розстрілу полонених учасників Другого зимового походу армії УНР 23 листопада 1921 року.

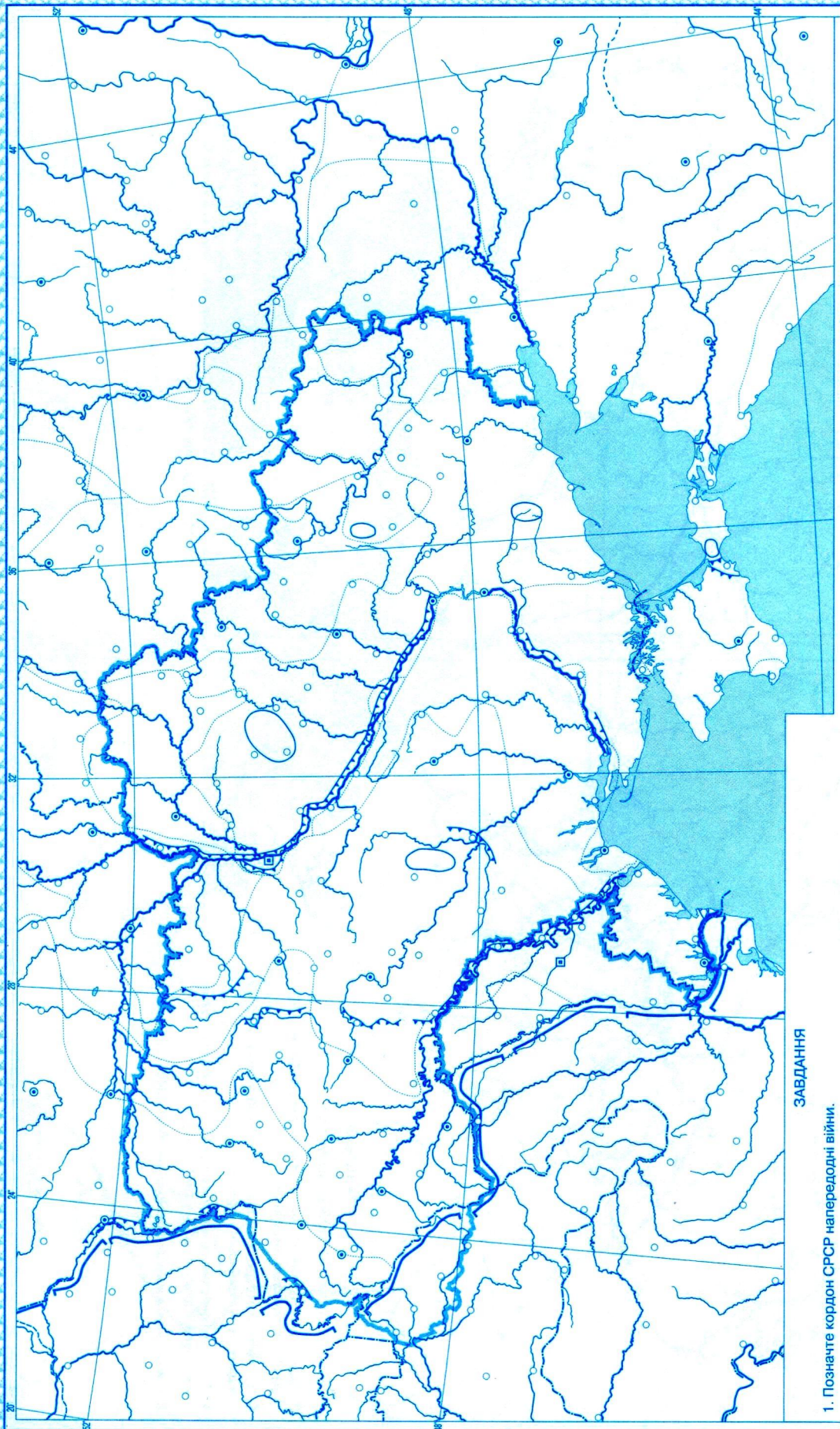
УМОВНІ ПОЗНАЧЕННЯ



ЗАВДАННЯ

1. Обведіть етнічну межу українців.
2. Позначте осередки Всеукраїнської учительської спілки. Позначте університети, засновані за часів Центральної Ради та гетьманату.
3. Біля Києва вкажіть дату заснування Української академії наук.
4. На територіях губерній вкажіть кількість державних українських гімназій, відкритих перед новим навчальним 1917 роком.
5. Позначте місто, де було відкрито перший в Україні пам'ятник Т. Шевченку.
6. Позначте місто, де від 1917 р. діяв «Молодий театр» Леся Курбаса.
7. Підкресліть назви міст – центрів української науки, освіти та мистецтва.





ЗАВДАННЯ

1. Позначте кордон СРСР напередодні війни.
2. Підлишіть фронти Червоної армії на період червень 1941 – листопад 1942 рр.
3. Проведіть лінії радянсько-німецького фронту станом на 10 вересня і 1 грудня 1941 р. Позначте межу найдавшого просування німецьких військ у листопаді 1942 р.
4. Зафарбуйте райони, де в ході Уманської та Києво-Прилуцької операцій радянські війська зазнали оточення і полону.
5. Позначте зимовий контрнаступ Червоної армії 1941 – 1942 рр.
6. Підлишіть міста: Брест, Львів, Харків, Одеса, Севастополь, Керч, Сталінград, Сталіно, Кременчук, Дніпропетровськ, Воронеж.

УМОВНІ ПОЗНАЧЕННЯ



ЗАВДАННЯ

1. Підпишіть Брянський партизанський край.
2. Підпишіть та підкресліть зеленим кольором міста, де діяли українські підпільні організації.
3. Позначте місто, де 30 червня 1941 р. був проголошений Акт відновлення Української держави.
4. Підпишіть та позначте місто, що було головним осередком діяльності «Поліської Січі» у 1941 р.
5. Покажіть штрихуванням райони дій УПА в 1943 – 1944 рр.

УМОВНІ ПОЗНАЧЕННЯ

.....

.....

.....

.....

.....

ВИГНАННЯ ВІЙСЬ ГІТЛЕРІВСЬКОЇ КОАЛІЦІ З УКРАЇНИ (ЛИСТОПАД 1942 – ЖОВТЕНЬ 1944 РОКІВ)



ЗАВДАННЯ

1. Підлишіть столицю України, центри областей та вкажіть поруч дати їхнього здобуття радянськими військами.
2. Підлишіть назви першого та останнього здобутих населених пунктів України у довоєнних межах, вкажіть дати.
3. Проведіть лінії радянсько-німецьких фронтів на середню листопада 1942 р., кінець вересня 1943 р. та на кінець грудня 1944 р.
4. Позначте рубіж, який було досягнуто німецькими військами в результаті березневого контрнаступу 1943 р.
5. Позначте Корсунь-Шевченківську, Проскурівсько-Чернівецьку та Березнегувацько-Снігурівську операції. Вкажіть в легенді їхні дати.
6. Підлишіть місто та позначте район, де у липні 1944 р. вступила в бій і була оточена 14-а дивізія польових військ СС «Галичина».
7. Зафарбуйте територію, що на початок січня 1945 р. утримувалася німецькими військами.
8. Підлишіть міста: Сталінград, Курськ, Новоросійськ, Сімферополь, Севастополь, Сандомир, Варшава.

УМОВНІ ПОЗНАЧЕННЯ

ЗМІСТ

сторінка	масштаб
Геополітичні плани держав напередодні Першої світової війни	1 : 12 000 000
1 Україна в Першій світовій війні (події 1914–1915 років)	
1914 рік	1 : 4 500 000
1915 рік	1 : 4 500 000
2 Україна в Першій світовій війні (події 1916–1917 років)	
1916 рік	1 : 4 500 000
1917 рік	1 : 4 500 000
3 Початок Української революції (події березня – листопада 1917 року).....	1 : 6 000 000
4 Українська Народна Республіка (події листопада 1917 – лютого 1918 років). Перша війна більшовицької Росії проти УНР.....	1 : 6 000 000
5 Українська Держава (події квітня – грудня 1918 року).....	1 : 6 000 000
6 Західноукраїнські землі в 1918–1920 роках. Польсько-українська війна	1 : 2 200 000
7 Доба Директорії (січень – грудень 1919 року). Наступ білогвардійських військ	1 : 6 000 000

сторінка	масштаб
8 Війна українсько-польських військ проти більшовиків. Поразка збройних сил Півдня Росії (квітень 1920 – березень 1921 років).....	1 : 6 000 000
9 Культура і духовне життя в Україні в 1917–1921 роках	1 : 6 000 000
10 Адміністративно-територіальний устрій України в 1920–1930-х роках	
1921–1925 роки.....	1 : 7 500 000
1937–1939 роки.....	1 : 7 500 000
11 Україна в 1921–1928 роках	1 : 6 000 000
12 Україна в 1929–1939 роках	1 : 6 000 000
13 Західноукраїнські землі в міжвоєнний період.....	1 : 3 500 000
14 Україна на початку Другої світової війни (1939–1940 роки). Радянська окупація Західної України.....	1 : 5 000 000
15 Початок німецько-радянської війни (червень 1941 – листопад 1942 років)	1 : 7 500 000
16 Рухи Опору в 1941–1945 роках	1 : 6 000 000
Вигнання військ гітлерівської коаліції з України (листопад 1942 – жовтень 1944 років).....	1 : 7 500 000

КАРТОГРАФІЯ



Навчальні атласи, стінні та контурні карти з історії в магазинах «Атласи та карти»
Київ, вул. Попудренка, 54. Тел. (044) 292-31-24, 292-02-15, 537-04-77
Київ, Велика Васильківська вул., 69. Тел. (044) 537-06-18

Рекомендовано Міністерством освіти і науки України
(лист № 1/11-7318 від 13.07.2018)

Контурні карти відповідають санітарному законодавству України
(висновок №12.2-18-1/3623 від 27.02.2020)

ДЕРЖАВНА СЛУЖБА УКРАЇНИ З ПИТАНЬ ГЕОДЕЗІЇ, КАРТОГРАФІЇ ТА КАДАСТРУ
ДЕРЖАВНЕ НАУКОВО-ВИРОБНИЧЕ ПІДПРИЄМСТВО «КАРТОГРАФІЯ»

вул. Попудренка, 54, м. Київ-94, 02094
Свідоцтво суб'єкта видавничої справи
ДК № 398 від 03.04.2001

Редактор Д. В. Ісаєв
Технічний редактор С. М. Полторако

Формат паперу 62x93/8 Друк офсетний
Папір офс. 80г/м² Ум. друк. арк. 2,7
Зам. № 04366

Видруковано ТОВ «Новий друк»,
вул. Магнітогорська, 1, м. Київ-94, 02660
Свідоцтво суб'єкта видавничої справи
ДК №1447 від 28.07.2003

©ДНВП «Картографія», 2013 – 2020

ISBN 978-966-946-280-0



9 789669 462800 >