

Ірина Жаркова

# Я ДОСЛІДЖУЮ СВІТ

## ДІАГНОСТИЧНІ РОБОТИ

4  
КЛАС



---


---

---

---

---

---



До підручника  
І. Грущинської та ін.  
«Я досліджую світ. 4 кл.»  
за програмою О. Савченко

Схвалено для використання  
в освітньому процесі

Видавництво



«Підручники  
і посібники»



## ЯК БУТИ ЛЮДИНОЮ

## 1. Познач правильну відповідь.

1. Правильно визначає свої здібності, якості та можливості людина з ...
  - А завищеною самооцінкою
  - Б заниженою самооцінкою
  - В адекватною самооцінкою
2. Ознакою фейку є ...
  - А вказування джерела інформації
  - Б анонімність експертів
  - В достовірність фото та відеоматеріалів
3. Безпечна ситуація — це ...
  - А ситуація, коли людина веде малорухливий спосіб життя
  - Б обставини, що загрожують життю та здоров'ю людини
  - В обставини, коли ніхто й ніщо не загрожує життю і здоров'ю людини

## 2. Познач знаком «+» ознаки людини із заниженою самооцінкою.

- Невпевненість у власних силах.
- Боязнь приймати власні рішення.
- Агресивність, схильність до тиску й погроз.
- Пригнічений настрій, сумний вираз обличчя.
- Здатність гідно відповідати за свої вчинки.
- Невміння налагоджувати дружні стосунки.

**3. Підкресли правильні твердження.**

*Щоб сформувати здоровий спосіб життя, потрібно:*

- вживати багато солодощів;
- дотримуватися розпорядку дня;
- уникати або позбуватися шкідливих звичок;
- регулярно виконувати фізичні вправи;
- весь свій вільний час грати в комп'ютерні ігри.

**4. Запиши, які якості притаманні людині із сильною волею.**

---

---

---

**5. Запиши відповідь на запитання.**

Яких правил слід дотримувати, щоб навчитися сприймати світ позитивно? \_\_\_\_\_

---

---

---

---

---

---

## ЯК БУТИ ЛЮДИНОЮ

## 1. Познач правильну відповідь.

1. Новина, у якій подано неправдиву або спотворену інформацію, — це ...  
**А** факт      **Б** фейк      **В** подія
2. Ставить перед собою посильні завдання, здатна гідно відповідати за свої вчинки людина з ...  
**А** завищеною самооцінкою  
**Б** заниженою самооцінкою  
**В** адекватною самооцінкою
3. небезпечна ситуація — це ...  
**А** обставини, коли ніхто й ніщо не загрожує життю і здоров'ю людини  
**Б** обставини, що загрожують життю і здоров'ю людини, викликають порушення нормальних умов життя  
**В** явища, процеси, об'єкти, здатні за певних умов завдати шкоди здоров'ю чи життю людини

## 2. Познач знаком «+» ознаки людини із завищеною самооцінкою.

- Неприйняття критики на свою адресу.
- Упевненість у правильності своєї думки.
- Постійне дорікання собі.
- Зверхнє ставлення до інших людей.
- Визнання своїх помилок.
- Приниження інших людей.

**3. Підкресли правильні твердження.**

*Щоб сформувати здоровий спосіб життя, потрібно:*

- чергувати працю з відпочинком;
- постійно проявляти негативні емоції;
- виробляти корисні звички;
- вести малорухливий спосіб життя;
- раціонально й повноцінно харчуватися.

**4. Запиши, які якості притаманні людині зі слабкою волею.**

---

---

---

**5. Запиши відповідь на запитання.**

Яких правил слід дотримувати, щоб розпізнати фейкові новини?

---

---

---

---

---

---

---

---

## ЛЮДИНА І ВСЕСВІТ

## 1. Познач правильну відповідь.

1. Мале космічне тіло, яке рухається навколо Сонця по дуже витягнутій орбіті, — це ...  
**А** планета  
**Б** метеорит  
**В** комета
2. Проміжок часу, за який Земля робить повний оберт навколо Сонця, називають ...  
**А** місяцем      **Б** роком      **В** добою
3. Біля Північного полюса Землі розташований ...  
**А** помірний тепловий пояс  
**Б** полярний тепловий пояс  
**В** тропічний тепловий пояс

## 2. З'єднай лініями.

Мала Ведмедиця

Меркурій

Сонце

Місяць

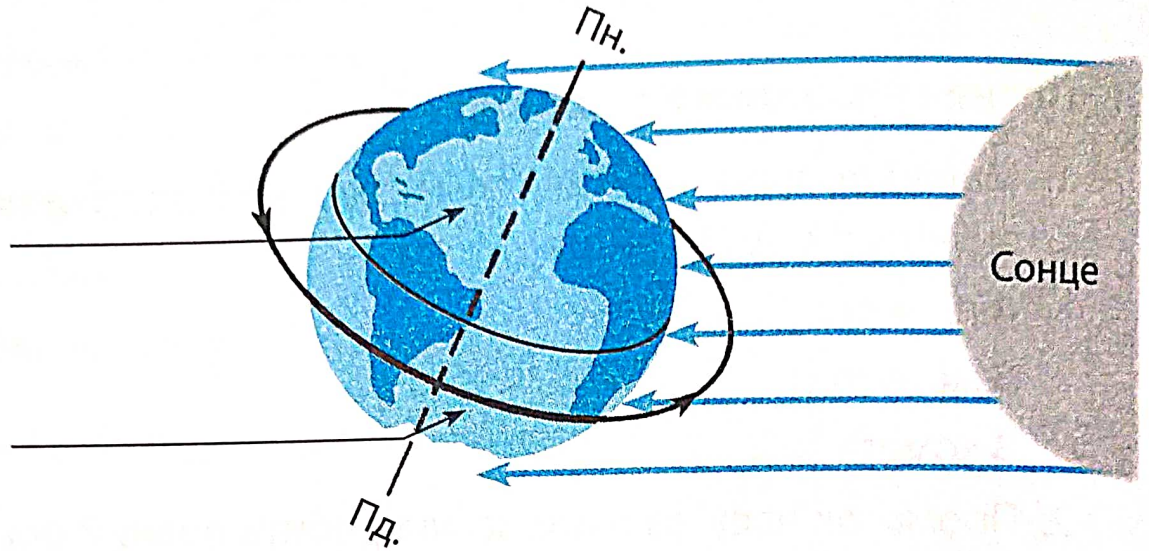
зоря

сузір'я

супутник

планета

3. Визнач за малюнком, які пори року в Північній та Південній півкулях. Підпиши.



4. Запиши назви планет-гігантів.

---

---

5. Запиши відповідь на запитання.

Чому на Землі відбувається зміна дня і ночі?

---

---

---

---

---

---

## ЛЮДИНА І ВСЕСВІТ

## 1. Познач правильну відповідь.

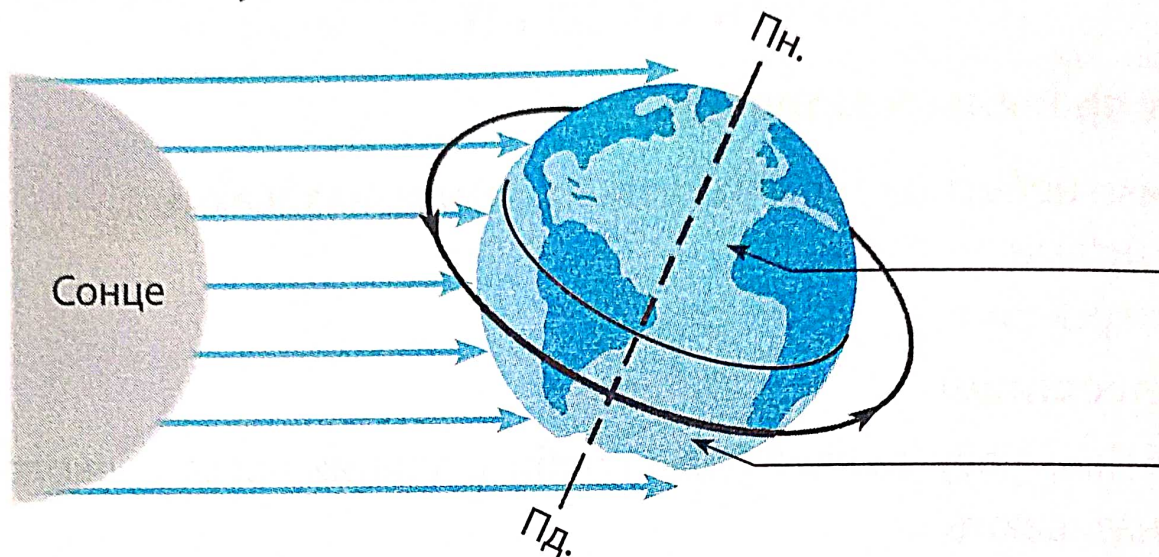
1. Уламки небесних тіл, які впали на Землю, називають ...  
**А** сузір'ями  
**Б** астероїдами  
**В** метеоритами
2. Проміжок часу, за який Земля робить повний оберт навколо осі, називають ...  
**А** роком  
**Б** добою  
**В** днем
3. Уздовж екватора, де найтепліше, пролягає ...  
**А** екваторіальний тепловий пояс  
**Б** помірний тепловий пояс  
**В** тропічний тепловий пояс

## 2. З'єднай лініями.

Сатурн	•	•	галактика
Сонце	•	•	планета
Місяць	•	•	зоря
Чумацький Шлях	•	•	супутник



3. Визнач за малюнком, які пори року в Північній та Південній півкулях. Підпиши.



4. Запиши назви планет земної групи.

---

---

5. Запиши відповідь на запитання.

Чому на Землі відбувається зміна пір року?

---

---

---

---

---

---

---


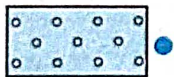

---

## ЛЮДИНА І ПЛАНЕТА ЗЕМЛЯ

## 1. Познач правильну відповідь.

1. Якщо опівдні стати спиною до Сонця, то праворуч буде ...  
**А** схід      **Б** захід      **В** південь
2. Зображення невеликої ділянки земної поверхні у зменшеному вигляді — це ...  
**А** глобус  
**Б** географічна карта  
**В** план місцевості
3. Лінії на карті, які з'єднують Північний та Південний полюси і вказують напрямом «північ — південь», називають ...  
**А** меридіанами  
**Б** паралелями  
**В** полюсами

## 2. З'єднай лініями умовні позначення на плані місцевості з їхніми назвами.



**3. Підкресли назви закритої місцевості, де не видно лінію горизонту.**

Горбиста місцевість, степ, поле, місто, море, ліс, лука, село, гори.

**4. Користуючись фізичною картою України, визнач відстань від Полтави до Харкова.**

Відстань між містами на карті \_\_\_\_\_

Масштаб \_\_\_\_\_

Реальна відстань \_\_\_\_\_

**5. Запиши відповідь на запитання.**

Для чого потрібно вміти «читати» географічну карту?

---

---

---

---

---

---

---

---

---

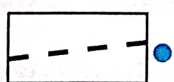
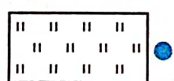

---

## ЛЮДИНА І ПЛАНЕТА ЗЕМЛЯ

## 1. Познач правильну відповідь.

1. Якщо опівдні стати спиною до Сонця, то позаду буде ...  
**А** південь    **Б** схід    **В** північ
2. Лінії на карті, які розташовуються з обох боків від екватора і вказують напрямок «захід — схід», називають ...  
**А** паралелями  
**Б** полюсами  
**В** меридіанами
3. Зменшене й узагальнене зображення земної поверхні або її частини, де об'єкти показані за допомогою умовних знаків, — це ...  
**А** глобус    **Б** малюнок    **В** географічна карта

## 2. З'єднай лініями умовні позначення на плані місцевості з їхніми назвами.



• мішаний ліс

• будівлі

• шосе

• стежка

• луки

**3. Підкресли назви відкритої місцевості, де добре видно лінію горизонту.**

Поле, місто, гори, степ, море, ліс, лука, село, горбиста місцевість.

**4. Користуючись фізичною картою України, визнач відстань від Житомира до Києва.**

Відстань між містами на карті \_\_\_\_\_

Масштаб \_\_\_\_\_

Реальна відстань \_\_\_\_\_

**5. Запиши відповідь на запитання.**

Для чого потрібно вміти «читати» план місцевості?

---

---

---

---

---

---

---

---

---

---

**ЛЮДИНА І ПЛАНЕТА ЗЕМЛЯ (ОКЕАНИ Й МАТЕРИКИ)****1. Познач правильну відповідь.**

1. Найспекотнішим материком на Землі є ...

**A** Африка

**B** Австралія

**B** Євразія

2. Найбільшим і найглибшим океаном на Землі є ...

**A** Тихий

**B** Північний Льодовитий

**B** Атлантичний

3. Пінгвіни, поморники, буревісники, морські слони живуть у ...

**A** Південній Америці

**B** Антарктиді

**B** Африці

**2. Підкресли назви рослин, які ростуть в Австралії.**

Евкалипт, ялина, пляшкове дерево, срібляста акація, кавове дерево, верба, клен, ананас, фікус, деревоподібна папороть, папая, бамбук, кульбаба, ліана, лишайник.

**3. З'єднай лініями назви материків з їхніми характеристиками.**

Австралія •

Північна Америка •

Африка •

• Тут є савани, де живуть зебри, жирафи, леви, носороги

• Тут живуть коали, кенгуру, качкодзьоби, єхидни, вомбати

• Тут є арктичні пустелі, тундра, тайга, мішані і широколисті ліси, степи (прерії), пустелі

**4. Користуючись фізичною картою півкуль, запиши, які океани омивають береги Євразії.**

---

---

---

**5. Запиши відповідь на запитання.**

У якому океані на Землі найбагатший рослинний і тваринний світ? Чому? \_\_\_\_\_

---

---

---

**ЛЮДИНА І ПЛАНЕТА ЗЕМЛЯ (ОКЕАНИ Й МАТЕРИКИ)****1. Познач правильну відповідь.**

1. Найхолоднішим материком на Землі є ...

**А** Південна Америка

**Б** Африка

**В** Антарктида

2. Кашалот, смугастий кит, морський котик, баракуда живуть у ...

**А** Північному Льодовитому океані

**Б** Індійському океані

**В** Тихому океані

3. Найменшим і наймілкішим океаном на Землі є ...

**А** Індійський

**Б** Північний Льодовитий

**В** Атлантичний

**2. Підкресли назви рослин, які ростуть в Північній Америці.**

Фінікова пальма, цукровий клен, баобаб, динне дерево, секвоя, евкالیпт, чорний горіх, кавове дерево, тюльпанове дерево, какао, фікус, ломикамінь, карликова береза, підсніжник, ліана.



**3. З'єднай лініями назви материків з їхніми характеристиками.**

Антарктида

Південна  
Америка

Євразія

Тут у вологих екваторіальних лісах живуть лінивці, ягуари, капібари, колібрі

Тут є тундра, тайга, мішані й широколистяні ліси, степи, пустелі, вологі тропічні ліси

Тут завжди холодно й живуть пінгвіни

**4. Користуючись фізичною картою півкуль, запиши, береги яких материків омиває Індійський океан.**

---

---

---

**5. Запиши відповідь на запитання.**

У якому океані на Землі найбільш розвинений рослинний і тваринний світ? Чому?

---

---

---

## ЛЮДИНА Й ІСТОРІЯ

## 1. Познач правильну відповідь.

- Папірус — матеріал для письма, який виготовляли з водних рослин, винайшли в ...  
А Давній Греції    Б Давньому Китаї    В Давньому Єгипті
- «Батьком історії» називають давньогрецького вченого ...  
А Гіппократа    Б Геродота    В Аристотеля
- Алфавіт слов'янських мов, зокрема й української, був створений ...  
А Ярославом Мудрим  
Б Кирилом і Мефодієм  
В Володимиром Великим

## 2. З'єднай лініями.

Джеймс  
Кук

Фернан  
Магеллан

Жак-Ів  
Кусто

Під його керівництвом  
відбулася перша  
навколосвітня експедиція

Сконструював безпечний  
акваланг, який заповнювали  
рідким повітрям

Уперше в історії перетнув  
Південне полярне коло

**3. Допиши речення.**

Видатними князями Київської Русі й Галицько-Волинської держави були: \_\_\_\_\_

\_\_\_\_\_

\_\_\_\_\_

**4. Заповни таблицю.**

Назва стародавньої цивілізації	<i>Стародавній Китай</i>
Пам'ятки історії та культури	_____ _____ _____
Винаходи	_____ _____ _____

**5. Запиши відповідь на запитання.**

Якими питаннями опікується ЮНЕСКО? \_\_\_\_\_

\_\_\_\_\_

\_\_\_\_\_

## ЛЮДИНА Й ІСТОРІЯ

## 1. Познач правильну відповідь.

1. Батьківщиною олімпійських ігор є ...  
А Стародавній Китай  
Б Стародавній Греція  
В Стародавній Рим
2. «Батьком медицини» називають давньогрецького вченого ...  
А Геродота    Б Гіппократа    В Піфагора
3. Перші монастирі, собори, школи, бібліотеки були засновані в Київській Русі за часів ...  
А княгині Ольги  
Б князя Володимира Великого  
В князя Ярослава Мудрого

## 2. З'єднай лініями.

Христофор  
Колумб

Васко да  
Гамма

Огюст Піккар

Відкрив морський шлях до  
Індії довкола Африки

Сконструював батискаф, на  
якому зміг спуститися  
в Маріанську западину

Першовідкривач Південної  
Америци

### 3. Допиши речення.

Видатними гетьманами Української козацької держави були:

---

---

---

### 4. Заповни таблицю.

Назва стародавньої цивілізації	Стародавній Єгипет
Пам'ятки історії та культури	<hr/> <hr/> <hr/>
Винаходи	<hr/> <hr/> <hr/>

### 5. Запиши відповідь на запитання.

Якими питаннями опікується Всесвітня організація охорони здоров'я (ВООЗ)?

---

---

---

## ЛЮДИНА І ПРИРОДА УКРАЇНИ

## 1. Познач правильну відповідь.

- Природний потік води, що тече у виробленому ним річищі й живиться переважно дощовою, талою і підземними водами, називають ...  
**А** річкою      **Б** морем      **В** озером
- Місце, де річка бере початок, називають ...  
**А** притокою      **Б** річищем      **В** виток
- До нерудних корисних копалин належать ...  
**А** залізна і титанова руди  
**Б** вапняк і крейда  
**В** нафта і природний газ

## 2. З'єднай лініями.

Низовини

- Висота поверхні від 200 до 500 м
- Висота поверхні до 200 м
- Причорноморська, Поліська
- Подільська, Приазовська
- На карті позначають жовтим кольором
- На карті позначають зеленим кольором

Височини

**3. Підкресли назви штучних водойм.**

Озеро, водосховище, море, струмок, канал, річка, ставок, джерело.

**4. Заповни таблицю.**

<i>Назви великих річок в Україні</i>	<i>Назви морів, які омивають береги України</i>

**5. Запиши відповіді на запитання.**

Які корисні копалини називають паливними (горючими)?

\_\_\_\_\_

\_\_\_\_\_

Які паливні корисні копалини видобувають в Україні? \_\_\_\_\_

\_\_\_\_\_

\_\_\_\_\_

Як їх використовують? \_\_\_\_\_

\_\_\_\_\_

\_\_\_\_\_

## ЛЮДИНА І ПРИРОДА УКРАЇНИ

## 1. Познач правильну відповідь.

- До паливних (горючих) корисних копалин належать ...  
**А** граніт і глина  
**Б** торф і кам'яне вугілля  
**В** залізна руда і марганець
- Найнижчу ділянку річки, якою тече водний потік, називають ...  
**А** виток **Б** річищем **В** притокою
- Природну водойму в заглибленні земної поверхні, у якій немає течії, називають ...  
**А** водосховищем **Б** джерелом **В** озером

## 2. З'єднай лініями.

Чорне море	•	Невелике й мілке	•	Азовське море
	•	Велике й глибоке	•	
	•	Глибина сягає до 2000 м	•	
	•	Максимальна глибина 14 м	•	
	•	Найвіддаленіше від океану	•	
	•	Життя існує лише в поверхневому шарі	•	



**3. Підкресли назви природних водойм.**

Ставок, озеро, море, річка, водосховище, канал, джерело, струмок.

**4. Заповни таблицю.**

<i>Назви гір, що розташовані в Україні</i>	<i>Назви низовин, що розташовані в Україні</i>

**5. Запиши відповіді на запитання.**

Які корисні копалини називають рудними? \_\_\_\_\_

\_\_\_\_\_

Які рудні корисні копалини видобувають в Україні? \_\_\_\_\_

\_\_\_\_\_

Як їх використовують? \_\_\_\_\_

\_\_\_\_\_

## ЛЮДИНА І ПРИРОДА УКРАЇНИ (ПРИРОДНІ ЗОНИ УКРАЇНИ)

## 1. Познач правильну відповідь.

1. Зона мішаних лісів розташована на ...  
А півночі України  
Б заході України  
В півдні України
2. Вапняк, гіпс, крейду, природний газ видобувають у зоні ...  
А мішаних лісів      Б лісостепу      В степу
3. За висотою Кримські гори — це ...  
А високі гори  
Б низькі гори  
В середньовисокі гори

## 2. З'єднай лініями назви природних зон із назвами рослин, які там вирощують.

Степ

Лісостеп

Мішані ліси

Цукровий буряк, гречка,  
ячмінь, горох, сояПерсик, виноград, соняшник,  
диняЛьон, хміль, картопля, просо,  
овес

**3. Заповни таблицю.**

<i>Рослини Карпат</i>	<i>Тварини Карпат</i>

**4. Допиши речення.**

Земельні ресурси — це \_\_\_\_\_  
\_\_\_\_\_  
\_\_\_\_\_

**5. Охарактеризуй природну зону степу за поданим планом.**

У якій частині України розташована? \_\_\_\_\_  
\_\_\_\_\_

Які форми земної поверхні переважають? \_\_\_\_\_  
\_\_\_\_\_

Яке літо? \_\_\_\_\_

Яка зима? \_\_\_\_\_

Яка кількість опадів? \_\_\_\_\_

## ЛЮДИНА І ПРИРОДА УКРАЇНИ (ПРИРОДНІ ЗОНИ УКРАЇНИ)

## 1. Познач правильну відповідь.

1. Зона степів розташована на ...  
А заході України  
Б півдні України  
В півночі України
2. Льон, картоплю, просо, цукрові буряки вирощують у зоні ...  
А лісостепу    Б мішаних лісів    В степу
3. За висотою Українські Карпати — це ...  
А високі гори  
Б середньовисокі гори  
В низькі гори

## 2. З'єднай лініями назви природних зон із назвами корисних копалин, які там видобувають.

Лісостеп

Мішані ліси

Степ

Граніт, торф, бурштин

Природний газ, вапняк,  
крейда, гіпсЗалізна руда, кам'яне вугілля,  
кам'яна сіль

**3. Заповни таблицю.**

<i>Рослини Кримських гір</i>	<i>Тварини Кримських гір</i>

**4. Допиши речення.**

Мінеральні ресурси — це \_\_\_\_\_

\_\_\_\_\_

\_\_\_\_\_

**5. Охарактеризуй природну зону мішаних лісів за планом.**

У якій частині України розташована? \_\_\_\_\_

Які форми земної поверхні переважають? \_\_\_\_\_

Яке літо? \_\_\_\_\_

Яка зима? \_\_\_\_\_

Яка кількість опадів? \_\_\_\_\_

## ЛЮДИНА І МАЙБУТНЄ

## 1. Познач правильну відповідь.

1. Короткотривалі, раптові струси земної кори, викликані різними переміщеннями гірських порід у надрах Землі, — це ...  
**А** смерч    **Б** землетрус    **В** виверження вулкана
2. До рукотворних екологічних лих належать ...  
**А** аварії на промислових підприємствах  
**Б** урагани  
**В** епідемії
3. Природне явище, що відбувається в атмосфері Землі, коли сонячні промені затримують вуглекислий та інші газів, називають ...  
**А** парниковим ефектом  
**Б** глобальним потеплінням  
**В** спустелюванням

## 2. Познач знаком «+», яких заходів вживає людство для збереження довкілля.

- Висаджування дерев і кущів.
- Надмірне полювання на диких тварин.
- Створення національних парків і заповідників.
- Випалювання лісів та степів.
- Переробка скла і пластику на сировину для повторного використання.

### 3. Підкресли правильні твердження.

*Щоб стати природі другом, потрібно:*

- залишати увімкненим освітлення, коли виходиш із приміщення;
- висаджувати рослини і доглядати за ними;
- ощадливо використовувати питну воду;
- відмовитися від використання одноразового пластикового посуду;
- сортувати відходи паперу, пластику, скла і металів.

### 4. Допиши речення.

До Червоного списку МСОП та Червоної книги України занесено такі рослини: \_\_\_\_\_

---

---

---

### 5. Запиши відповідь на запитання.

Яке природоохоронне значення мають ліси? \_\_\_\_\_

---

---

---

---

## ЛЮДИНА І МАЙБУТНЄ

## 1. Познач правильну відповідь.

1. Природне явище, з глибин Землі під час якого на поверхню відбувається викидання розпеченої магми, попелу, уламків гірських порід, — це ...

**А** землетрус    **Б** ураган    **В** виверження вулкана

2. До природних екологічних лих належать ...

**А** паводки

**Б** розливи нафти

**В** аварії на промислових підприємствах

3. Поступове наростаюче підвищення температури поверхні Землі та океану називають ...

**А** парниковим ефектом

**Б** глобальним потеплінням

**В** спустелюванням

## 2. Познач знаком «+», яких заходів вживає людство для збереження довкілля.

Роздільне збирання побутового сміття.

Надмірне видобування корисних копалин.

Вирубубання лісів.

Використання енергозберігальних лампочок.

Відмова від використання одноразового пластикового посуду.



### 3. Підкресли правильні твердження.

Щоб стати природі другом, потрібно:

- дбати про чистоту довкілля;
- відмовитися від використання одноразових поліетиленових пакетів;
- митися, приймаючи ванну;
- залишати прилади увімкненими в мережу живлення;
- компостувати харчові відходи.

### 4. Допиши речення.

До Червоного списку МСОП та Червоної книги України занесено таких тварини: \_\_\_\_\_

\_\_\_\_\_

\_\_\_\_\_

### 5. Запиши відповідь на запитання.

Які види людської діяльності призводять до розширення територій пустель? \_\_\_\_\_

\_\_\_\_\_

\_\_\_\_\_

\_\_\_\_\_

\_\_\_\_\_

УДК 371.261  
Ж35

Редагування і верстання: *Зоряна Грибчук*  
Літературне редагування: *Любов Левчук*  
Дизайн обкладинки: *Віталій Нехай*

*Схвалено для використання в освітньому процесі  
[рішення експертної комісії з педагогіки та методики початкової освіти  
від 21 вересня 2021 року (протокол № 7)],  
№ 2.0324-2021 у Каталозі надання грифів навчальній літературі та навчальним програмам*

**Жаркова І.**

Ж35 Я досліджую світ : діагностичні роботи. 4 клас (до підруч. : І. Грущинська, З. Хитра, І. Дробязко) / Жаркова І. — Тернопіль : Підручники і посібники, 2022. — 32 с.

ISBN 978-966-07-3928-4

Посібник містить завдання для підсумкового тематичного оцінювання навчальних досягнень учнів із предмета «Я досліджую світ» у 4 класі. Воно здійснюється письмово у формі комбінованої діагностичної роботи наприкінці вивчення кожного розділу програми. Тексти завдань складено відповідно до Типової освітньої програми за редакцією О. Савченко та підручника *Я досліджую світ : підруч. для 4-го кл. закл. заг. серед. освіти (у 2 ч.) / Ірина Грущинська, Зоя Хитра, Ірина Дробязко. — Київ : Орion, 2021.* Завдання подано у двох варіантах.

Для учнів 4 класу, учителів початкової школи і батьків.

УДК 371.261

Навчальне видання  
**Жаркова Ірина Іванівна**

**Я досліджую світ**  
Діагностичні роботи  
4 клас

Формат 70x84/16. 2,18 ум. др. арк., 0,88 обл.-вид. арк. Тираж 3000. Замовлення №21-694.

Видавець, виготовлювач і розповсюджувач видавничої продукції  
Редакція газети «Підручники і посібники».  
46000, м. Тернопіль, вул. Поліська, 6а. Тел.: (0352) 43-15-15; 43-10-21.  
Збут: pip.ternopil@ukr.net Редакція: editoria@i.ua  
www.pp-books.com.ua

Свідоцтво про внесення суб'єкта видавничої справи до Державного реєстру видавців, виготовлювачів і розповсюджувачів видавничої продукції серія ДК № 5143 від 05.07.2016 р.  
Книга-поштою: а/с 376, Тернопіль, 46011.  
Тел.: 096-948-09-27; 097-503-53-76  
pip.bookpost@gmail.com

ISBN 978-966-07-3928-4

© Жаркова І., 2022