

Рекомендовано МОН

ІСТОРИЯ

9
КЛАС

КОНТУРНІ КАРТИ

Історія України



КАРТОГРАФІА

ukrmap.com.ua
kartographia.com.ua



ЗАВДАННЯ

1. Позначте червоним кольором державні кордони, підпишіть назви держав.
2. Обведіть межі губерній і земель Російської імперії, королівств і коронних країв Австрійської монархії Габсбургів, утворених на українських землях станом на 1802 р.
3. Підпишіть центри і назви вищезазначених адміністративних одиниць.
4. Позначте і підпишіть центри повітів Слобідсько-Української губернії, які від 1802 р. перейшли до Воронежської губернії.
5. Зафарбуйте територію повіта, де розташований ваш рідний населений пункт.

УМОВНІ ПОЗНАЧЕННЯ

Масштаб 1:6 000 000
(1 см 60 км)

ЗАВДАННЯ

1. Обведіть державні кордони напередодні війни 1806–1812 рр. Надайте назви новим державам.
2. Позначте штрихуванням території, приєднані до Російської імперії за Буварестським мирним договором 1812 р.
3. Позначте населені пункти: Київ, Варшава, Львів, Луцьк, Кабарди, Гродно, Вільно, Мінськ, Влодзім, Смоленськ, Бєрестіно, Москва, Мемель, Сібієво.
4. Накресліть стрілками наступу французьких військ у червні–вересні 1812 р.
5. Накресліть «Кордонний шпиг» — оборонну лінію, яку захищали частини українського ополчення.
6. Накресліть стрілками наступу російських військ у жовтні–грудні 1812 р.
7. Накресліть стрілки бойових дій українськими військами.
8. На карті-вставці зафарбуйте території, на яким Наполеон планував відселення української державності у вигляді Наполеонід під протекторатом Франції.

УМОВНІ ПОЗНАЧЕННЯ

Масштаб 1:7 000 000
(1 см 70 км)

УКРАЇНСЬКІ ЗЕМЛІ В ПЛАНІ НАПОЛЕОНА БОНАПАРТА

Масштаб 1:2 000 000
(1 см 20 км)

УМОВНІ ПОЗНАЧЕННЯ



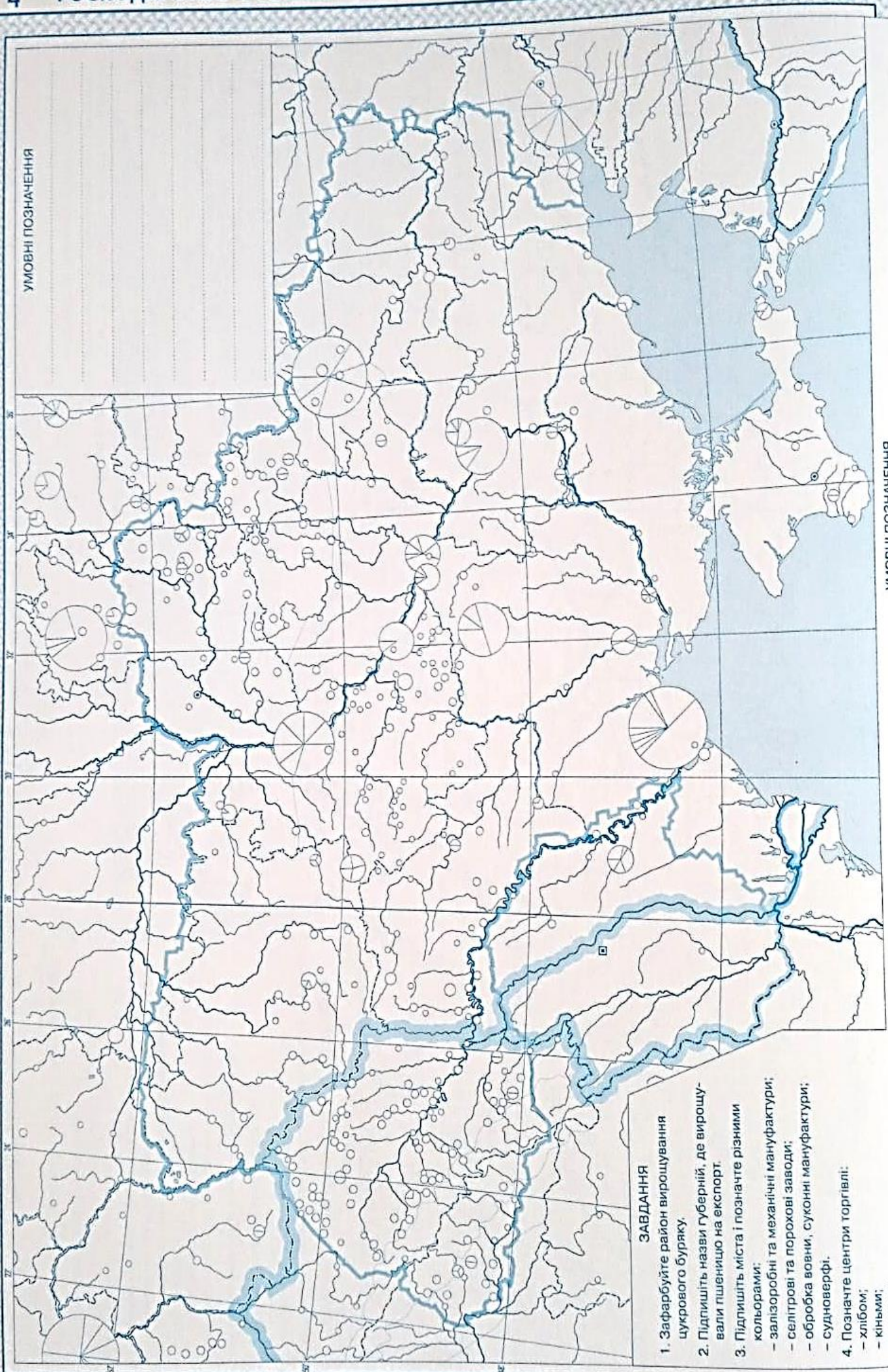
УМОВНІ ПОЗНАЧЕННЯ

УМОВНІ ПОЗНАЧЕННЯ

ЗАВДАННЯ

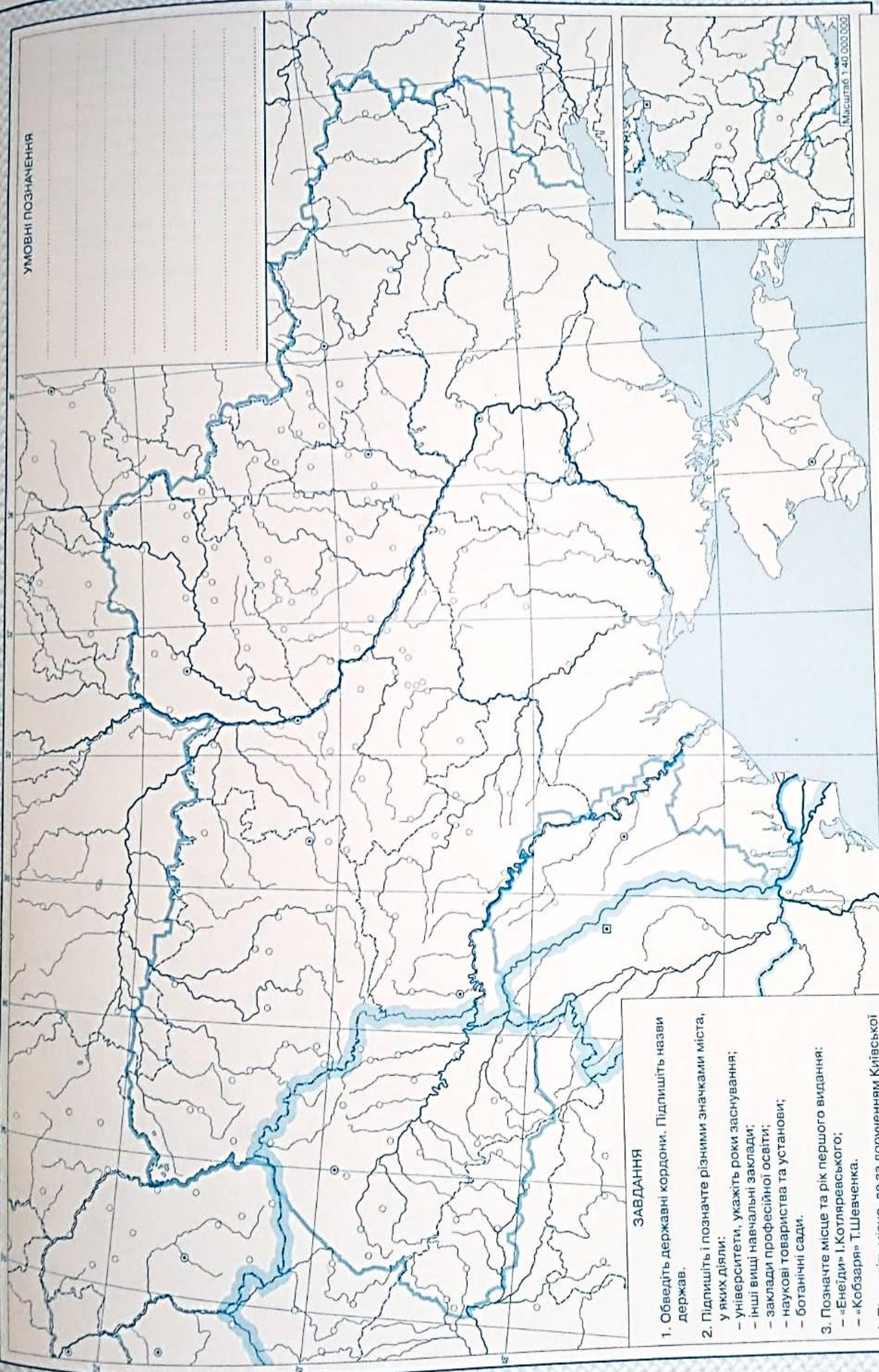
1. Позначте державні кордони, підлишіть назви держав.
2. Позначте міста, у яких діяли (з роками існування):
 - Малоросійське таємне товариство;
 - «Руська трійця»;
 - Кирило-Мефодіївське товариство
3. Позначте міста діяльності масонських лож.
4. Позначте різними кольорами території, охоплені антиріпосницькими рухами:
 - рух опришків;
 - селянські виступи під проводом Устима Кармалюка;
 - райони киявської козащини;
 - район поширення руху «Похід у Таврію за волею».
5. Позначте міста діяльності:
 - Директорії Південного товариства декабристів;
 - Польського патріотичного товариства.
6. Позначте район і остредья повстання Чернігівського полку.

Масштаб 1:6 000 000
(у 1 см 60 км)



ЗАВДАННЯ

1. Зафарбуйте район вирощування цукрового буряку.
2. Підпишіть назви губерній, де вирощували пшеницю на експорт.
3. Підпишіть міста і позначте різними кольорами:
 - залізобудівні та механічні мануфактури;
 - селітрові та порохові заводи;
 - обробка вовни, суконні мануфактури;
 - судноверфи.
4. Позначте центри торгівлі:
 - хлібом;
 - кіньми;
 - вовною;
 - будівельним лісом.
5. Знайдіть або нанесіть на карту рідний населений пункт і позначте його спеціалізацію.
6. Накресліть чумацькі шляхи



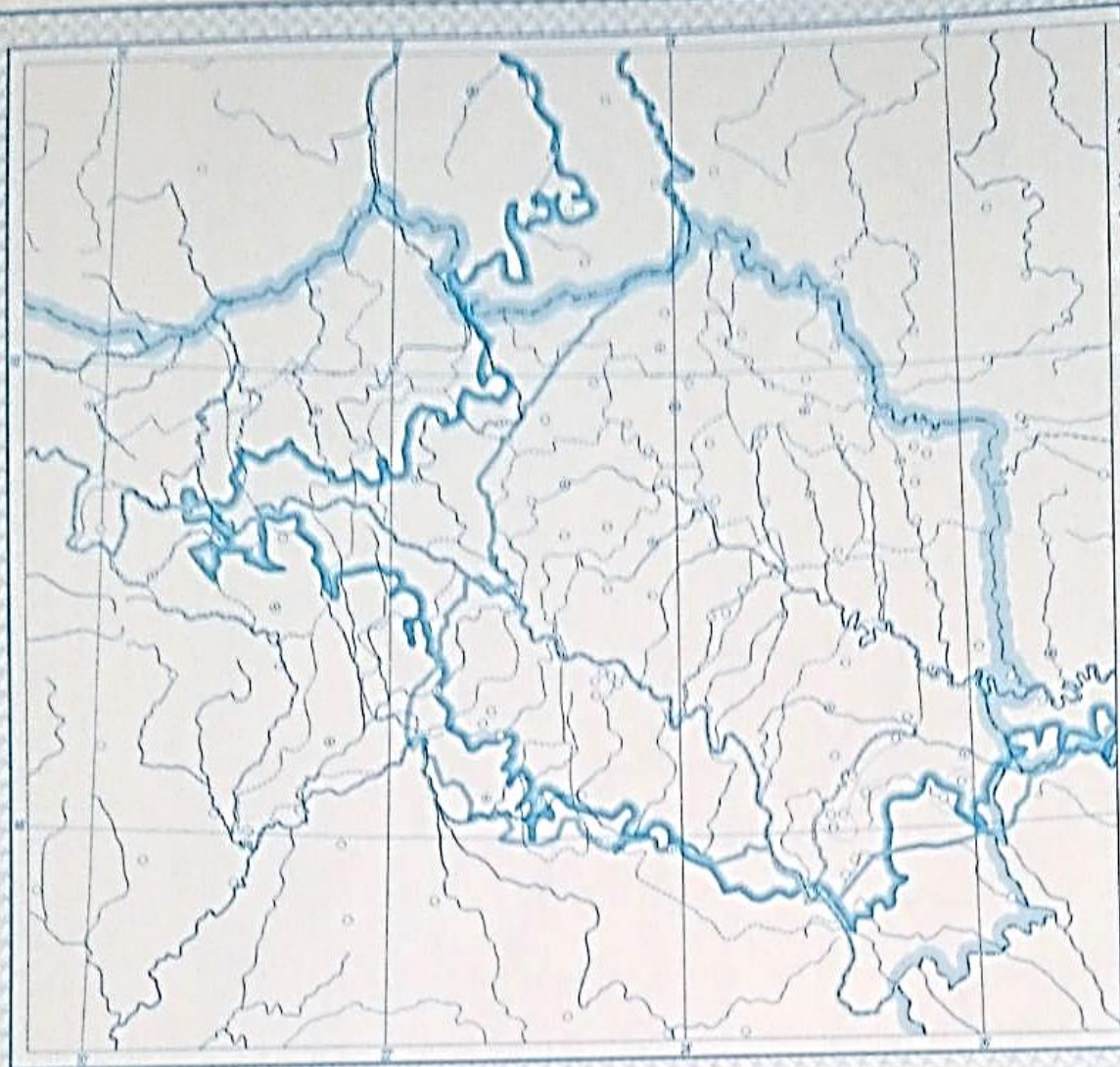
УМОВНІ ПОЗНАЧЕННЯ

УМОВНІ ПОЗНАЧЕННЯ

ЗАВДАННЯ

1. Обведіть державні кордони. Підпишіть назви держав.
2. Підпишіть і позначте різними значками міста, у яких діяли:
 - університети, укажіть роки заснування;
 - інші вищі навчальні заклади;
 - заклади професійної освіти;
 - наукові товариства та установи;
 - ботанічні сади.
3. Позначте місце та рік першого видання:
 - «Енеїди» І. Котляревського;
 - «Кобзаря» Т. Шевченка.
4. Підпишіть місця, де за дорученням Київської археологічної комісії вивчав історичні пам'ятки Т. Шевченко.
5. На карті-врізці підпишіть міста: Санкт-Петербург, Москва, Київ, Канів. Накресліть шлях повернення в Україну пла Т. Шевченка.

Масштаб 1:6 000 000
(1 см 60 км)



- ЗАВДАННЯ**
1. Обведіть червоним кольором державні кордони. Підпишіть назви держав.
 2. Позначте штрихуванням території Східної Галичини і Буковини.
 3. Обведіть межі розселення українців.
 4. Підпишіть і позначте міста, де діяли окружні руські ради.
 5. Позначте район селянського повстання 1848–1849 рр. під проводом Лук'яна Кобилиць.
 6. Позначте дати скасування панщини в Закарпатті, Галичині, Буковині.

УМОВНІ ПОЗНАЧЕННЯ

.....

.....

.....

.....

.....

.....

.....

.....

.....

.....

Масштаб 1:4 000 000
(у 1 см 40 км)

Революційні події у Львові 1848–1849 років

- ЗАВДАННЯ**
1. Підпишіть на плані вулиці – Довга та Святого Юра, площу Ринок.
 2. Підпишіть ратушу, собор Святого Юра, університет.
 3. Позначте місце, де засідала Головна руська рада.
 4. Позначте місця спорудження барикад.
 5. Позначте місця, де виникли пожежі внаслідок артилерійських обстрілів урядовими військами.

УМОВНІ ПОЗНАЧЕННЯ

.....

.....

.....

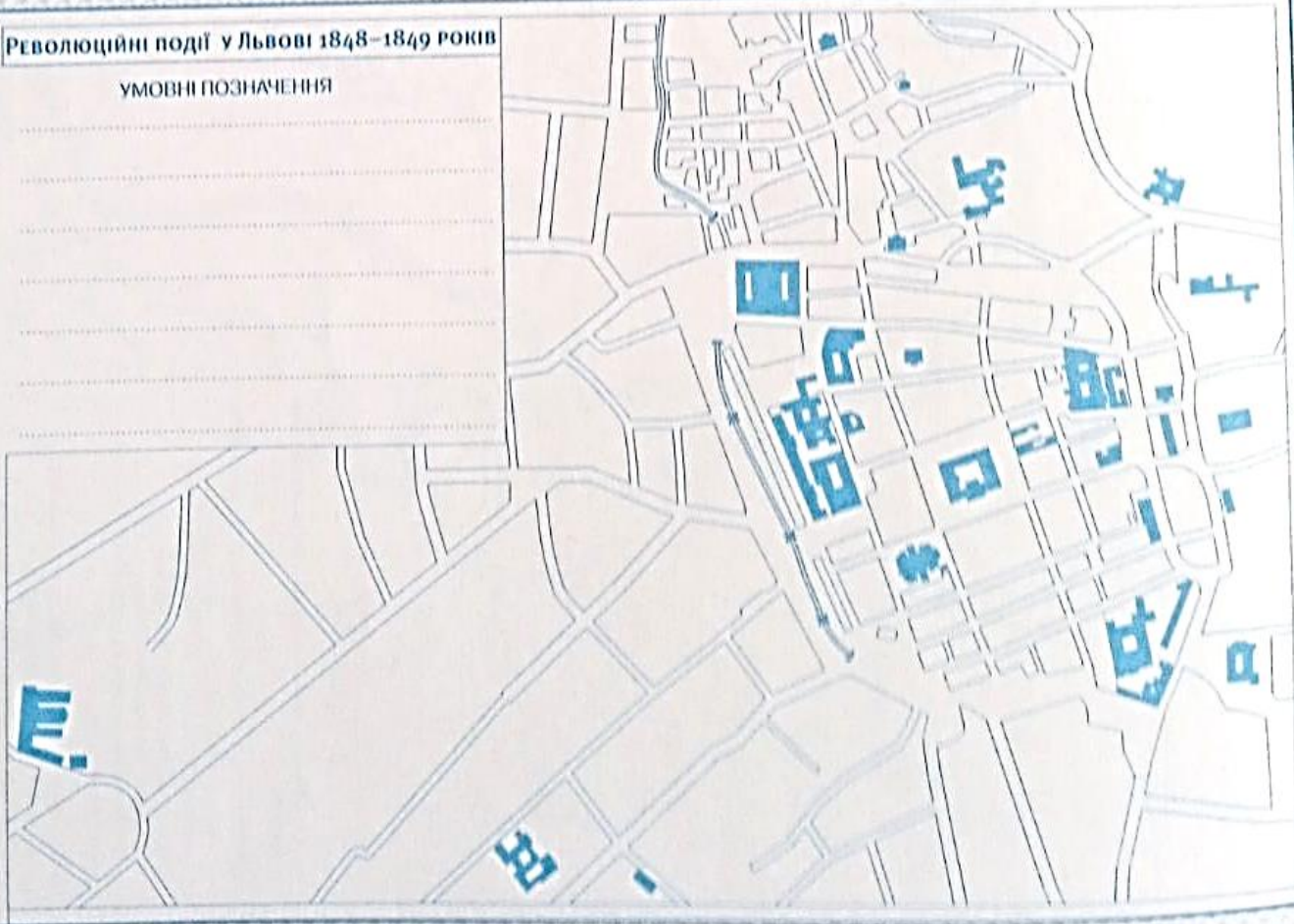
.....

.....

.....

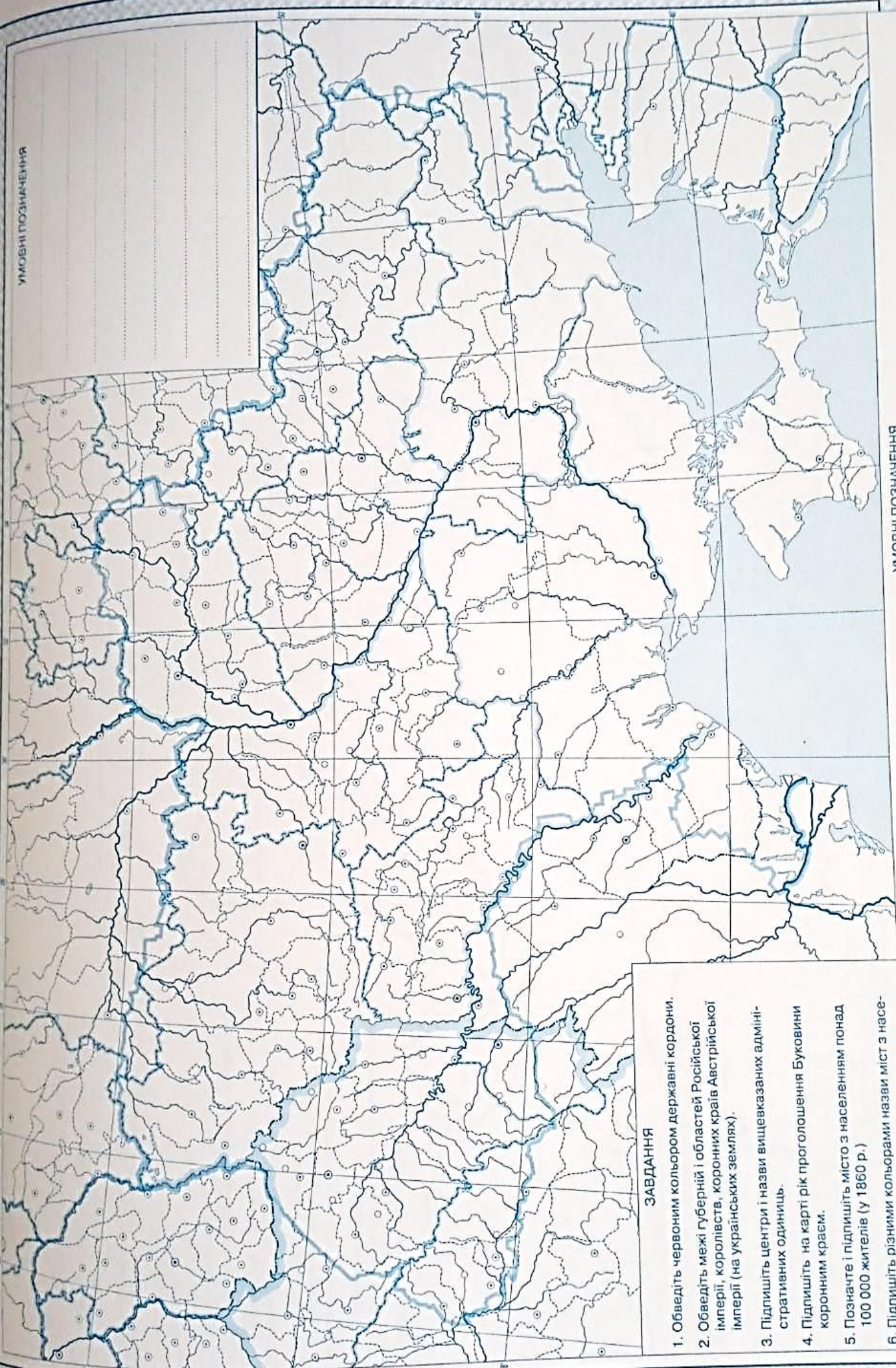
.....

.....



Масштаб 1:12 000
(у 1 см 120 м)

УМОВНІ ПОЗНАЧЕННЯ



УМОВНІ ПОЗНАЧЕННЯ

ЗАВДАННЯ

1. Обведіть червоним кольором державні кордони.
2. Обведіть межі губерній і областей Російської імперії, королівств, коронних країв Австрійської імперії (на українських землях).
3. Підпишіть центри і назви вищевказаних адміністративних одиниць.
4. Підпишіть на карті рік проголошення Буковини коронним краєм.
5. Позначте і підпишіть місто з населенням понад 100 000 жителів (у 1860 р.)
6. Підпишіть різними кольорами назви міст з населенням:
 - від 50 000 до 100 000;
 - від 25 000 до 50 000 жителів.



ЗАВДАННЯ

1. Обведіть державні кордони.
2. Окресліть район зосередження підприємств цукрового синдикату.
3. Позначте та підпишіть міста зосередження вугледобувної промисловості: Юзівку, Алчевськ, Макіївку, Горлівку.
4. Позначте штрихуванням регіони товарного виробництва пшениці.
5. Підпишіть міста і позначте різними кольорами галузі промисловості:
 – нафтодобувна;
 – металургійна;
 – деревообробна;
6. Позначте місто, в якому розташувалися підприємства синдикату «Продаруд».
7. Знайдіть або нанесіть на карту ваш рідний населений пункт і позначте його спеціалізацію.
8. Окресліть райони розміщення іноземного капіталу.

УМОВНІ ПОЗНАЧЕННЯ

УМОВНІ ПОЗНАЧЕННЯ

УМОВНІ ПОЗНАЧЕННЯ



УМОВНІ ПОЗНАЧЕННЯ

ЗАВДАННЯ

1. Обведіть державні кордони.
2. Обведіть території найпотужнішого селянського руху.
3. Позначте місце та рік заснування першої Української громади.
4. Позначте місця діяльності громадського руху у Наддніпрянській Україні.
5. Підпишіть місто, де було засновано першу українську політичну партію. Вкажіть рік заснування.
6. Позначте місце та роки заснування товариства «Руська бесіда».
7. Позначте місце, де діляки спортивно-фізкультурні організації: «Сокол-батько», «Сні».



УМОВНІ ПОЗНАЧЕННЯ

ЗАВДАННЯ

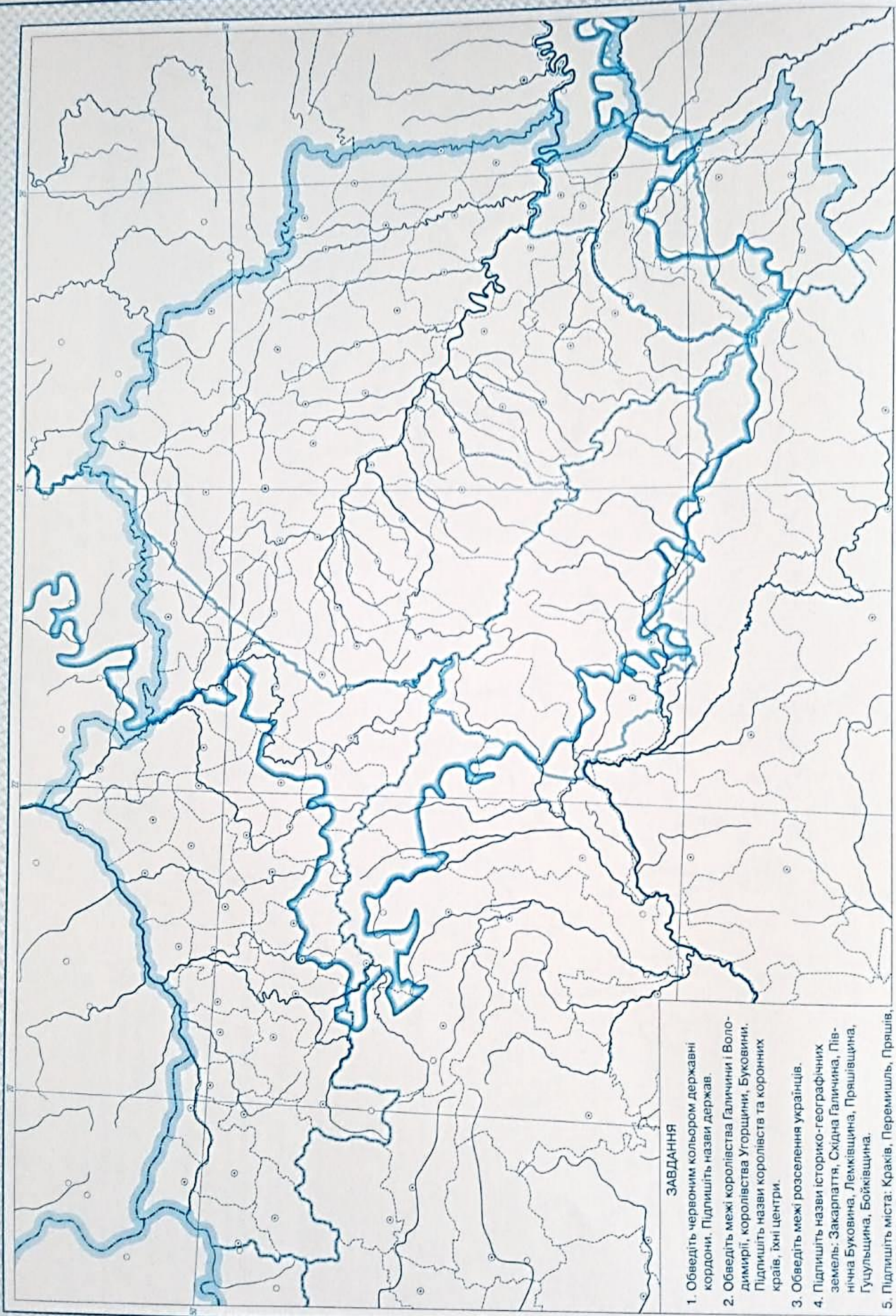
1. Позначте червоним кольором державні кордони наприкінці ХІХ ст.
2. Окресліть територію розселення українців наприкінці ХІХ ст.
3. Підпишіть назви держав, до яких входили українські землі.
4. Підпишіть різними кольорами міста з населенням:
 - понад 400 000;
 - від 100 000 до 300 000;
 - від 50 000 до 100 000.
5. У межах сучасних кордонів України позначте різними кольорами міста компактного проживання (зокрема території змішаного складу): росіян, болгар, поляків, кримських татар, німців.
6. Позначте межу осілості євреїв, на схід від якої їм заборонялося оселятися. Вкажіть роки дії цієї заборони.



ЗАВДАННЯ

1. Підлишіть і позначте міста, охоплені страйками в січні 1905 року.
2. Позначте штрихуванням території масових селянських виступів.
3. Позначте міста, охоплені збройними повстаннями робітників у грудні 1905 року.
4. Позначте міста виступів в армії та на флоті.
5. Позначте й підлишіть місця діяльності товариства «Просвіта».
6. Обведіть зеленим кольором території губерній, де внаслідок земельної реформи П. Столипіна понад 20% усіх селянських господарств вийшли з громад в одноосібне володіння землею.
7. Позначте хрестиком місто, де у вересні 1911 р. було вбито П. Столипіна.

УМОВНІ ПОЗНАЧЕННЯ



ЗАВДАННЯ

1. Обведіть червоним кольором державні кордони. Підпишіть назви держав.
2. Обведіть межі королівства Галичини і Володимирії, королівства Угорщини, Буковини. Підпишіть назви королівств та коронних країв, їхні центри.
3. Обведіть межі розселення українців.
4. Підпишіть назви історико-географічних земель: Закарпаття, Східна Галичина, Північна Буковина, Лемківщина, Пряшівщина, Гуцульщина, Бойківщина.
5. Підпишіть міста: Краків, Перемишль, Пряшів, Ужгород, Хуст, Тернопіль, Станіславів, Коломия, Кам'янець-Подільськ.
6. Позначте міста, де станом на 1913 р. видавалося понад десяток назв українських книжок, газет і часописів.

УМОВНІ ПОЗНАЧЕННЯ

УМОВНЕ ПОЗНАЧЕННЯ



- ЗАВДАННЯ**
- Підпишіть та позначте міста, де діяли:
 - університети;
 - інші вищі навчальні заклади;
 - середні спеціальні заклади.
 - Позначте різними знаками міста та роки діяльності:
 - Південно-Західного відділення Російського географічного товариства;
 - бактеріологічної станції;
 - Наукового товариства ім. Т.Шевченка.
 - Позначте місце та рік створення товариства «Просвіта». Підпишіть назви міст, де діяли філії «Просвіти».
 - Позначте міста, де діяли товариства грамотності.
 - Обведіть території, де більшість населення становили греко-католики.
 - Позначте міста в Наддніпрянській Україні, де станом на 1913 р. видавалося понад десять назв українських книжок, газет і часописів.

УМОВНЕ ПОЗНАЧЕННЯ

ЗМІСТ

Формування модерної української нації	1:6 000 000
1 Українські землі. Адміністративний поділ на початку XIX ст.	1:6 000 000
2 Українські землі в системі міжнародних відносин у першій третині XIX ст. (1806 – 1832 рр.)	1:7 000 000
Українські землі в планах Наполеона Бонапарта	1:19 000 000
3 Суспільно-політичні рухи першої половини XIX ст.	1:6 000 000
4 Господарство в першій половині XIX ст.	1:6 000 000
5 Культурне життя в українських землях у першій половині XIX ст.	1:6 000 000
6 Національно-визвольний рух на західноукраїнських землях у 1848 – 1849 роках	1:4 000 000
Революційні події у Львові 1848 – 1849 років	1:12 000
7 Українські землі. Адміністративний поділ в середині XIX ст.	1:6 000 000
8 Господарство в другій половині XIX – на початку XX ст.	1:6 000 000
9 Суспільно-політичні рухи другої половини XIX ст.	1:6 000 000
10 Українські землі наприкінці XIX ст.	1:6 000 000
11 Події революції 1905–1907 років в Україні. Аграрна реформа П. Столипіна	1:6 000 000
12 Західноукраїнські землі в другій половині XIX – на початку XX ст.	1:2 500 000
Культура і національний рух в Україні другої половини XIX – початку XX ст.	1:6 000 000

КАРТОГРАФІЯ



Навчальні атласи, стінні та контурні карти з історії в магазинах «Атласи та карти»
 Київ, вул. Попудренка, 54. Тел. (044) 292-31-24, 292-02-15, 537-04-77
 Київ, Велика Васильківська вул., 69. Тел. (044) 537-06-18

РЕКОМЕНДОВАНО МІНІСТЕРСТВОМ ОСВІТИ І НАУКИ УКРАЇНИ
 (лист № 1/11-4199 від 16.04.2018)

Контурні карти відповідають санітарному законодавству України
 (висновок № 12.2-18-1/3623 від 27.02.2020)

ДЕРЖАВНА СЛУЖБА УКРАЇНИ З ПИТАНЬ ГЕОДЕЗІЇ, КАРТОГРАФІЇ ТА КАДАСТРУ
 ДЕРЖАВНЕ НАУКОВО-ВИРОБНИЧЕ ПІДПРИЄМСТВО «КАРТОГРАФІЯ»

вул. Попудренка, 54, м. Київ-94, 02094
 Свідоцтво суб'єкта видавничої справи
 ДК № 398 від 03.04.2001

Редактори: Д.І. Тихомиров, Д.В. Ісасв
 О.Ю. Король
 Технічний редактор С.М. Полторако

Формат паперу 62x88/8 Друк офсетний
 Ум. друк. арк. 3,03
 Зам. № 04365

Видруковано ТОВ «Новий друк»,
 Магнітогорська вул., 1, м. Київ-94, 02660
 Свідоцтво суб'єкта видавничої справи
 ДК №1447 від 28.07.2003

©ДНВП «Картографія», 2013 – 2020

ISBN 978-966-946-339-5



9 789669 463395 >